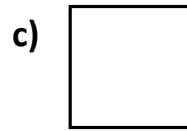
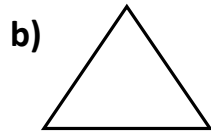
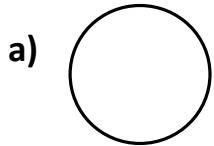
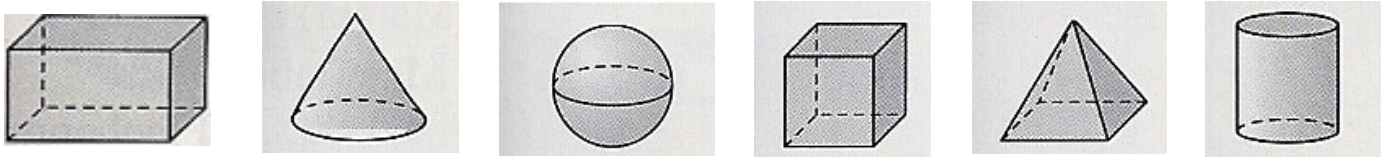


Geometrie	Name:	Klasse:	Datum:
-----------	-------	---------	--------

1. Anne und Peter haben diese Flächenformen in den Sand gedrückt. Welche Körper könnten sie dazu verwendet haben? (Es können auch mehrere sein.)



Tipp: Schau dir dazu die folgenden Bilder der Körperformen nochmal an!



a) _____

b) _____

c) _____

d) _____

2. Lies dir die Sätze durch! Sind sie richtig oder falsch? Kreuze an!

	Richtig	Falsch
a) Eine Getränkedose hat die Form eines Zylinders.		
b) Ein Schuhkarton hat die Form eines Quaders.		
c) Ein Hühnerei hat die Form einer Kugel.		
d) Eine Toilettenpapierrolle hat die Form eines Zylinders.		
e) Eine CD-Hülle hat die Form eines Würfels.		
f) Eine Eiswaffel hat die Form eines Kegels.		
g) Ein Fußball hat die Form einer Kugel.		
h) Ein Buch hat die Form eines Quaders.		