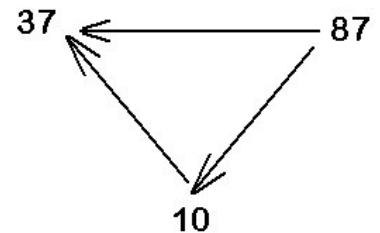
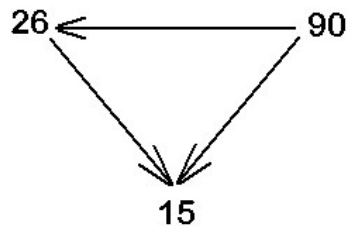
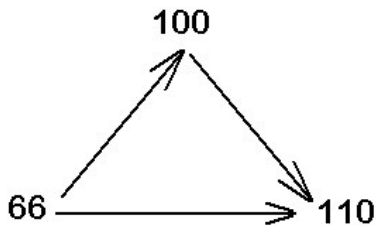


1. Ergänze die Rechenzeichen!

Datum: 9.10.2019

$5 \square 8 \square 12$	$18 \square 3 \square 6$	$3 \square 7 = 6 \square 4$
$50 \square 27 \square 23$	$70 \square 10 \square 7$	$11 \square 90 > 100 \square 1$
$56 - 45 \square 1 \square 12$	$79 \square 63 < 88 \square 71$	$42 \square 6 < 10 \square 2$

2. Pfeilaufgaben



3. Rechengeschichten

a) Jeden Tag spart Karin 3 €. Nach wie vielen Wochen hat sie 42 € zusammen?

b) Sie will sich mit diesem Geld Spielzeug kaufen. Es kostet 69 €. Wie viele Tage muss sie weiter sparen, bis sie es sich leisten kann?

c) Um 17.30 Uhr gibt es Abendessen. Fritz braucht vom Spielplatz 25 Minuten nach Hause. Wann muss er los gehen, wenn er unterwegs noch einkaufen will und dafür 10 Minuten braucht?

d) Meine Zahl ist doppelt so groß wie das Ergebnis von $85 - 60$. Wie heißt meine Zahl?

e) Wenn ich meine Zahl mit dem Ergebnis von $64 : 8$ mal nehme, erhalte ich 40. Wie heißt meine Zahl?
