
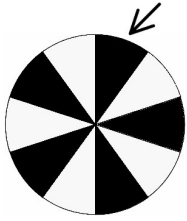


Übungsblatt 1: Daten und Zufall

Name: _____

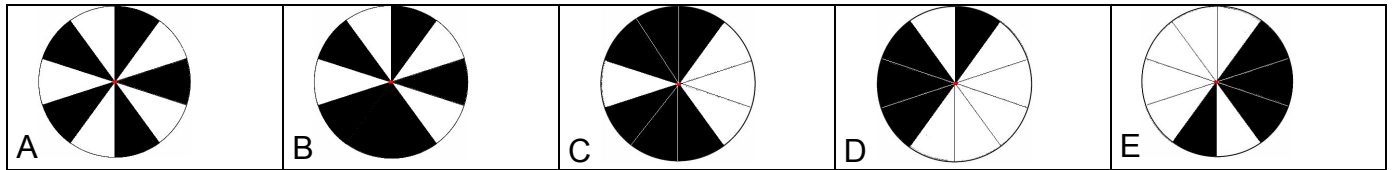


1. Stelle dir vor, dass sich das Glücksrad dreht.
Zu einem dir unbekanntem Zeitpunkt bleibt es plötzlich stehen.



Es gewinnt immer der Teil, der oben rechts sichtbar ist.

a) Schwarz gewinnt.
Welche Räder würdest du wählen, damit du möglichst oft gewinnst?



2. Beschreibe die Begriffe

- a) sicher nicht: _____
- b) wahrscheinlich nicht: _____
- c) vielleicht: _____
- d) wahrscheinlich: _____
- e) sicher: _____

3. Verbinde passende Begriffe!

sicher nicht
vielleicht
wahrscheinlich nicht
sicher

unwahrscheinlich
nie, auf keinen Fall, nicht möglich
immer, auf jeden Fall
50% ja und 50% nein