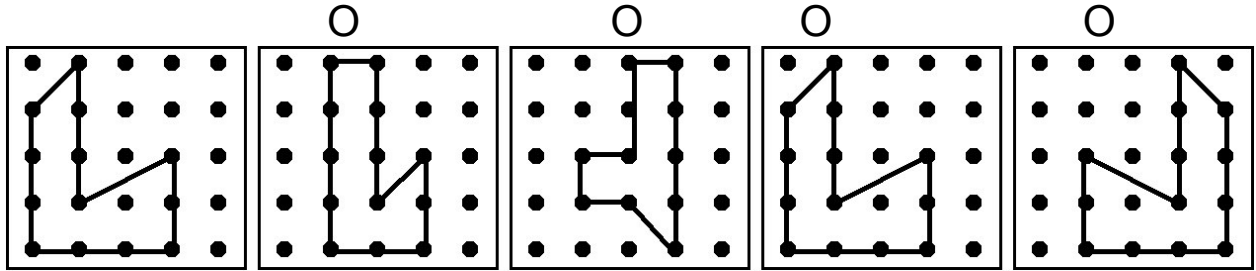
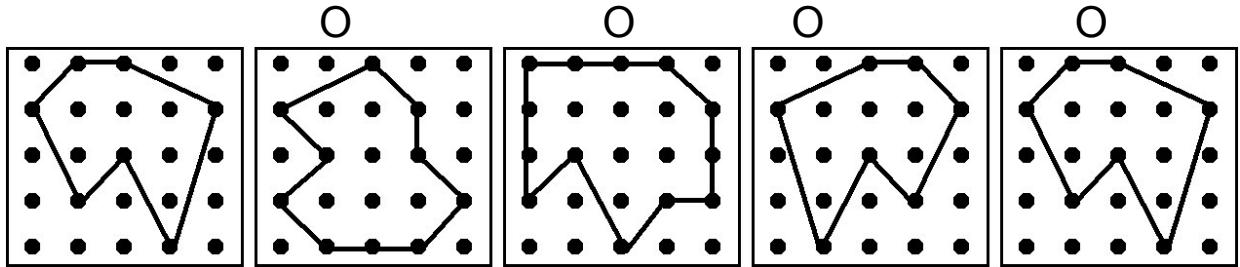


1. Welches Muster ist zum Muster ganz links achsensymmetrisch? Kreuze an!




2. Welches Muster ist zum Muster ganz links achsensymmetrisch? Kreuze an!



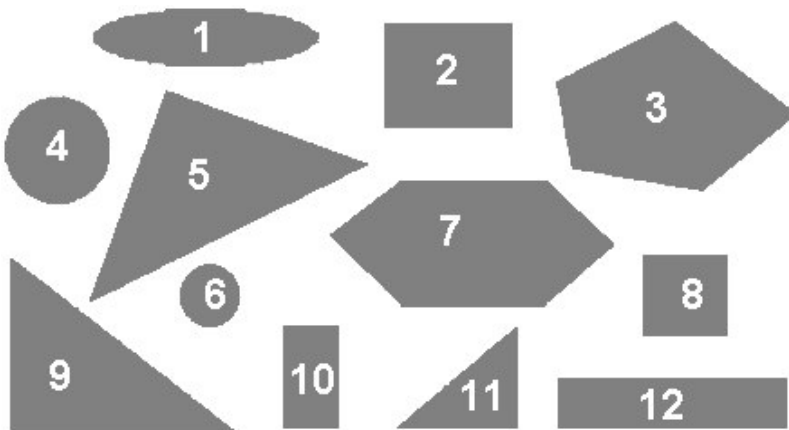
3. Rätsel

Zeichne zwei Flächenformen, die sich nebeneinander befinden!

- Das Rechteck ist nicht größer und nicht rot.
- Eine Form ist kleiner als die andere.
- Das Dreieck ist gelb.



4. Welche Nummer(n) passt/passen zu welchen Wörtern? Ordne richtig zu!

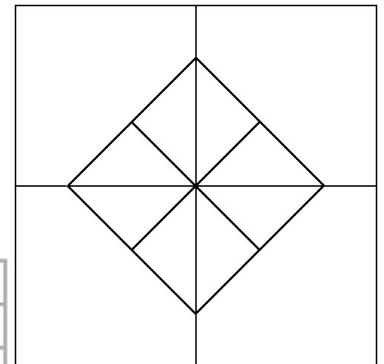


- Kreis: \_\_\_\_\_
- Sechseck: \_\_\_\_\_
- Quadrat: \_\_\_\_\_
- Dreieck: \_\_\_\_\_
- Rechteck: \_\_\_\_\_
- Fünfeck: \_\_\_\_\_

5. Was siehst du?

Ich sehe insgesamt \_\_\_\_\_ Quadrate.

Ich sehe insgesamt \_\_\_\_\_ Dreiecke.



6. Zeichne die Figuren vom Geobrett auf das Karopapier ab!

