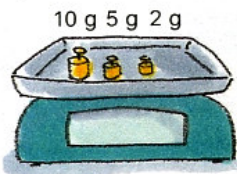
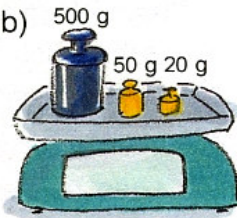


1 Was zeigt die digitale Waage an? Welche Vorteile hat die digitale Waage?

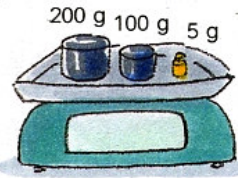
a)




b)



c)




d)




2 Ali und Tim haben einen Kuchen gebacken. Alle Packungen waren voll. Wie viel Gramm Mehl, Butter, Zucker und Rosinen verbrauchten sie für den Kuchen?


A




B



C



D




3 Wie viel wiegen die vollen Gläser, wie viel die leeren?

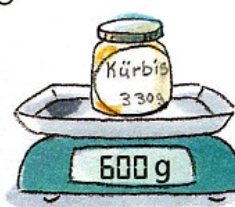
A



B



C



D



4 Übertrage die Tabelle in dein Heft. Berechne die fehlenden Gewichte.


	A	B	C	D	E	F
Gewicht des Gefäßes	230 g	45 g	60 g	340 g		
Gewicht des Inhalts	370 g	565 g			430 g	450 g
Gesamtgewicht			250 g	590 g	1 kg	1 kg 240 g

5 Wie viel Gramm fehlen bis zu 1 kg?

	750 g	500 g	980 g	976 g	400 g	360 g	355 g	240 g	179 g	25 g
1 kg										

6 Wie viel wiegt eine Kugel? Rechne und antworte.


a)



b)



c)



Zum Knobeln
Probieren
Radieren