


Datum: _____

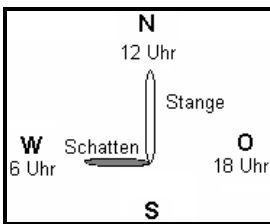


Das ist der Indianerjunge „Kleiner Fuchs“. Er hat gelernt, sich überall zurechtzufinden. Hier verrät er dir seine Geheimnisse:



Die _____ zeigt die Himmelsrichtungen an: Um 12 Uhr mittags steht die Sonne im _____. Wenn du dich am Mittag in Richtung zur Sonne stellst, dann zeigt deine rechte Hand nach _____, die linke nach _____. Im Rücken ist _____.

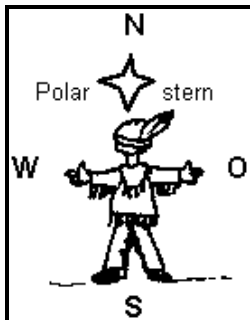
Aber Vorsicht: Nie in die Sonne schauen! Das schadet deinen Augen sehr!



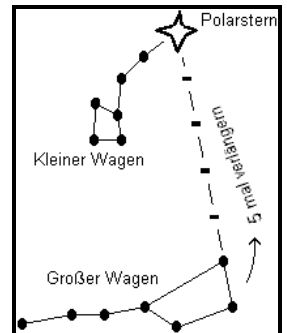
Der _____ weist die Himmelsrichtungen: Der Schatten eines Pfostens oder Baumes zeigt um 6 Uhr früh nach _____, um 12 Uhr nach _____ und um 18 Uhr nach _____. _____ ist der Schatten am kleinsten.



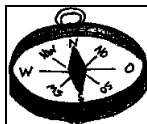
_____ als Richtungsweiser: Die Stämme von alleinstehenden Bäumen sind an der _____ oft mit einer moosartigen Flechte bewachsen, weil der meiste Regen von _____ kommt



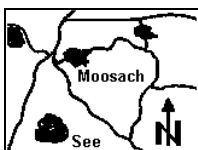
Der _____ als Nordstern: Er steht immer im _____. Du findest ihn leicht am nächtlichen Himmel, denn er strahlt _____. Der Polarstern ist der letzte Stern des Sternbildes _____.



Wie können wir uns noch auf der Erde zurechtfinden?



Der _____ hilft uns: Die _____ zeigt immer nach _____.



Die _____ hilft uns: Norden ist auf der Karte immer _____, Süden immer _____, Westen _____ und Osten immer _____.

Westen – Osten – Schatten – Norden – Sonne – Kleiner Fuchs findet sich zurecht – Westen Westseite – Norden – Süden – Mittags – Bäume – rechts – Kompass – links – oben – Kompassnadel unten – Norden – Landkarte – „Kleiner Wagen“ – Polarstern – Westen – hell – Osten – Norden