

1 Ordne die Berge nach der Höhe. Beginne mit dem höchsten Berg.

Berge in Bayern

Leitenberg	469 m	Abenberger Wald
Teufelstisch	901 m	Bayerischer Wald
Hoher Peißenberg	987 m	Ammergebirge
Hohberg	863 m	Fichtelgebirge
Blankenstein	644 m	Schwäbische Alb
Hirschhöhe	537 m	Spessart

2 Berechne jeweils den Höhenunterschied zwischen zwei Bergen.

a) Leitenberg und
Teufelstisch

b) Hoher Peißenberg und

c) _____

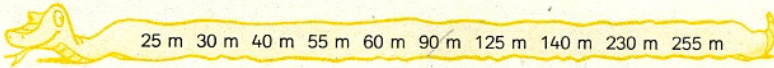
3 Wie groß sind die Unterschiede?

a)

720 m	360 m	480 m	480 m	470 m
90 m				
630 m	420 m	425 m	225 m	500 m

b)

840 m	840 m	840 m	840 m	765 m
800 m	980 m	610 m	965 m	790 m



4 a) Hier sind immer zwei Lösungen möglich.


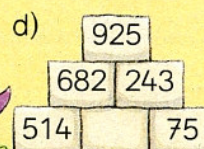
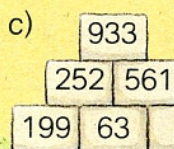


a)

300 m	305 m	302 m		
50 m	120 m	301 m	240 m	15 m
			295 m	590 m

b)

10 m	98 m	290 m	175 m	900 m

5 Wie heißen die fehlenden Zahlen? Rechne schriftlich.



3	8	7																	
-																			