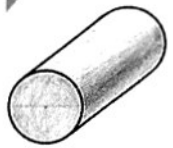
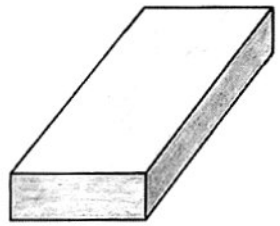


Körper

1 a) Welche Körperformen sind hier abgebildet?



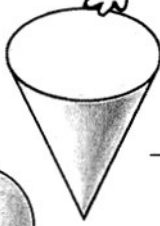
Zylinder



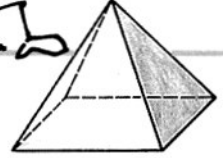
Quader



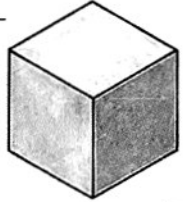
Kugel




Kegel



Pyramide



Würfel



b) Welcher Körper hat ...



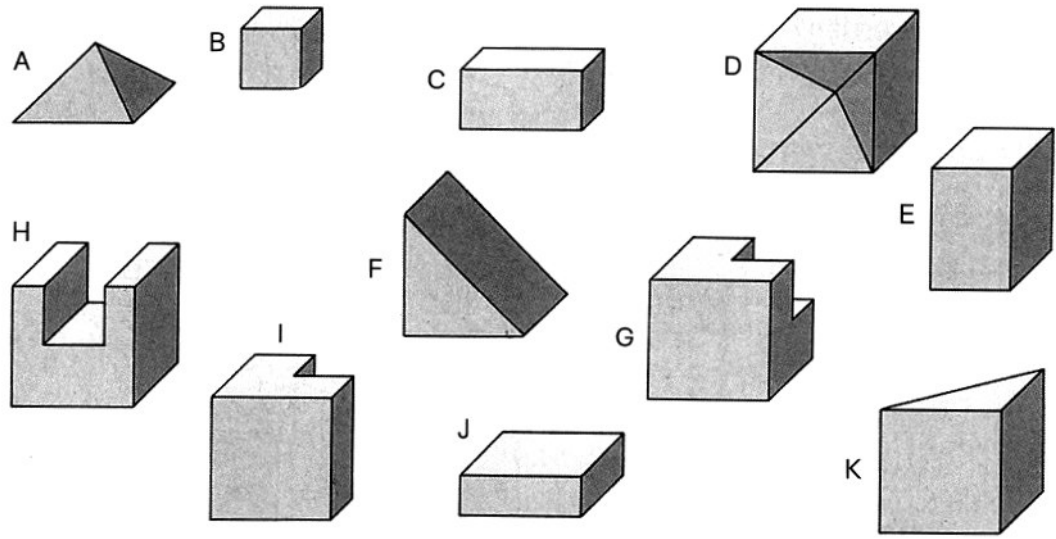
- keine Kante ? Kugel
- 1 Kante ? Kegel
- 2 Kanten? Zylinder
- 8 Kanten? Pyramide
- 12 Kanten? Quader, Würfel

- 1 Fläche ? Kugel
- 2 Flächen? Kegel
- 3 Flächen? Zylinder
- 5 Flächen? Pyramide
- 6 Flächen? Quader, Würfel

2 In welcher Reihenfolge wurde der Turm gebaut? In der richtigen Reihenfolge ergeben die Buchstaben ein Lösungswort.

T U R M F A L K E

3 Immer zwei Körper lassen sich zu einem Würfel zusammensetzen. Schreibe auf:



- A und D
- B und G
- C und H
- E und J
- F und K
- und —