






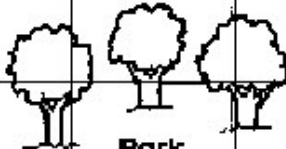





Straßen in der Stadt

Regel: Schau **zuerst** nach dem **Buchstaben** und **dann** nach der **Zahl**!

8		Notaufnahme							
7	7				Haus			Bowlingcenter	
		Obere Straße							
6	6				Pfadfindergruppe			Bahnhof	
5	5	Stadthalle							
	Sonnenallee	Hauptstraße	Mondstraße				Sternenweg		
4	4				Park				
3	3	Schule							
		Untere Straße							
2	2			Bushaltestelle				Restaurant	
1	1								
	A	B	C	D	E	F	G	H	I

Was befindet sich in folgenden Planquadraten?

1. C 3 Schule	3. H 5 Bahnhof	5. C 2 Spielplatz
2. H 2 Restaurant	4. F 5 Pfadfindergruppe	6. C 7 Notaufnahme

Welche Straßen verlaufen durch folgende Planquadrate?

7. C 6 Obere Straße	9. G 4 Hauptstraße, Sternenweg	11. B 1 Sonnenallee
8. C 2 Untere Straße	10. D 5 Hauptstraße, Mondstraße	12. C 4 Hauptstraße