












Straßen in der Stadt

Regel: Schau **zuerst** nach dem **Buchstaben** und **dann** nach der **Zahl!**

8		Notaufnahme							
7	7				Haus			Bowlingcenter	
		Obere Straße							
6	6				Pfadfindergruppe			Bahnhof	
		Stadthalle							
5	5	Sonnenallee		Mondstraße			Sternweg		
		Hauptstraße							
4	4				Park				
		Schule							
3	3	Untere Straße							
2	2				Bushaltestelle			Restaurant	
		Spielplatz							
1	1	A	B	C	D	E	F	G	H
									I

Was befindet sich in folgenden Planquadraten?

1. C 3 _____	3. H 5 _____	5. C 2 _____
2. H 2 _____	4. F 5 _____	6. C 7 _____

Welche Straßen verlaufen durch folgende Planquadrate?

7. C 6 _____	9. G 4 _____	11. B 1 _____
8. C 2 _____	10. D 5 _____	12. C 4 _____