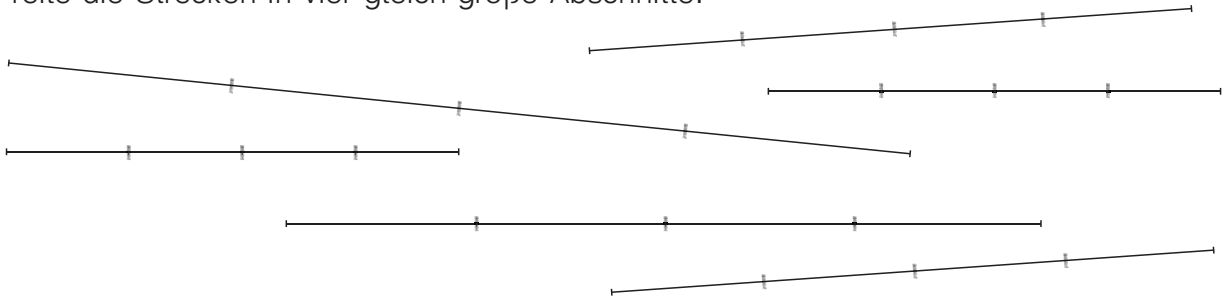
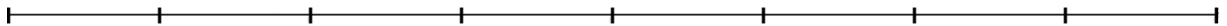


Strecken haben einen Anfang und ein Ende

- 1 a) Halbiere die Strecken. °°°  
 b) Teile die Strecken in vier gleich große Abschnitte.

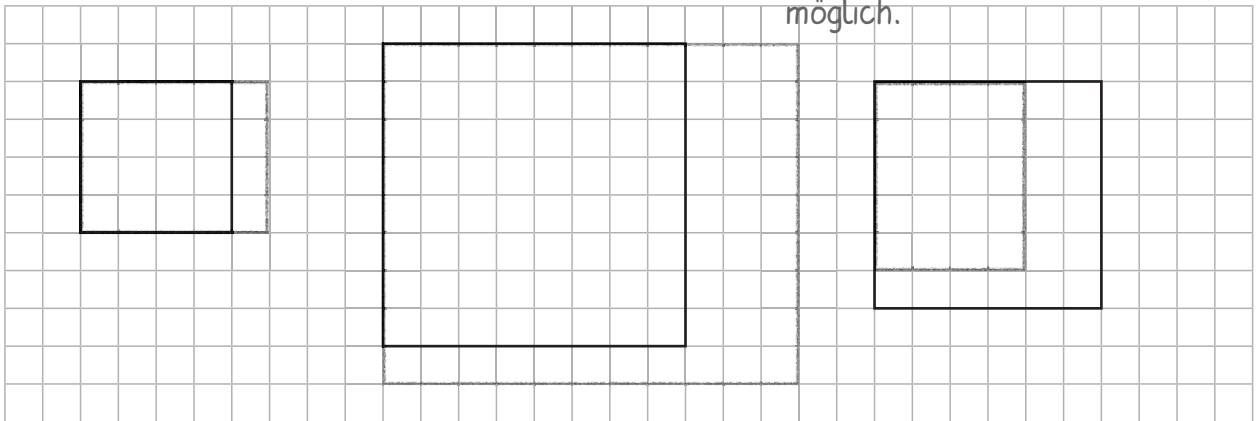


- 2 a) Zeichne eine 10 cm lange Strecke. Verlängere die Strecke um 6 cm.

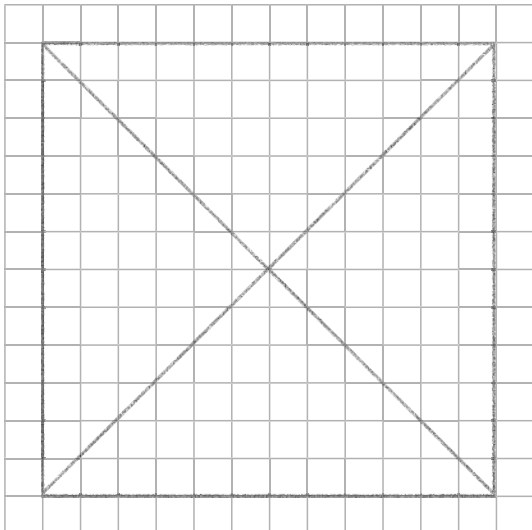


- b) Teile die entstandene Strecke in zwei, dann in vier und dann in acht gleich große Abschnitte.

- 3 Verändere die abgebildeten Quadrate so, dass jeweils ein Rechteck entsteht. Zeichne die Seiten der entstandenen Rechtecke farbig. Hier sind verschiedene Lösungen möglich.



- 4 Zeichne ein Quadrat. Eine Seite ist 6 cm lang.



Hier sind auch vier gleich große

- a) Teile das Quadrat in vier gleich große Teile.  
 b) Beschreibe eines der vier Teile. Quadrate möglich.

Es sind vier gleich große Dreiecke.

Zwei Seiten eines Dreiecks sind gleich lang.

---

---

---

---

---

---

