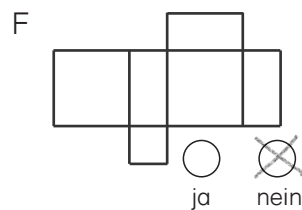
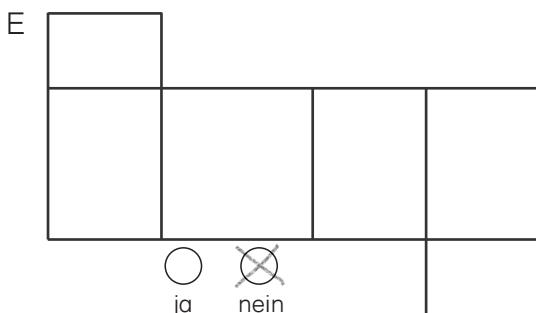
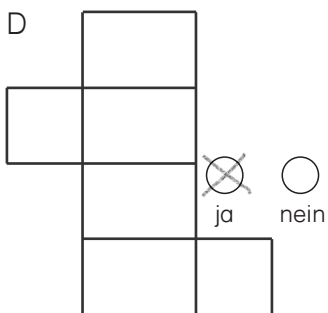
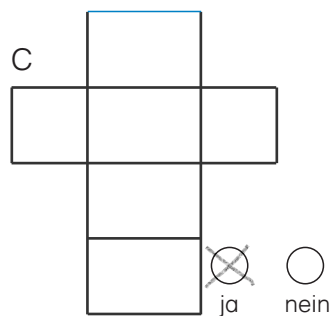
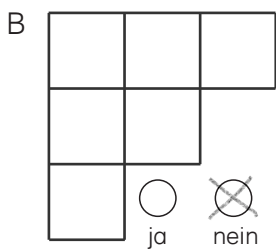
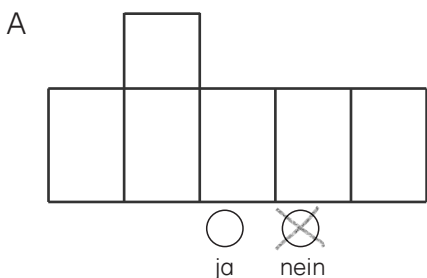


1 Kannst du aus diesen Netzen einen Quader falten?



Hier sind verschiedene Lösungen

2 a) An jedem Netz fehlt eine Fläche. Zeichne sie. möglich.  
 b) Male gegenüberliegende Seiten mit derselben Farbe an.

Zeichne auf Karopapier. Schneide aus und prüfe nach.