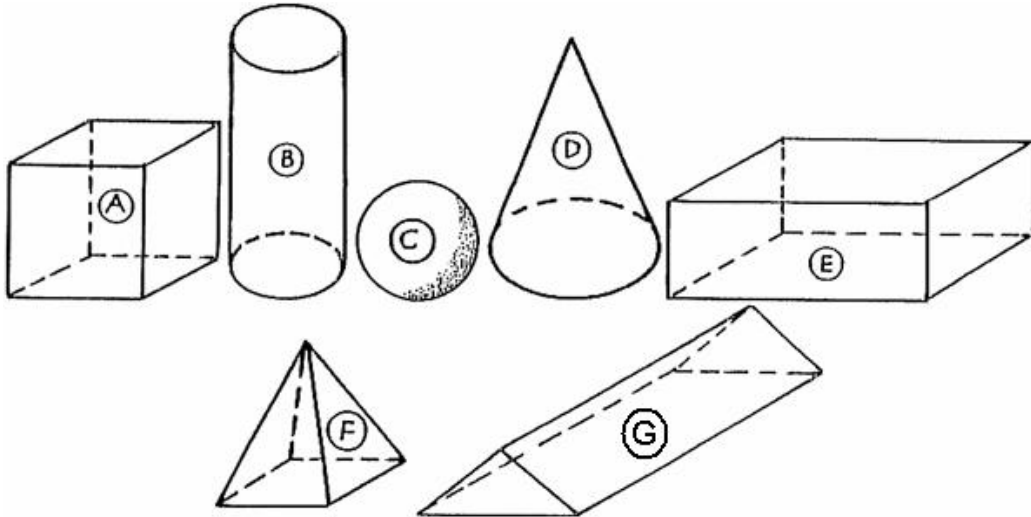


Geometrie: Übungsblatt 5

Name: _____

1. Hier siehst du geometrische Körper. Fülle die Tabelle korrekt aus!

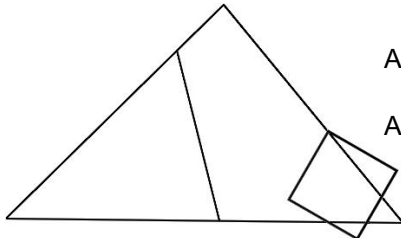


Körper	Bezeichnung	Ecken	Kanten	Flächen	Besonderheit
A					
B					
C					
D					
E					
F					
G					

2. Erkläre den Unterschied zwischen Quadrat und Würfel!

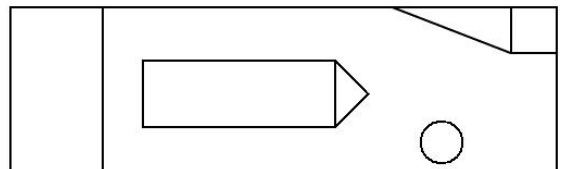
3. a) Wie viele Dreiecke findest du hier?

b) Wie viele Vierecke findest du hier?



Antwort a): _____

Antwort b): _____



4. An welche geometrischen Körper erinnern dich diese Gegenstände?

a) Kasperlhut: _____

d) Klorolle: _____

b) langes Hausdach: _____

e) Ziegelstein: _____

c) Fußball: _____

f) Dach eines Turmes: _____