

Rechenmeister, Blatt 1

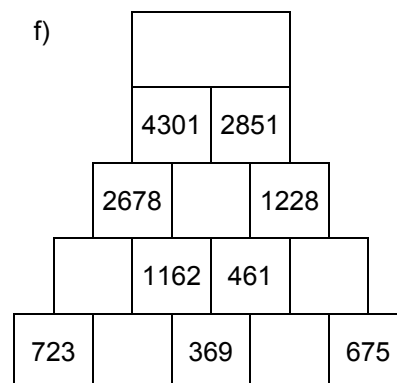
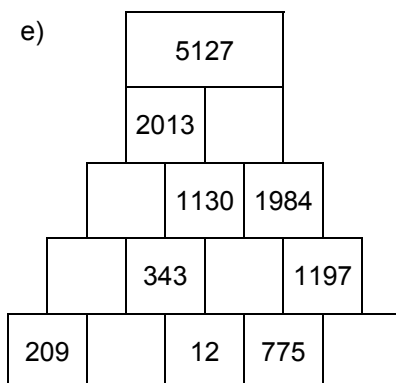
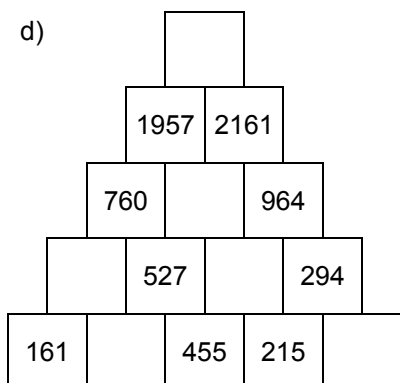
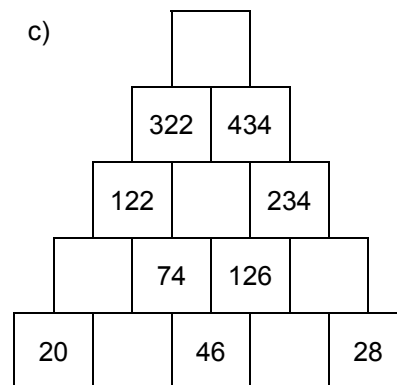
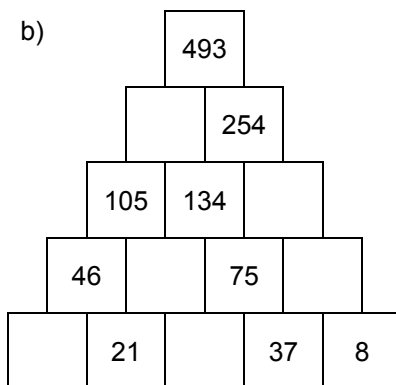
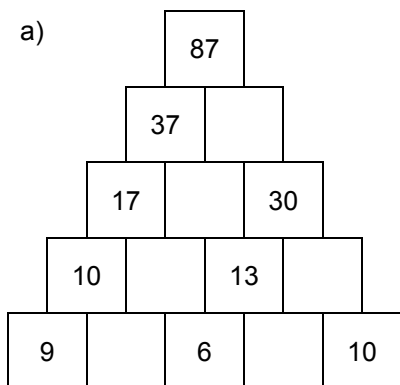
Bist du ein großer Rechenmeister?

Name: _____, 4a

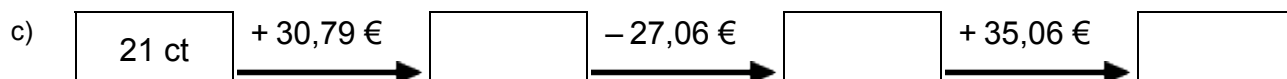
Datum: _____



1. Rechenpyramiden: Immer 2 Steine werden nach oben zum Mittelstein addiert. Ergänze die fehlenden Zahlen!



2. Meter, Kilometer, Gramm, Kilogramm, Euro: Ergänze die fehlenden Werte!



3. Einmaleins: Ergänze die fehlenden Werte!

a)

	• 2	• 5	• 4	• 3	• 6	• 7
6						
3						
8						
2						
5						
4						
7						

b)

	• 4	• 5	• 7	• 6	• 2	• 3
13						
15						
14						
17						
11						
12						
16						

Rechenmeister, Blatt 2

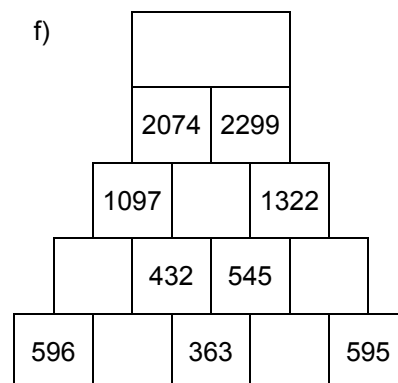
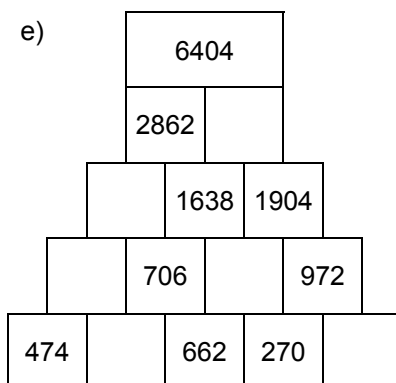
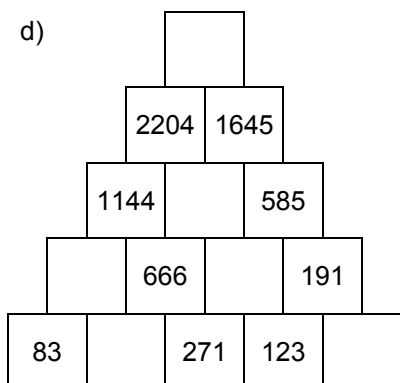
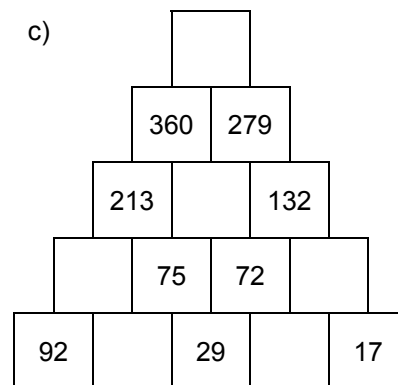
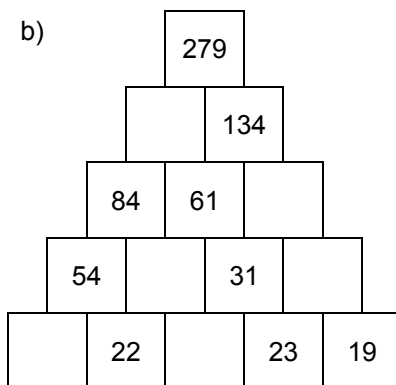
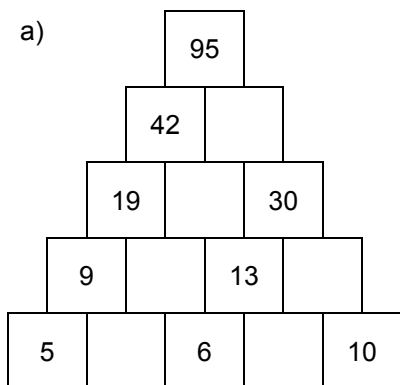
Bist du ein großer Rechenmeister?

Name: _____, 4a

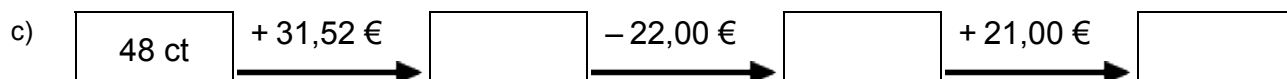
Datum: _____



1. Rechenpyramiden: Immer 2 Steine werden nach oben zum Mittelstein addiert. Ergänze die fehlenden Zahlen!



2. Meter, Kilometer, Gramm, Kilogramm, Euro: Ergänze die fehlenden Werte!



3. Einmaleins: Ergänze die fehlenden Werte!

a)

	• 5	• 4	• 6	• 3	• 7	• 2
7						
4						
5						
6						
2						
3						
8						

b)

	• 2	• 5	• 7	• 6	• 3	• 4
17						
13						
15						
14						
16						
11						
12						