

# Rechenmeister, Blatt 5

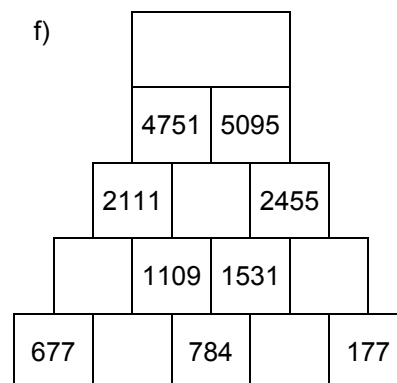
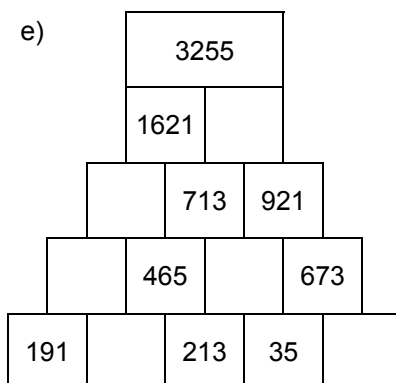
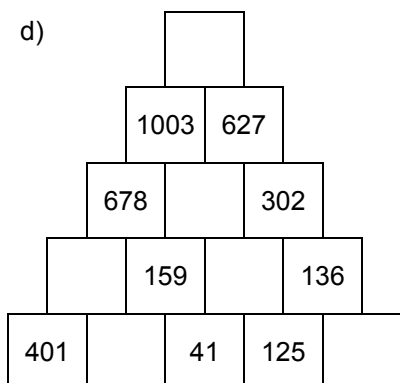
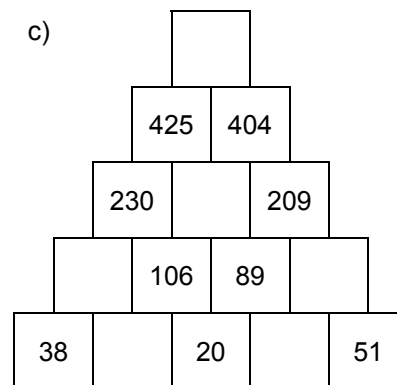
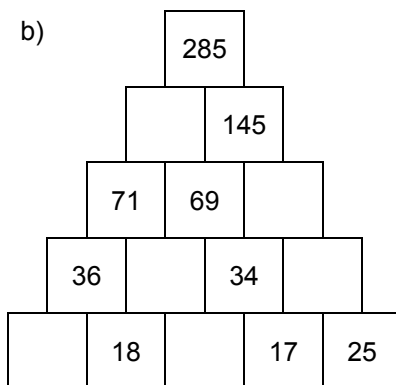
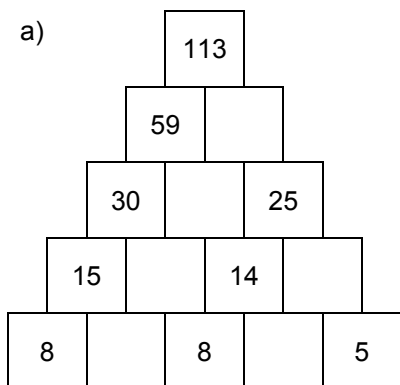
Bist du ein großer Rechenmeister?

Name: \_\_\_\_\_, 4a

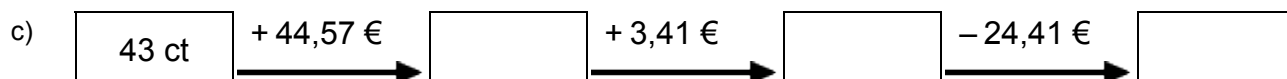
Datum: \_\_\_\_\_



## 1. Rechenpyramiden: Immer 2 Steine werden nach oben zum Mittelstein addiert. Ergänze die fehlenden Zahlen!



## 2. Meter, Kilometer, Gramm, Kilogramm, Euro: Ergänze die fehlenden Werte!



## 3. Einmaleins: Ergänze die fehlenden Werte!

a)

	• 7	• 6	• 5	• 3	• 4	• 2
3						
4						
6						
5						
2						
8						
7						

b)

	• 2	• 4	• 3	• 5	• 6	• 7
16						
13						
17						
12						
15						
14						
11						

# Rechenmeister, Blatt 6

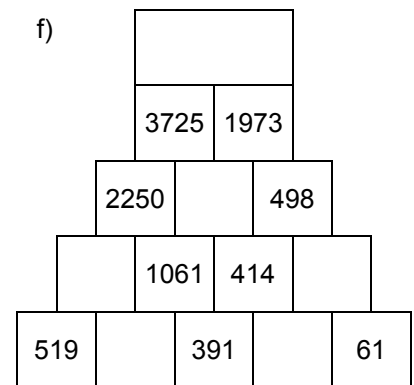
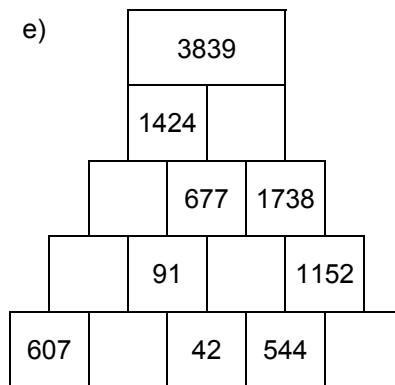
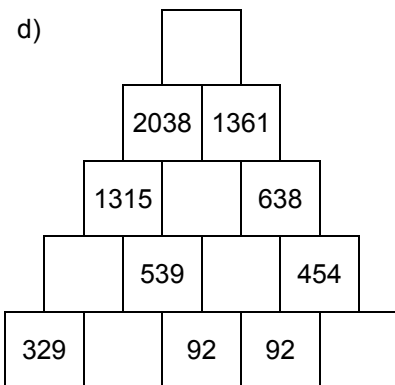
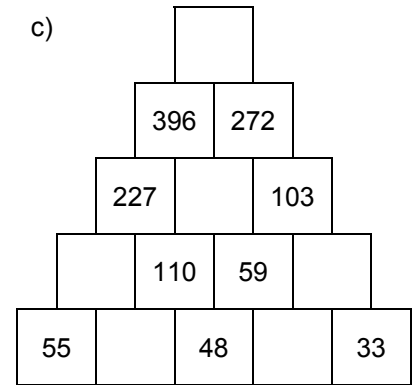
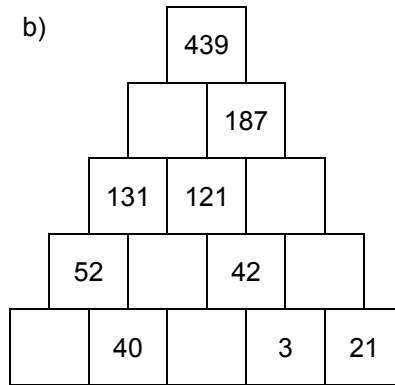
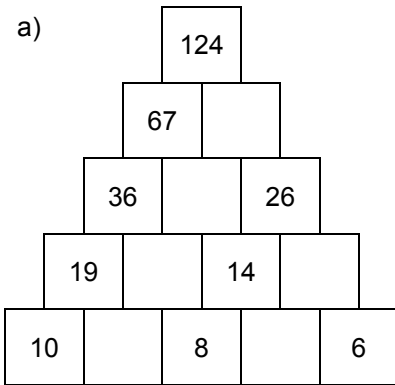
Bist du ein großer Rechenmeister?

Name: \_\_\_\_\_, 4a

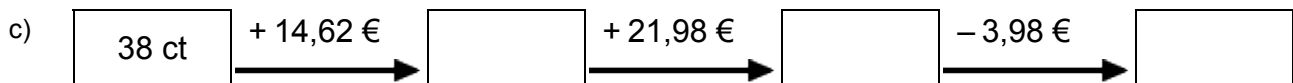
Datum: \_\_\_\_\_



## 1. Rechenpyramiden: Immer 2 Steine werden nach oben zum Mittelstein addiert. Ergänze die fehlenden Zahlen!



## 2. Meter, Kilometer, Gramm, Kilogramm, Euro: Ergänze die fehlenden Werte!



## 3. Einmaleins: Ergänze die fehlenden Werte!

a)

	• 7	• 3	• 6	• 5	• 4	• 2
7						
4						
2						
6						
3						
8						
5						

b)

	• 7	• 5	• 6	• 3	• 4	• 2
16						
15						
12						
11						
13						
14						
17						