

# Rechenmeister, Blatt 9

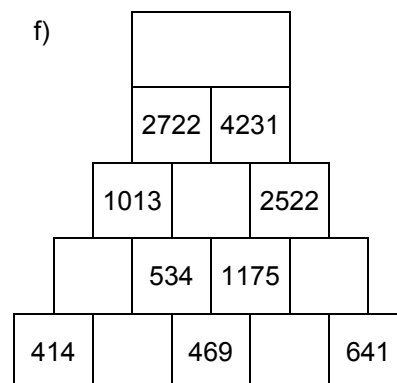
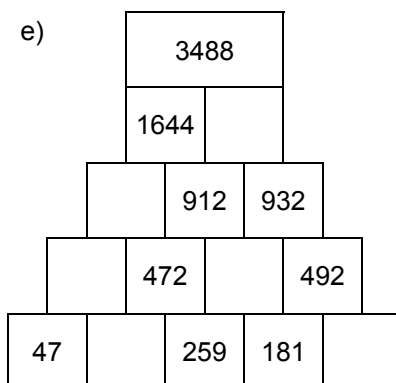
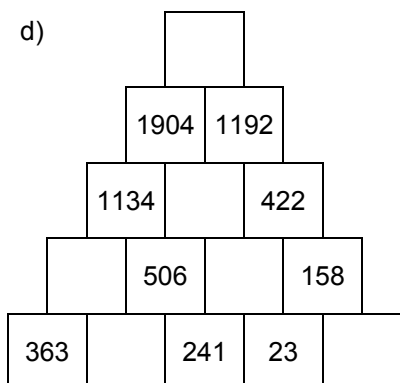
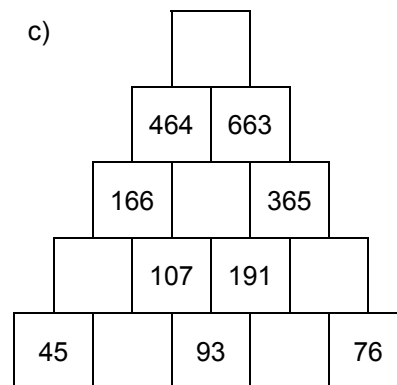
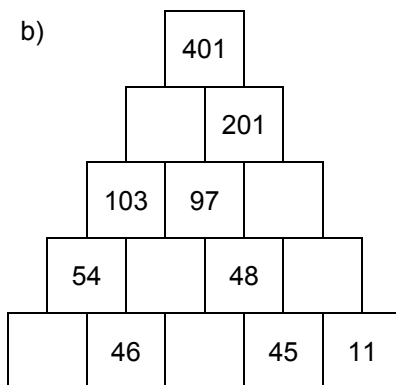
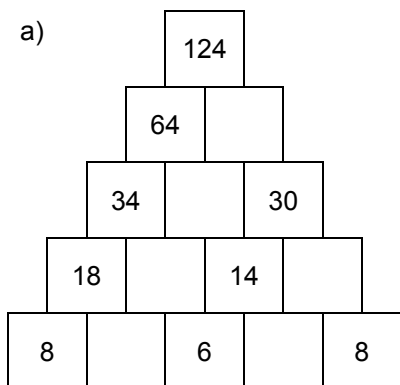
Bist du ein großer Rechenmeister?

Name: \_\_\_\_\_, 4a

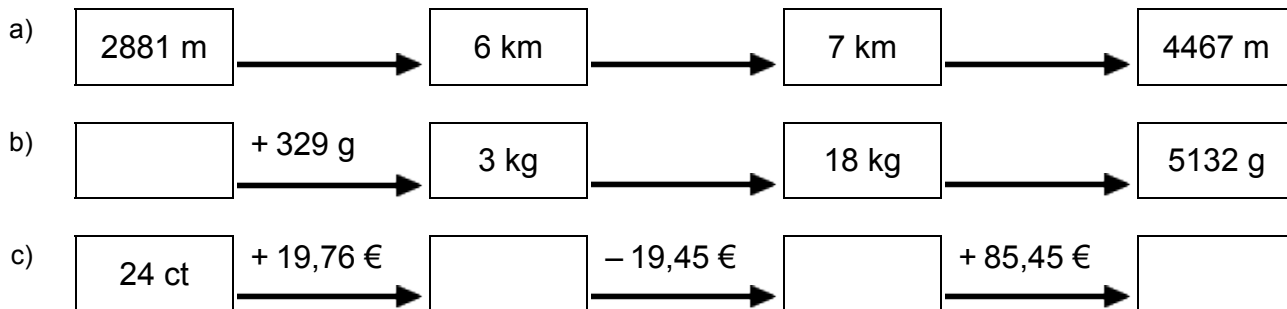
Datum: \_\_\_\_\_



## 1. Rechenpyramiden: Immer 2 Steine werden nach oben zum Mittelstein addiert. Ergänze die fehlenden Zahlen!



## 2. Meter, Kilometer, Gramm, Kilogramm, Euro: Ergänze die fehlenden Werte!



## 3. Einmaleins: Ergänze die fehlenden Werte!

a)

	• 2	• 6	• 4	• 7	• 3	• 5
4						
6						
2						
3						
7						
5						
8						

b)

	• 2	• 5	• 7	• 3	• 4	• 6
11						
17						
12						
16						
13						
14						
15						

# Rechenmeister, Blatt 10

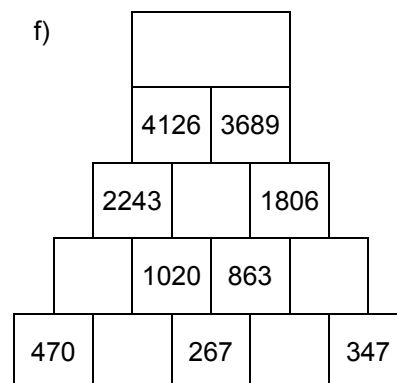
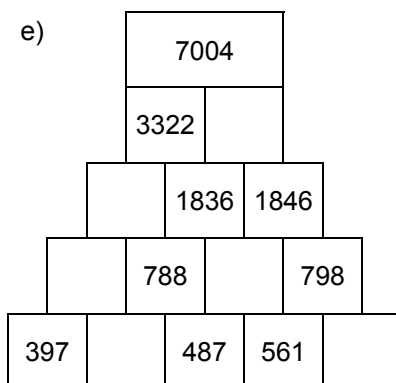
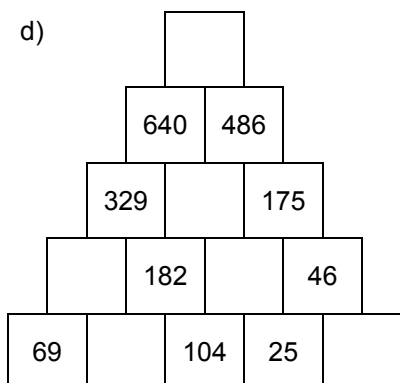
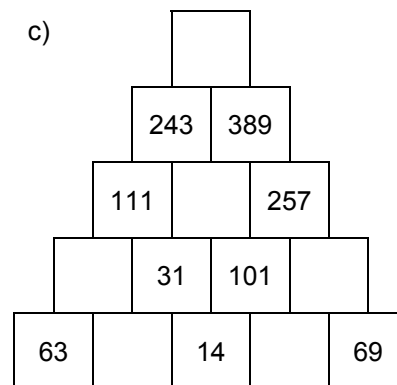
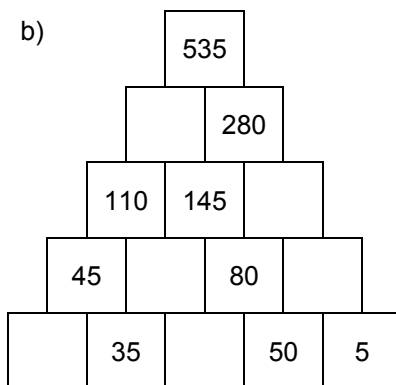
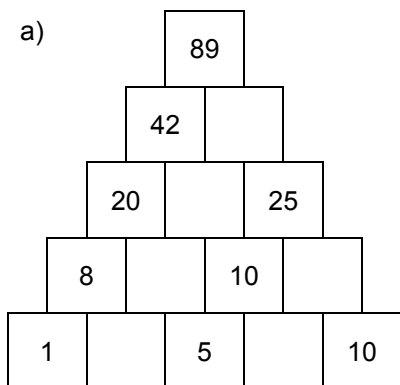
Bist du ein großer Rechenmeister?

Name: \_\_\_\_\_, 4a

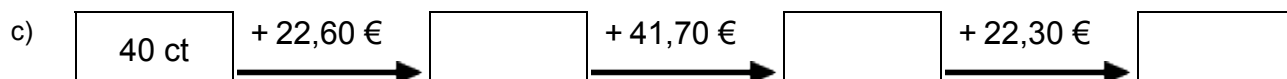
Datum: \_\_\_\_\_



## 1. Rechenpyramiden: Immer 2 Steine werden nach oben zum Mittelstein addiert. Ergänze die fehlenden Zahlen!



## 2. Meter, Kilometer, Gramm, Kilogramm, Euro: Ergänze die fehlenden Werte!



## 3. Einmaleins: Ergänze die fehlenden Werte!

a)

	• 5	• 6	• 2	• 7	• 3	• 4
3						
4						
8						
5						
6						
7						
2						

b)

	• 3	• 7	• 5	• 4	• 6	• 2
17						
13						
11						
16						
15						
12						
14						