

Rechenmeister, Blatt 11

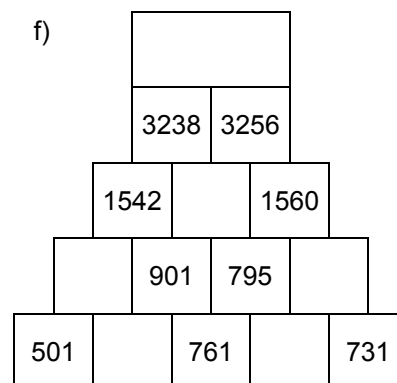
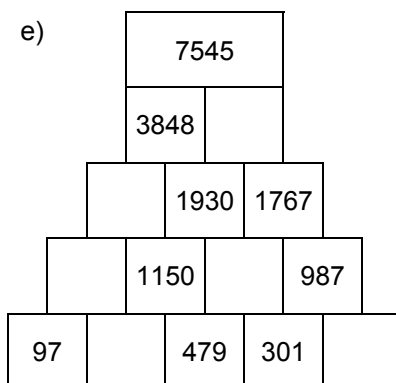
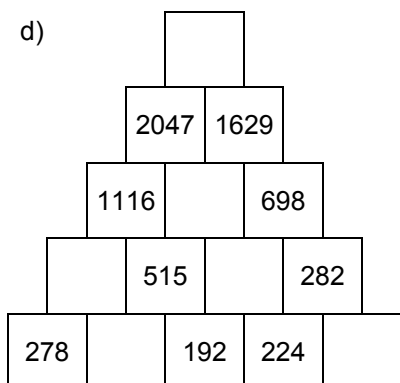
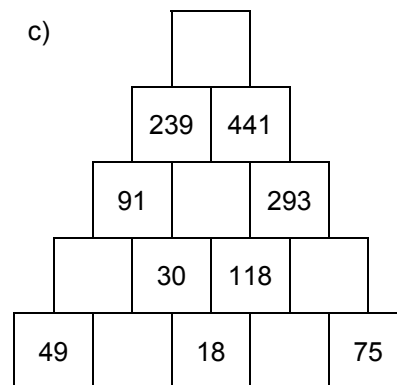
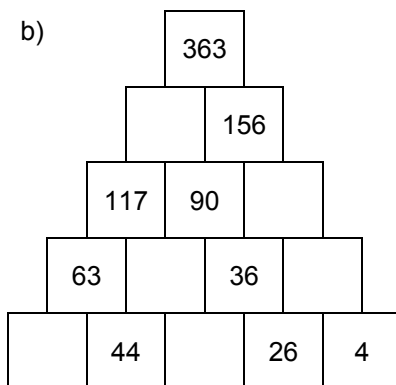
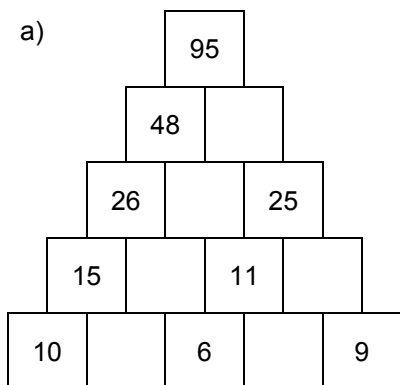
Bist du ein großer Rechenmeister?

Name: _____, 4a

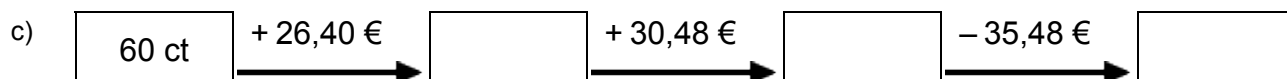
Datum: _____



1. Rechenpyramiden: Immer 2 Steine werden nach oben zum Mittelstein addiert. Ergänze die fehlenden Zahlen!



2. Meter, Kilometer, Gramm, Kilogramm, Euro: Ergänze die fehlenden Werte!



3. Einmaleins: Ergänze die fehlenden Werte!

a)

	• 7	• 4	• 5	• 2	• 6	• 3
6						
7						
8						
4						
5						
2						
3						

b)

	• 5	• 4	• 2	• 6	• 7	• 3
12						
15						
11						
13						
14						
17						
16						

Rechenmeister, Blatt 12

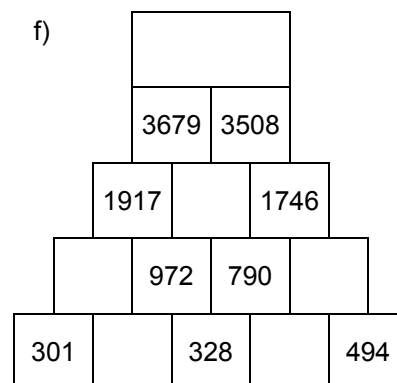
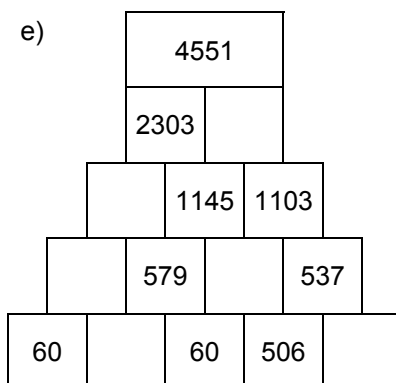
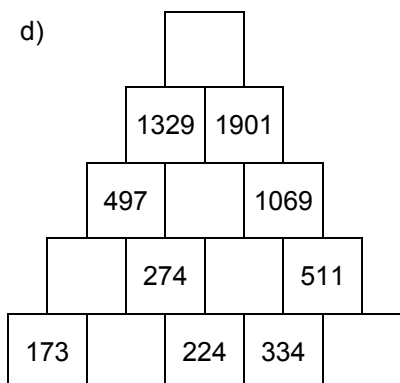
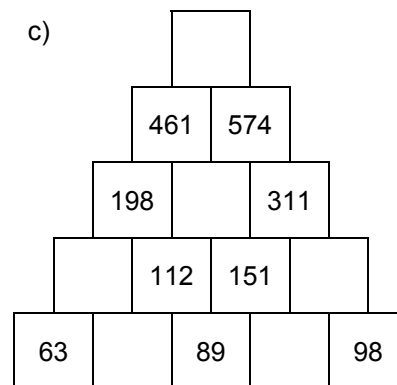
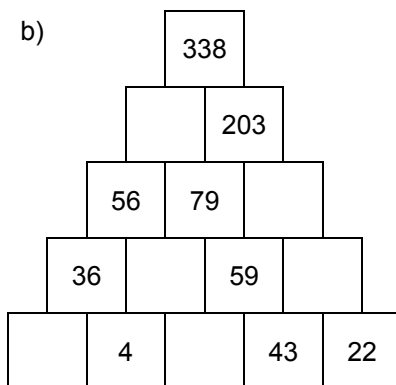
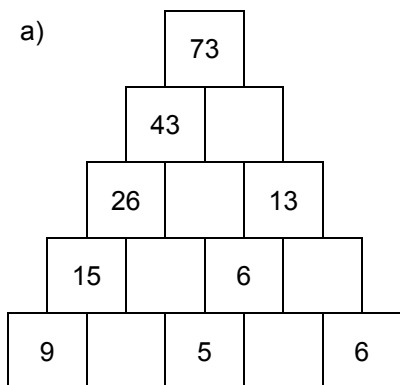
Bist du ein großer Rechenmeister?

Name: _____, 4a

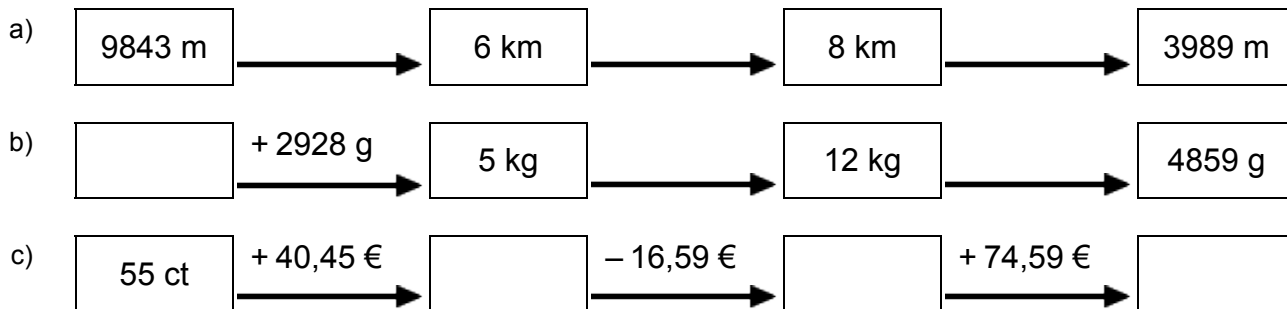
Datum: _____



1. Rechenpyramiden: Immer 2 Steine werden nach oben zum Mittelstein addiert. Ergänze die fehlenden Zahlen!



2. Meter, Kilometer, Gramm, Kilogramm, Euro: Ergänze die fehlenden Werte!



3. Einmaleins: Ergänze die fehlenden Werte!

a)

	• 2	• 7	• 5	• 3	• 6	• 4
8						
6						
2						
7						
5						
4						
3						

b)

	• 4	• 7	• 5	• 3	• 6	• 2
12						
16						
17						
15						
13						
14						
11						