

Rechenmeister, Blatt 13

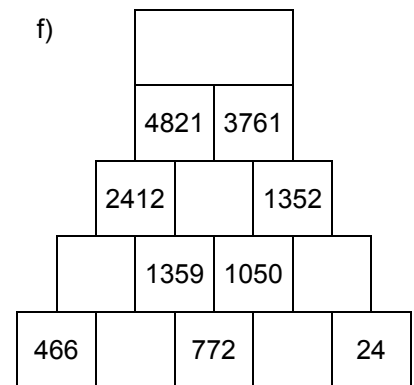
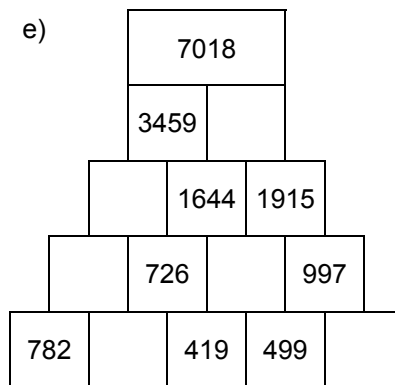
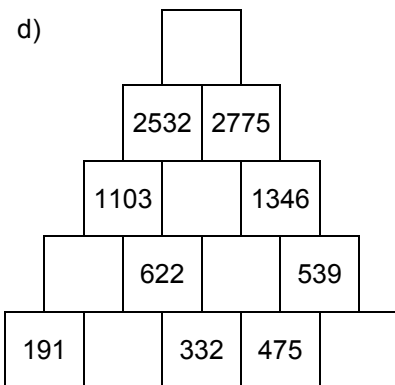
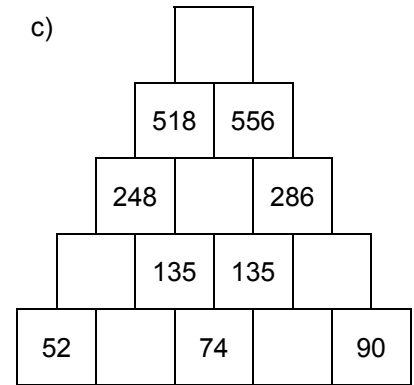
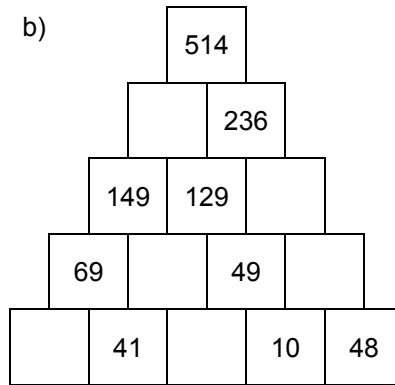
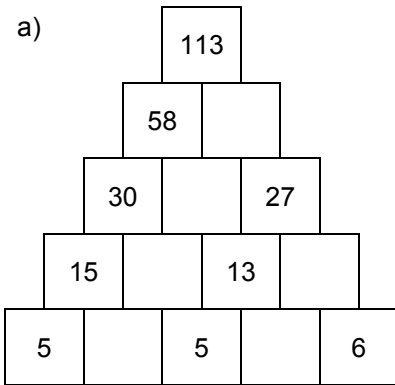
Bist du ein großer Rechenmeister?

Name: _____, 4a

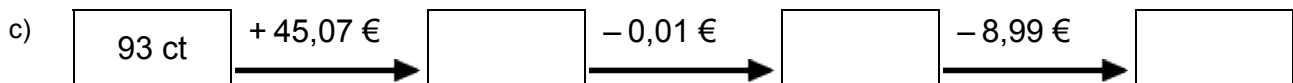

Datum: _____



1. Rechenpyramiden: Immer 2 Steine werden nach oben zum Mittelstein addiert. Ergänze die fehlenden Zahlen!



2. Meter, Kilometer, Gramm, Kilogramm, Euro: Ergänze die fehlenden Werte!



3. Einmaleins: Ergänze die fehlenden Werte!

a)

	• 6	• 7	• 4	• 2	• 3	• 5
5						
3						
8						
2						
6						
4						
7						

b)

	• 5	• 2	• 6	• 7	• 3	• 4
17						
12						
11						
14						
16						
15						
13						

Rechenmeister, Blatt 14

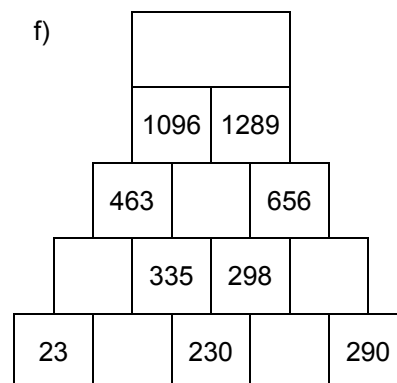
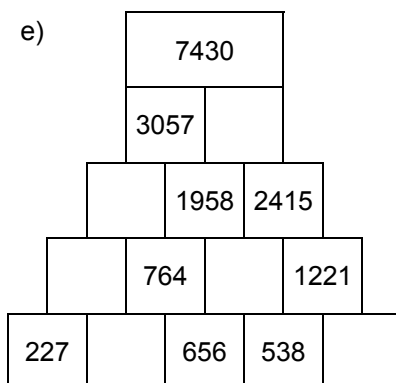
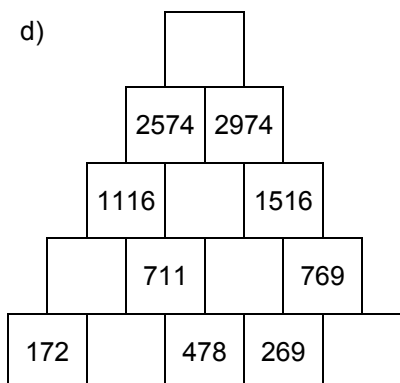
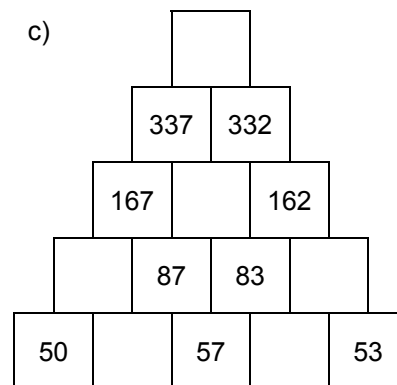
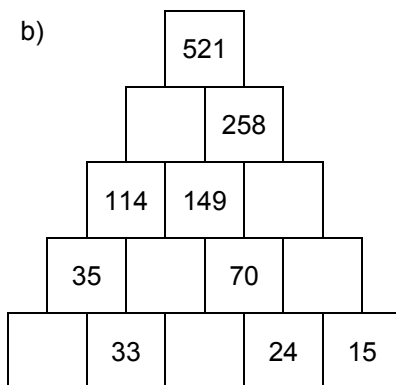
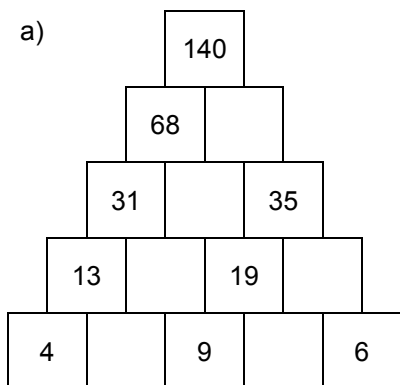
Bist du ein großer Rechenmeister?

Name: _____, 4a

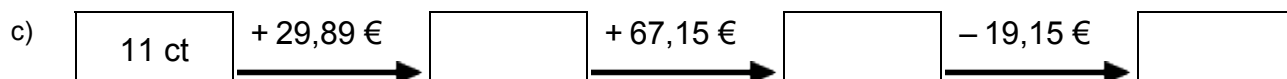
Datum: _____



1. Rechenpyramiden: Immer 2 Steine werden nach oben zum Mittelstein addiert. Ergänze die fehlenden Zahlen!



2. Meter, Kilometer, Gramm, Kilogramm, Euro: Ergänze die fehlenden Werte!



3. Einmaleins: Ergänze die fehlenden Werte!

a)

	• 5	• 2	• 3	• 4	• 7	• 6
3						
8						
2						
6						
7						
4						
5						

b)

	• 3	• 2	• 6	• 5	• 4	• 7
11						
14						
17						
15						
13						
16						
12						