

Rechenmeister, Blatt 15

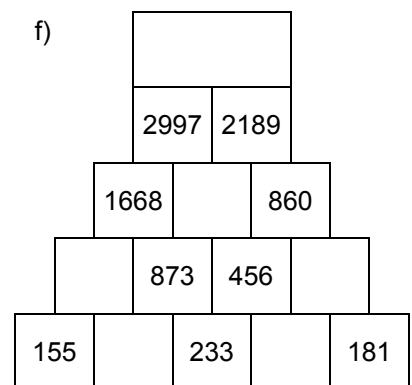
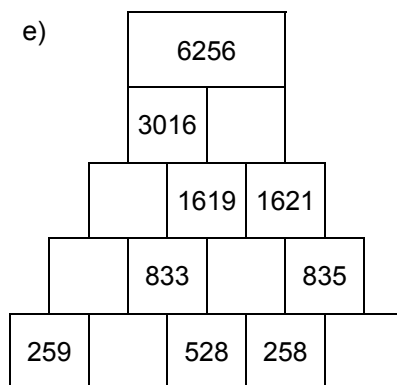
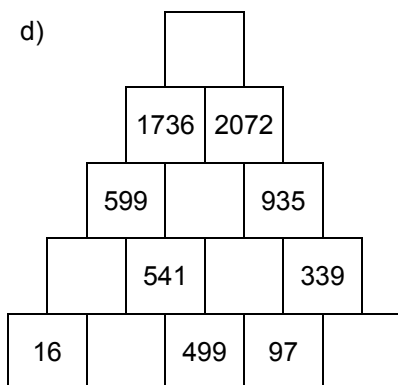
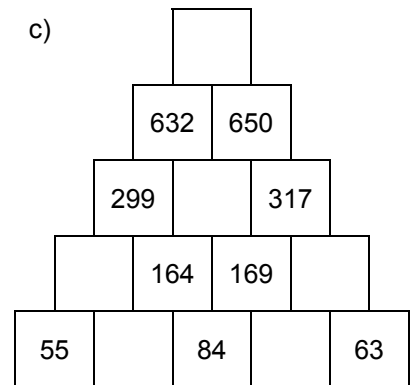
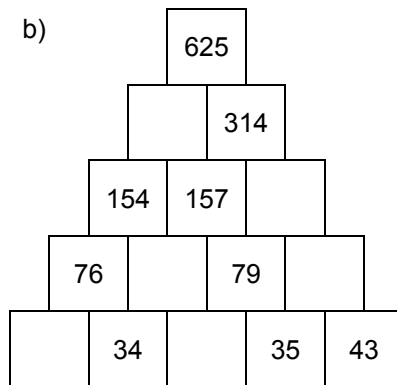
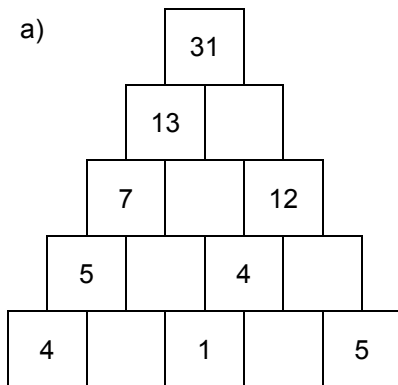
Bist du ein großer Rechenmeister?

Name: _____, 4a

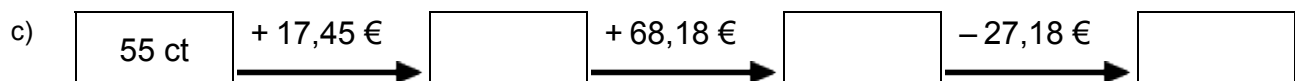
Datum: _____



1. Rechenpyramiden: Immer 2 Steine werden nach oben zum Mittelstein addiert. Ergänze die fehlenden Zahlen!



2. Meter, Kilometer, Gramm, Kilogramm, Euro: Ergänze die fehlenden Werte!



3. Einmaleins: Ergänze die fehlenden Werte!

a)

	• 6	• 4	• 7	• 2	• 3	• 5
3						
7						
5						
6						
8						
2						
4						

b)

	• 7	• 3	• 5	• 6	• 4	• 2
13						
16						
12						
14						
15						
17						
11						

Rechenmeister, Blatt 16

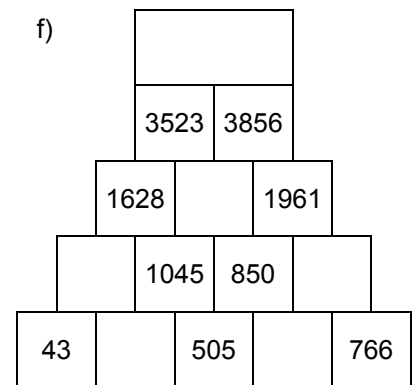
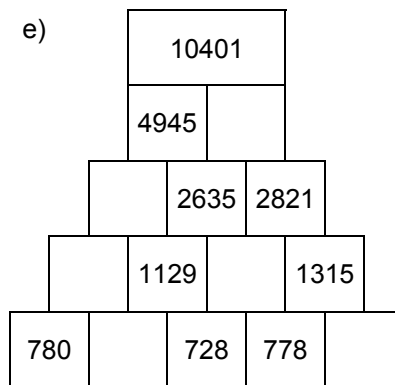
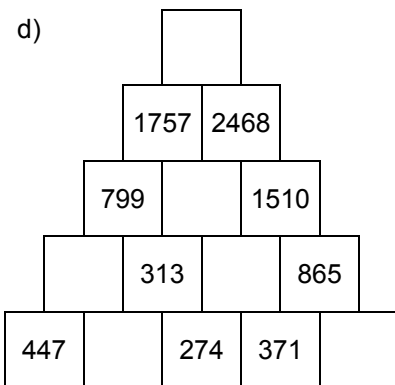
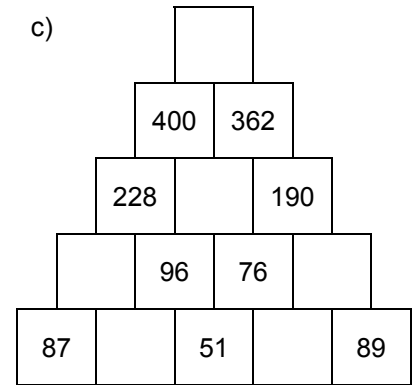
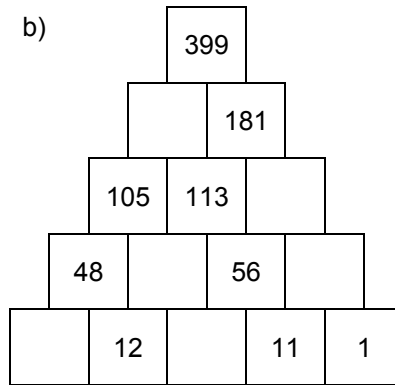
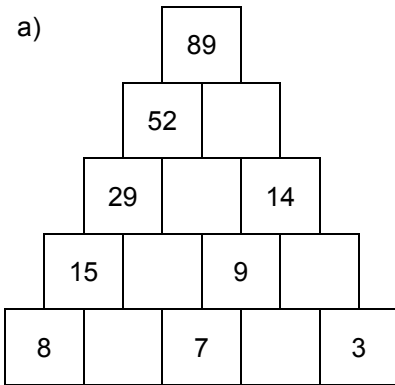
Bist du ein großer Rechenmeister?

Name: _____, 4a

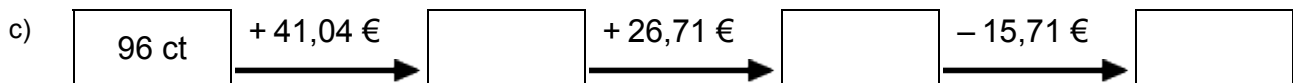
Datum: _____



1. Rechenpyramiden: Immer 2 Steine werden nach oben zum Mittelstein addiert. Ergänze die fehlenden Zahlen!



2. Meter, Kilometer, Gramm, Kilogramm, Euro: Ergänze die fehlenden Werte!



3. Einmaleins: Ergänze die fehlenden Werte!

a)

	• 6	• 5	• 7	• 2	• 4	• 3
2						
6						
7						
4						
5						
3						
8						

b)

	• 2	• 7	• 5	• 3	• 4	• 6
14						
12						
16						
15						
17						
13						
11						