

Rechenmeister, Blatt 19

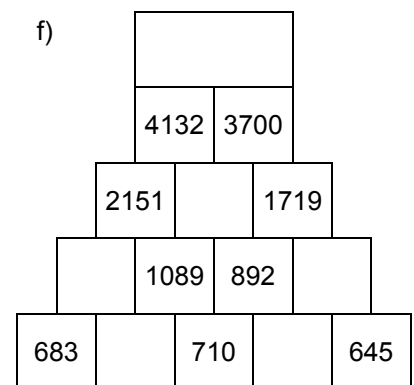
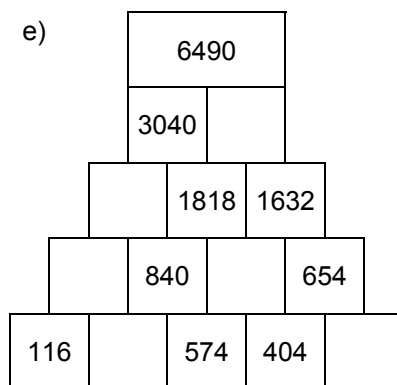
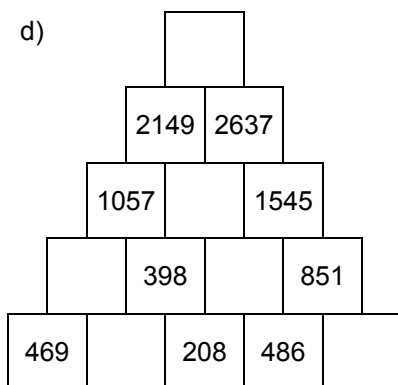
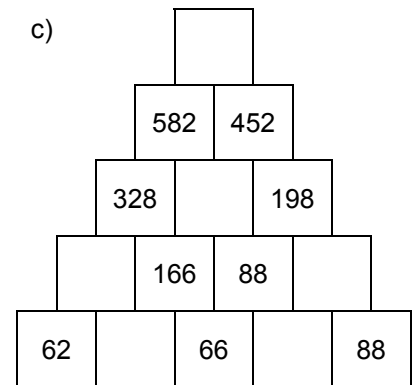
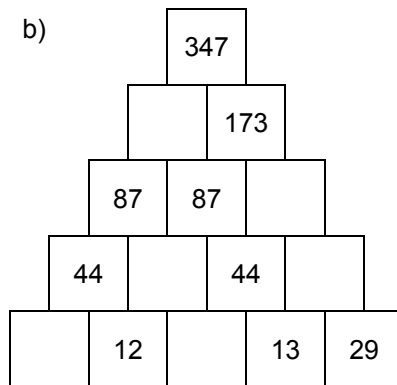
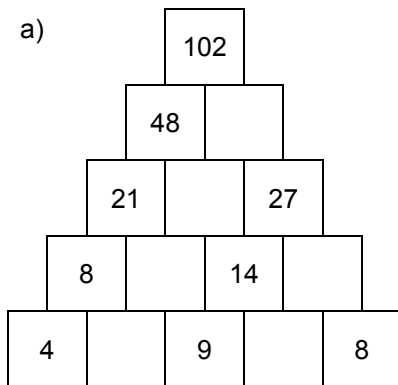
Bist du ein großer Rechenmeister?

Name: _____, 4a

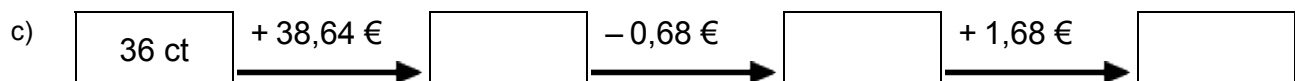
Datum: _____



1. Rechenpyramiden: Immer 2 Steine werden nach oben zum Mittelstein addiert. Ergänze die fehlenden Zahlen!



2. Meter, Kilometer, Gramm, Kilogramm, Euro: Ergänze die fehlenden Werte!



3. Einmaleins: Ergänze die fehlenden Werte!

a)

	• 7	• 4	• 2	• 5	• 6	• 3
5						
7						
2						
3						
4						
8						
6						

b)

	• 6	• 4	• 3	• 5	• 2	• 7
14						
11						
15						
17						
12						
13						
16						

Rechenmeister, Blatt 20

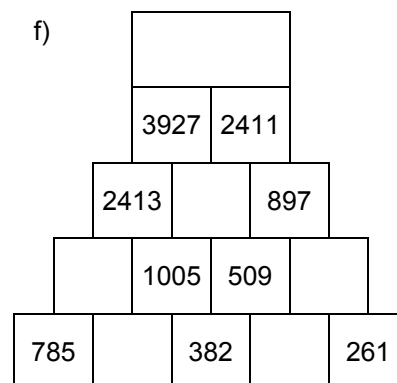
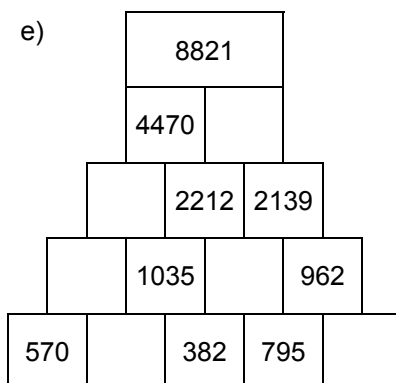
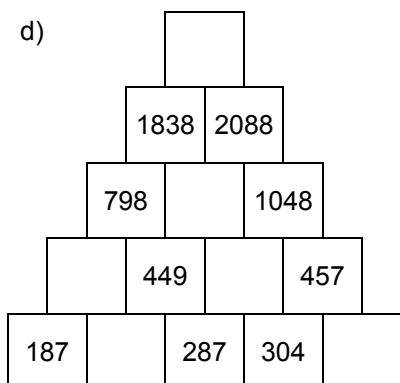
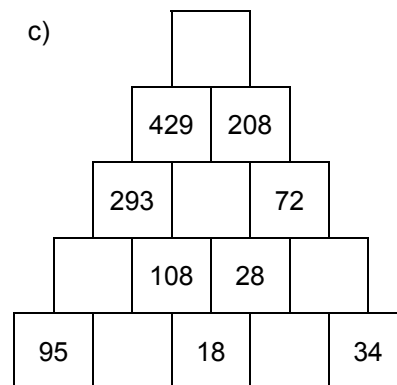
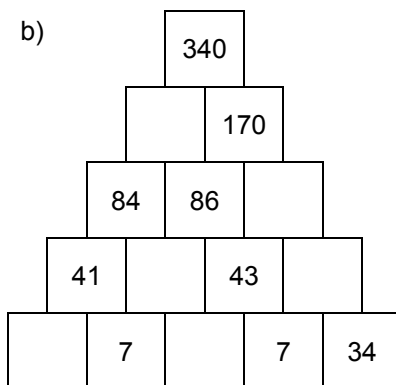
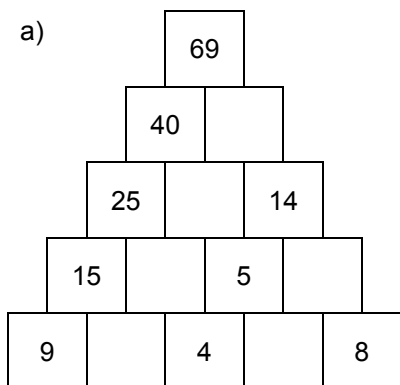
Bist du ein großer Rechenmeister?

Name: _____, 4a

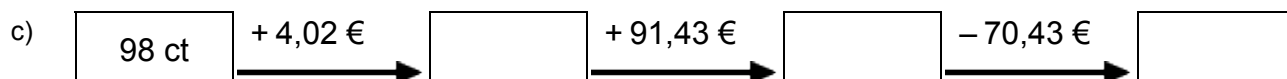
Datum: _____



1. Rechenpyramiden: Immer 2 Steine werden nach oben zum Mittelstein addiert. Ergänze die fehlenden Zahlen!



2. Meter, Kilometer, Gramm, Kilogramm, Euro: Ergänze die fehlenden Werte!



3. Einmaleins: Ergänze die fehlenden Werte!

a)

	• 2	• 7	• 4	• 5	• 3	• 6
3						
5						
4						
8						
7						
2						
6						

b)

	• 6	• 7	• 2	• 3	• 4	• 5
16						
12						
14						
13						
11						
15						
17						