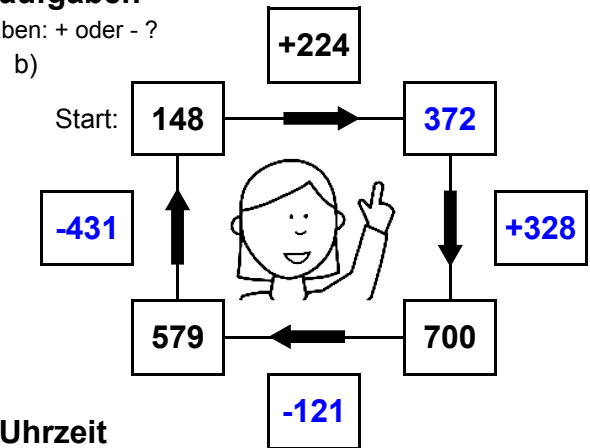
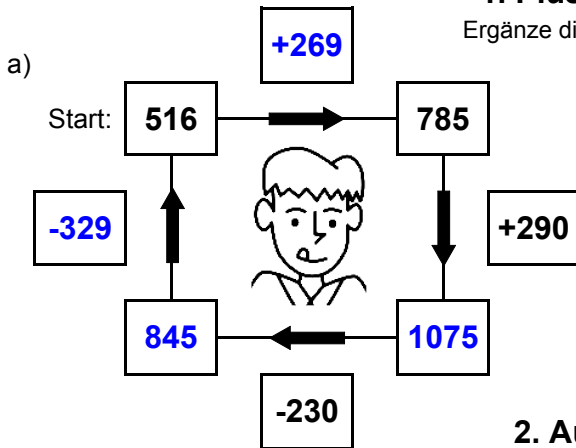




## 1. Plus- und Minusaufgaben

Ergänze die fehlenden Angaben: + oder - ?



## 2. Aufgaben zur Uhrzeit

Ergänze die fehlenden Angaben: + oder - ?



Es soll immer der gleiche Tag sein!



Es soll immer der gleiche Tag sein!



## 3. Mal- und Geteiltaufgaben

Ergänze die fehlenden Angaben!

a)

• 7	
7	49
26	182
23	161
4	28

b)

• 9	
16	144
25	225
19	171
16	144

c)

• 8	
11	88
28	224
27	216
17	136

d)

• 6	
12	72
26	156
12	72
16	96

e)

• 4	
7	28
17	68
6	24
17	68

f)

• 5	
15	75
4	20
23	115
8	40

g)

• 3	
25	75
18	54
29	87
10	30

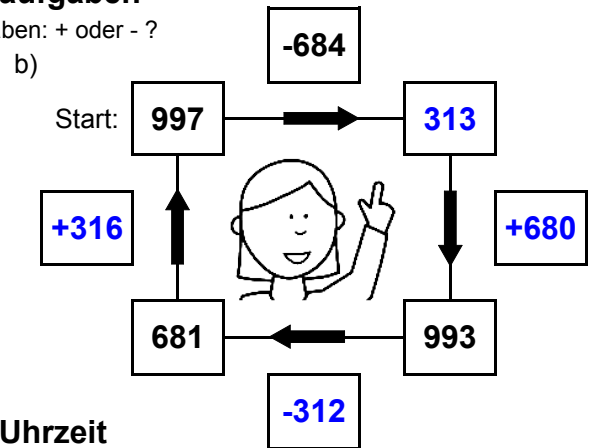
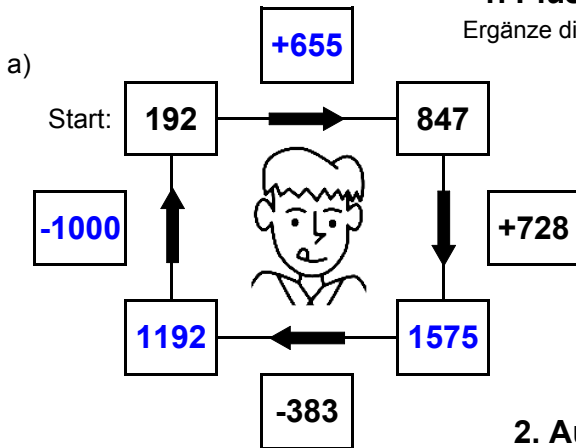
h)

• 7	
15	105
12	84
21	147
30	210



## 1. Plus- und Minusaufgaben

Ergänze die fehlenden Angaben: + oder - ?



## 2. Aufgaben zur Uhrzeit

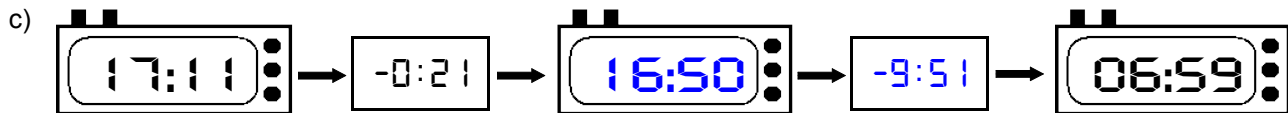
Ergänze die fehlenden Angaben: + oder - ?



Es soll immer der gleiche Tag sein!



Es soll immer der gleiche Tag sein!



## 3. Mal- und Geteiltaufgaben

Ergänze die fehlenden Angaben!

a)

• 7	
14	98
4	28
24	168
22	154

b)

• 9	
14	126
17	153
18	162
29	261

c)

• 8	
28	224
15	120
27	216
11	88

d)

• 6	
17	102
7	42
17	102
29	174

e)

• 4	
10	40
28	112
28	112
27	108

f)

• 5	
4	20
23	115
19	95
19	95

g)

• 3	
17	51
12	36
5	15
24	72

h)

• 7	
18	126
16	112
21	147
5	35