

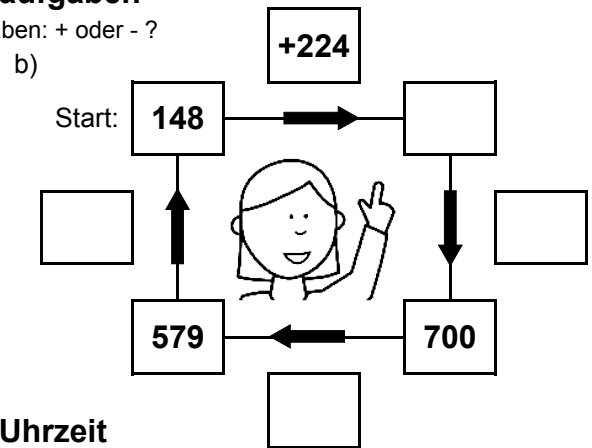
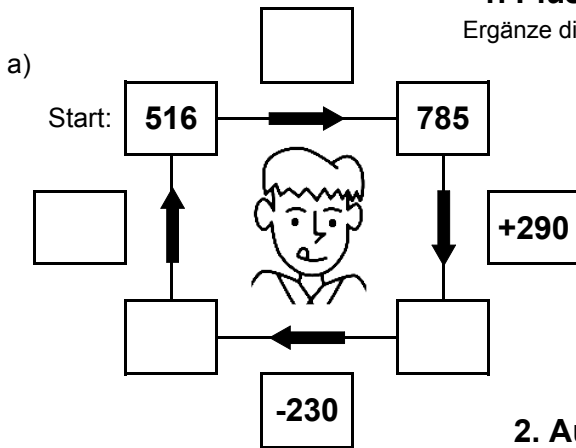


Bist du ein großer Rechenmeister?

Datum: _____

1. Plus- und Minusaufgaben

Ergänze die fehlenden Angaben: + oder - ?



2. Aufgaben zur Uhrzeit

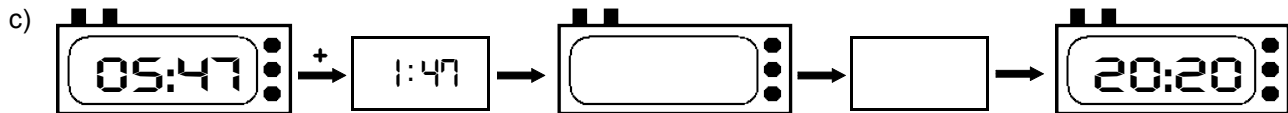
Ergänze die fehlenden Angaben: + oder - ?



Es soll immer der gleiche Tag sein!



Es soll immer der gleiche Tag sein!



3. Mal- und Geteiltaufgaben

Ergänze die fehlenden Angaben!

a)

• 7	
7	
	182
23	
	28

b)

• 9	
	144
25	
	171
16	

c)

• 8	
11	
	224
27	
	136

d)

• 6	
	72
26	
	72
16	

e)

• 4	
7	
	68
6	
	68

f)

• 5	
	75
4	
	115
8	

g)

• 3	
25	
	54
29	
	30

h)

• 7	
	105
12	
	147
30	

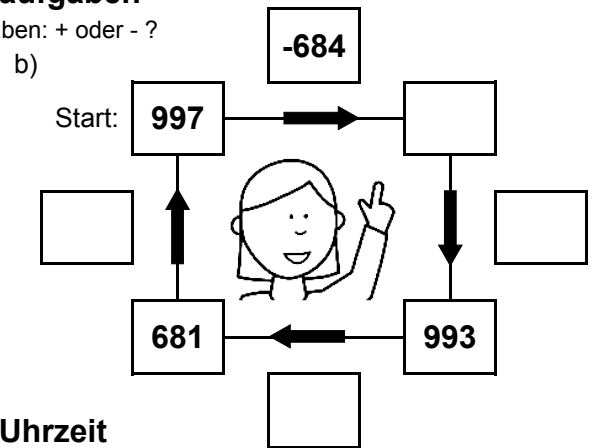
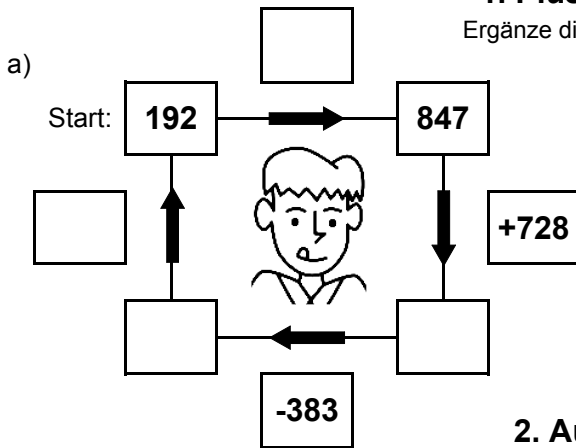


Bist du ein großer Rechenmeister?

Datum: _____

1. Plus- und Minusaufgaben

Ergänze die fehlenden Angaben: + oder - ?



2. Aufgaben zur Uhrzeit

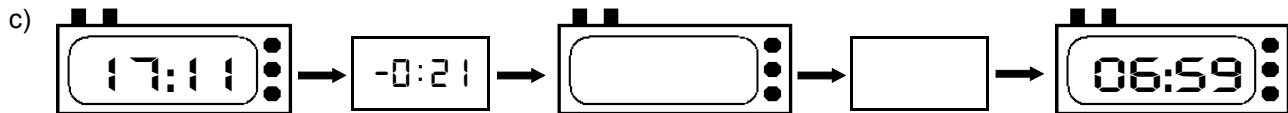
Ergänze die fehlenden Angaben: + oder - ?



Es soll immer der gleiche Tag sein!



Es soll immer der gleiche Tag sein!



3. Mal- und Geteiltaufgaben

Ergänze die fehlenden Angaben!

a)

• 7	
14	
	28
24	
	154

b)

• 9	
	126
17	
	162
29	

c)

• 8	
28	
	120
27	
	88

d)

• 6	
	102
7	
	102
29	

e)

• 4	
10	
	112
28	
	108

f)

• 5	
	20
23	
	95
19	

g)

• 3	
17	
	36
5	
	72

h)

• 7	
	126
16	
	147
5	