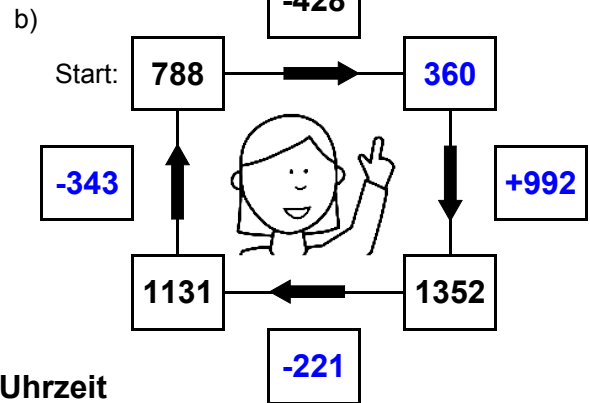
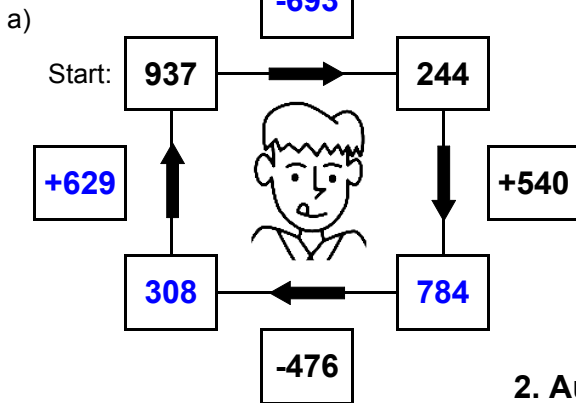




1. Plus- und Minusaufgaben

Ergänze die fehlenden Angaben: + oder - ?



2. Aufgaben zur Uhrzeit

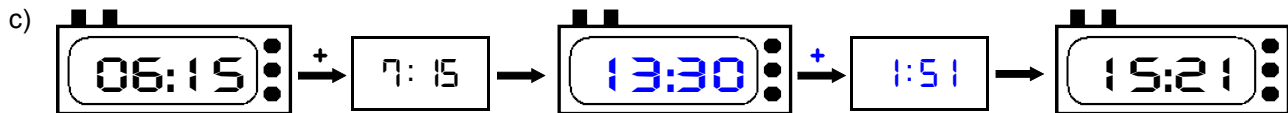
Ergänze die fehlenden Angaben: + oder - ?



Es soll immer der gleiche Tag sein!



Es soll immer der gleiche Tag sein!



3. Mal- und Geteiltaufgaben

Ergänze die fehlenden Angaben!

a)

| | |
|-----|-----|
| • 7 | |
| 25 | 175 |
| 19 | 133 |
| 6 | 42 |
| 24 | 168 |

b)

| | |
|-----|-----|
| • 9 | |
| 15 | 135 |
| 3 | 27 |
| 8 | 72 |
| 22 | 198 |

c)

| | |
|-----|-----|
| • 8 | |
| 12 | 96 |
| 29 | 232 |
| 9 | 72 |
| 24 | 192 |

d)

| | |
|-----|-----|
| • 6 | |
| 30 | 180 |
| 11 | 66 |
| 3 | 18 |
| 23 | 138 |

e)

| | |
|-----|----|
| • 4 | |
| 21 | 84 |
| 16 | 64 |
| 23 | 92 |
| 24 | 96 |

f)

| | |
|-----|-----|
| • 5 | |
| 3 | 15 |
| 6 | 30 |
| 22 | 110 |
| 22 | 110 |

g)

| | |
|-----|----|
| • 3 | |
| 18 | 54 |
| 21 | 63 |
| 29 | 87 |
| 6 | 18 |

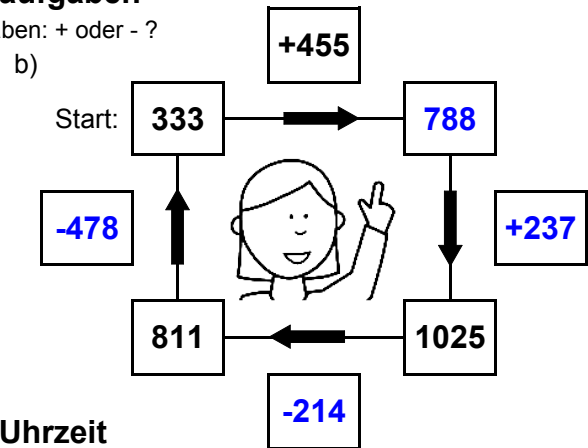
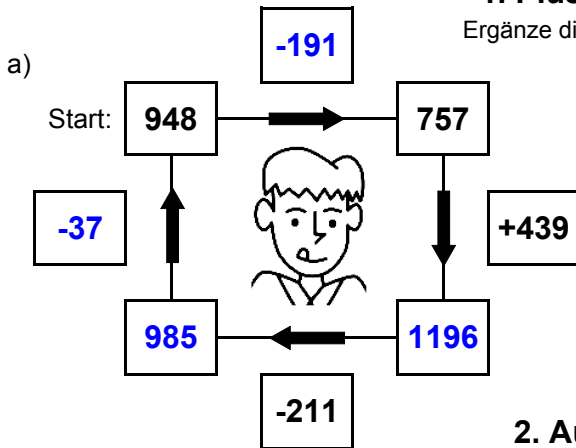
h)

| | |
|-----|-----|
| • 7 | |
| 20 | 140 |
| 21 | 147 |
| 20 | 140 |
| 12 | 84 |



1. Plus- und Minusaufgaben

Ergänze die fehlenden Angaben: + oder - ?



2. Aufgaben zur Uhrzeit

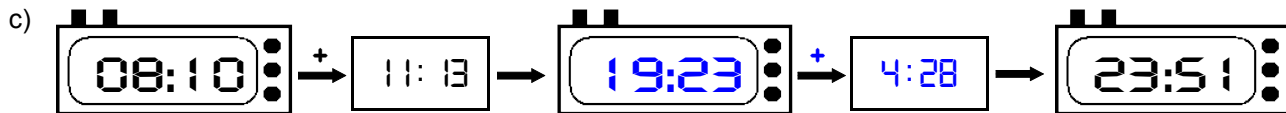
Ergänze die fehlenden Angaben: + oder - ?



Es soll immer der gleiche Tag sein!



Es soll immer der gleiche Tag sein!



3. Mal- und Geteiltaufgaben

Ergänze die fehlenden Angaben!

a)

| | |
|-----|-----|
| • 7 | |
| 12 | 84 |
| 3 | 21 |
| 25 | 175 |
| 3 | 21 |

b)

| | |
|-----|-----|
| • 9 | |
| 29 | 261 |
| 21 | 189 |
| 23 | 207 |
| 22 | 198 |

c)

| | |
|-----|-----|
| • 8 | |
| 12 | 96 |
| 29 | 232 |
| 15 | 120 |
| 6 | 48 |

d)

| | |
|-----|-----|
| • 6 | |
| 20 | 120 |
| 19 | 114 |
| 5 | 30 |
| 19 | 114 |

e)

| | |
|-----|-----|
| • 4 | |
| 21 | 84 |
| 15 | 60 |
| 10 | 40 |
| 29 | 116 |

f)

| | |
|-----|-----|
| • 5 | |
| 6 | 30 |
| 25 | 125 |
| 27 | 135 |
| 17 | 85 |

g)

| | |
|-----|----|
| • 3 | |
| 28 | 84 |
| 17 | 51 |
| 4 | 12 |
| 29 | 87 |

h)

| | |
|-----|-----|
| • 7 | |
| 20 | 140 |
| 24 | 168 |
| 16 | 112 |
| 19 | 133 |