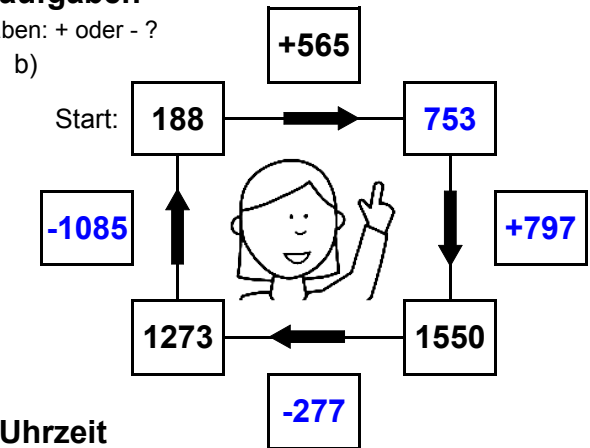
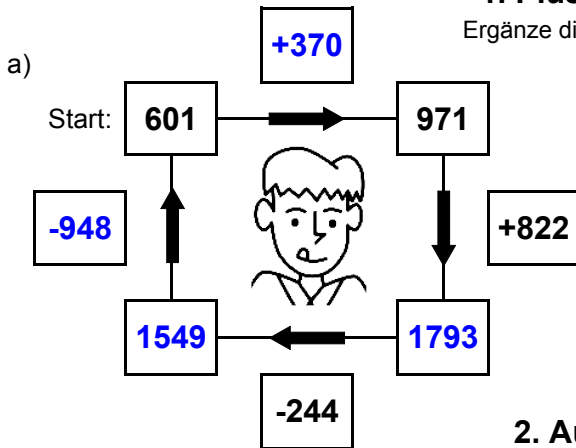




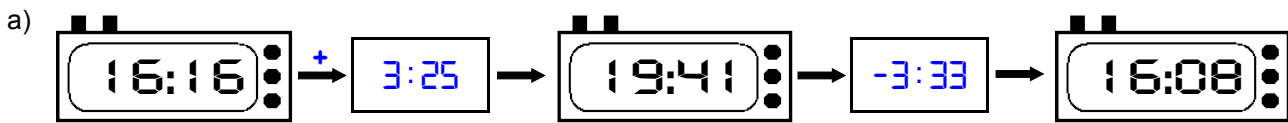
## 1. Plus- und Minusaufgaben

Ergänze die fehlenden Angaben: + oder - ?



## 2. Aufgaben zur Uhrzeit

Ergänze die fehlenden Angaben: + oder - ?



Es soll immer der gleiche Tag sein!



Es soll immer der gleiche Tag sein!



## 3. Mal- und Geteiltaufgaben

Ergänze die fehlenden Angaben!

a)

• 7	
26	182
5	35
17	119
4	28

b)

• 9	
11	99
23	207
10	90
28	252

c)

• 8	
27	216
30	240
9	72
5	40

d)

• 6	
3	18
15	90
15	90
30	180

e)

• 4	
6	24
16	64
7	28
30	120

f)

• 5	
18	90
3	15
12	60
3	15

g)

• 3	
25	75
24	72
20	60
26	78

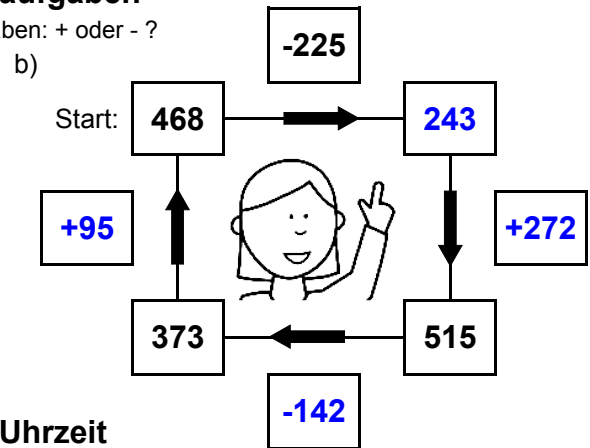
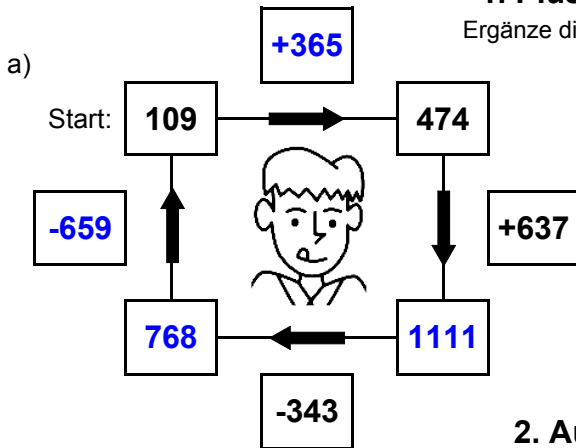
h)

• 7	
20	140
10	70
6	42
6	42



## 1. Plus- und Minusaufgaben

Ergänze die fehlenden Angaben: + oder - ?



## 2. Aufgaben zur Uhrzeit

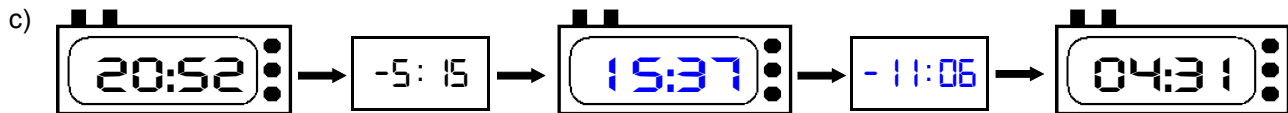
Ergänze die fehlenden Angaben: + oder - ?



Es soll immer der gleiche Tag sein!



Es soll immer der gleiche Tag sein!



## 3. Mal- und Geteiltaufgaben

Ergänze die fehlenden Angaben!

a)

• 7	
19	133
21	147
7	49
6	42

b)

• 9	
29	261
30	270
8	72
29	261

c)

• 8	
3	24
30	240
18	144
17	136

d)

• 6	
10	60
19	114
8	48
5	30

e)

• 4	
24	96
23	92
14	56
10	40

f)

• 5	
15	75
24	120
11	55
17	85

g)

• 3	
11	33
5	15
25	75
16	48

h)

• 7	
3	21
26	182
3	21
16	112