

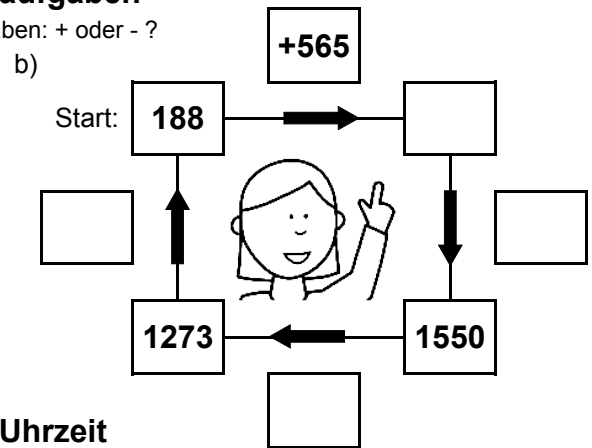
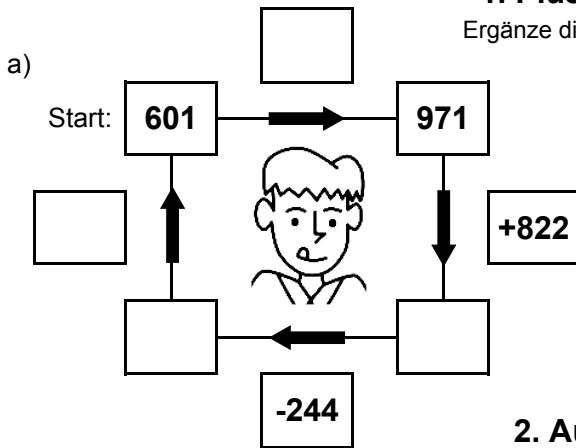


Bist du ein großer Rechenmeister?

Datum: \_\_\_\_\_

## 1. Plus- und Minusaufgaben

Ergänze die fehlenden Angaben: + oder - ?



## 2. Aufgaben zur Uhrzeit

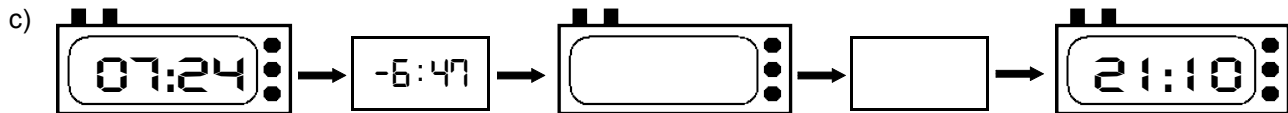
Ergänze die fehlenden Angaben: + oder - ?



Es soll immer der gleiche Tag sein!



Es soll immer der gleiche Tag sein!



## 3. Mal- und Geteiltaufgaben

Ergänze die fehlenden Angaben!

a)

• 7	
26	
	35
17	
	28

b)

• 9	
	99
23	
	90
28	

c)

• 8	
27	
	240
9	
	40

d)

• 6	
	18
15	
	90
30	

e)

• 4	
6	
	64
7	
	120

f)

• 5	
	90
3	
	60
3	

g)

• 3	
25	
	72
20	
	78

h)

• 7	
	140
10	
	42
6	

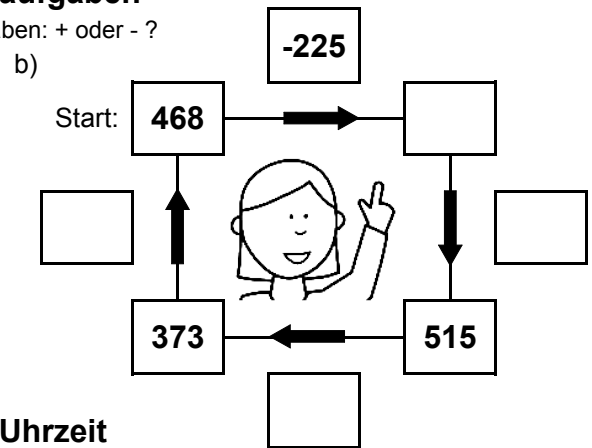
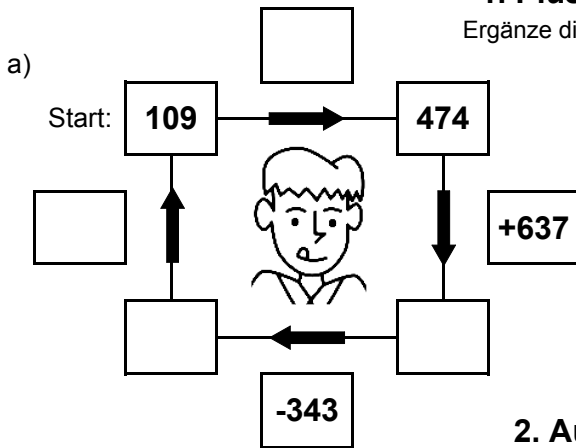


Bist du ein großer Rechenmeister?

Datum: \_\_\_\_\_

## 1. Plus- und Minusaufgaben

Ergänze die fehlenden Angaben: + oder - ?



## 2. Aufgaben zur Uhrzeit

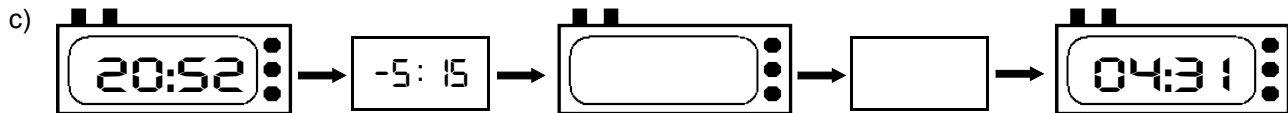
Ergänze die fehlenden Angaben: + oder - ?



Es soll immer der gleiche Tag sein!



Es soll immer der gleiche Tag sein!



## 3. Mal- und Geteiltaufgaben

Ergänze die fehlenden Angaben!

a)

• 7	
19	
	147
7	
	42

b)

• 9	
	261
30	
	72
29	

c)

• 8	
3	
	240
18	
	136

d)

• 6	
	60
19	
	48
5	

e)

• 4	
24	
	92
14	
	40

f)

• 5	
	75
24	
	55
17	

g)

• 3	
11	
	15
25	
	48

h)

• 7	
	21
26	
	21
16	