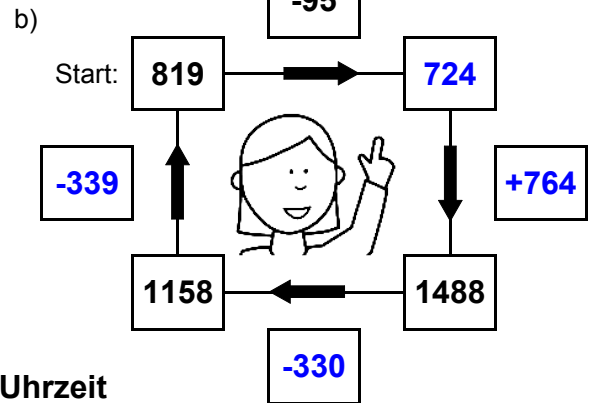
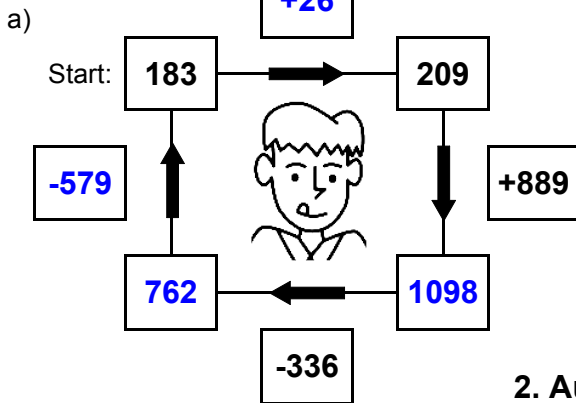




1. Plus- und Minusaufgaben

Ergänze die fehlenden Angaben: + oder - ?



2. Aufgaben zur Uhrzeit

Ergänze die fehlenden Angaben: + oder - ?



Es soll immer der gleiche Tag sein!



Es soll immer der gleiche Tag sein!



3. Mal- und Geteiltaufgaben

Ergänze die fehlenden Angaben!

a)

• 7	
23	161
21	147
20	140
8	56

b)

• 9	
22	198
3	27
13	117
26	234

c)

• 8	
23	184
6	48
19	152
17	136

d)

• 6	
4	24
28	168
19	114
21	126

e)

• 4	
17	68
9	36
13	52
3	12

f)

• 5	
8	40
14	70
10	50
23	115

g)

• 3	
28	84
28	84
8	24
10	30

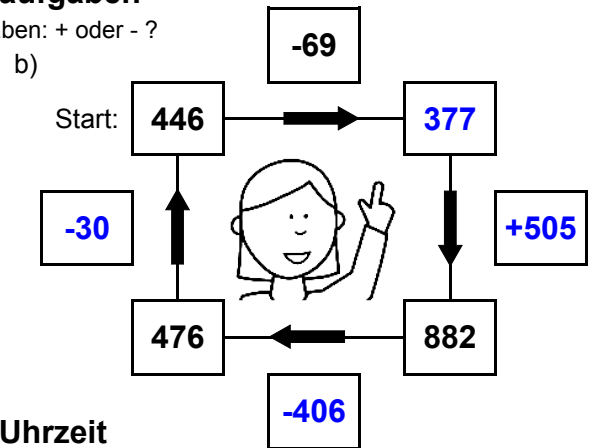
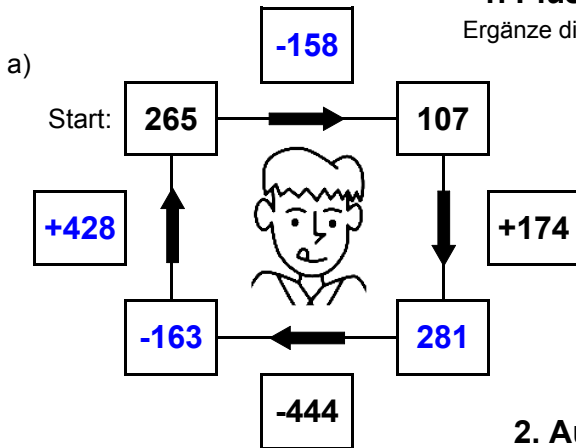
h)

• 7	
26	182
26	182
19	133
18	126



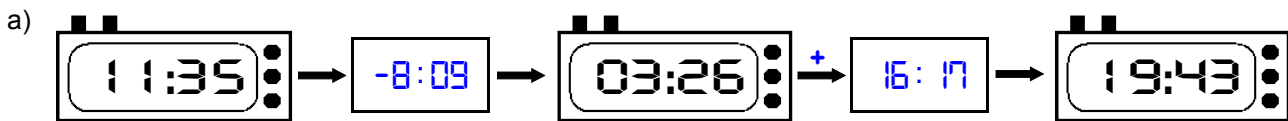
1. Plus- und Minusaufgaben

Ergänze die fehlenden Angaben: + oder - ?



2. Aufgaben zur Uhrzeit

Ergänze die fehlenden Angaben: + oder - ?



Es soll immer der gleiche Tag sein!



Es soll immer der gleiche Tag sein!



3. Mal- und Geteiltaufgaben

Ergänze die fehlenden Angaben!

a)

• 7	
29	203
21	147
17	119
6	42

b)

• 9	
6	54
20	180
29	261
3	27

c)

• 8	
25	200
20	160
14	112
12	96

d)

• 6	
6	36
4	24
17	102
25	150

e)

• 4	
5	20
13	52
27	108
7	28

f)

• 5	
21	105
5	25
9	45
20	100

g)

• 3	
9	27
21	63
17	51
11	33

h)

• 7	
9	63
6	42
25	175
21	147