

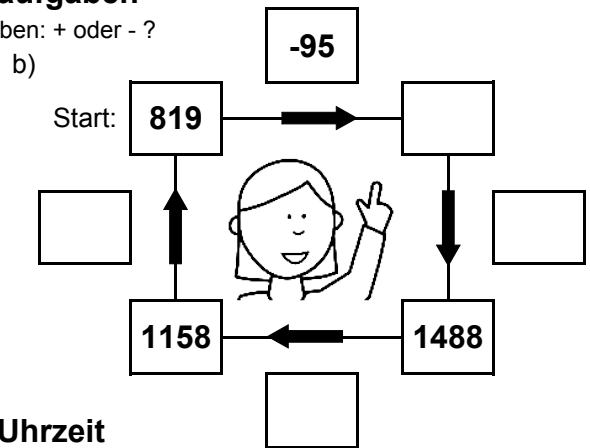
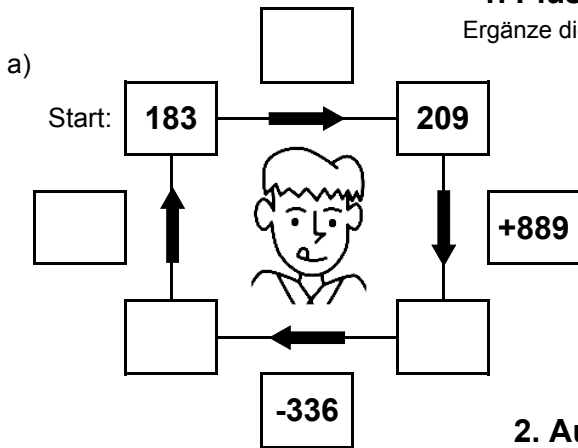


Bist du ein großer Rechenmeister?

Datum: \_\_\_\_\_

## 1. Plus- und Minusaufgaben

Ergänze die fehlenden Angaben: + oder - ?



## 2. Aufgaben zur Uhrzeit

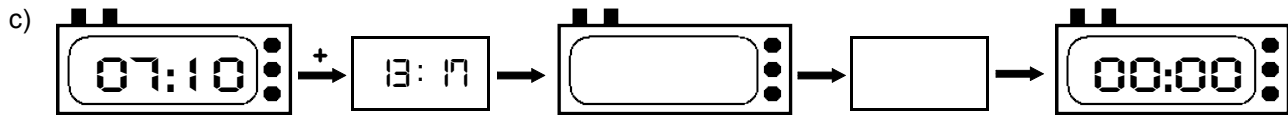
Ergänze die fehlenden Angaben: + oder - ?



Es soll immer der gleiche Tag sein!



Es soll immer der gleiche Tag sein!



## 3. Mal- und Geteiltaufgaben

Ergänze die fehlenden Angaben!

a)

• 7	
23	
	147
20	
	56

b)

• 9	
	198
3	
	117
26	

c)

• 8	
23	
	48
19	
	136

d)

• 6	
	24
28	
	114
21	

e)

• 4	
17	
	36
13	
	12

f)

• 5	
	40
14	
	50
23	

g)

• 3	
28	
	84
8	
	30

h)

• 7	
	182
26	
	133
18	

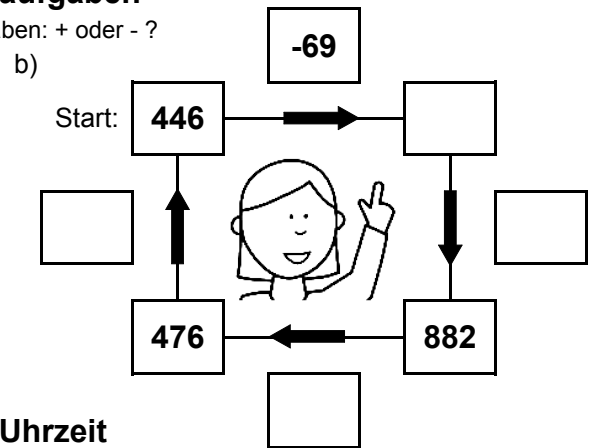
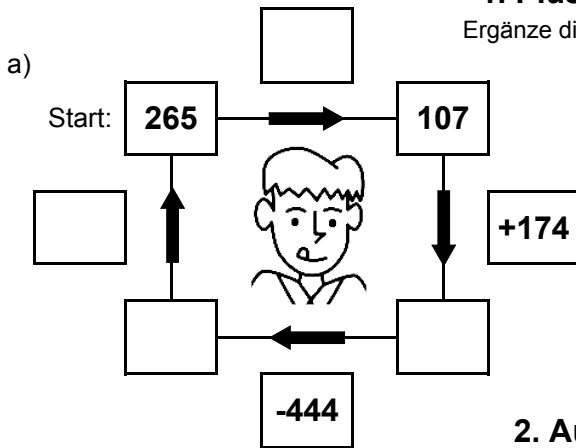


Bist du ein großer Rechenmeister?

Datum: \_\_\_\_\_

## 1. Plus- und Minusaufgaben

Ergänze die fehlenden Angaben: + oder - ?



## 2. Aufgaben zur Uhrzeit

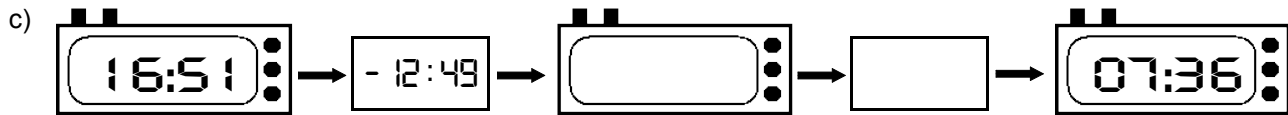
Ergänze die fehlenden Angaben: + oder - ?



Es soll immer der gleiche Tag sein!



Es soll immer der gleiche Tag sein!



## 3. Mal- und Geteiltaufgaben

Ergänze die fehlenden Angaben!

a)

• 7	
29	
	147
17	
	42

b)

• 9	
	54
20	
	261
3	

c)

• 8	
25	
	160
14	
	96

d)

• 6	
	36
4	
	102
25	

e)

• 4	
5	
	52
27	
	28

f)

• 5	
	105
5	
	45
20	

g)

• 3	
9	
	63
17	
	33

h)

• 7	
	63
6	
	175
21	