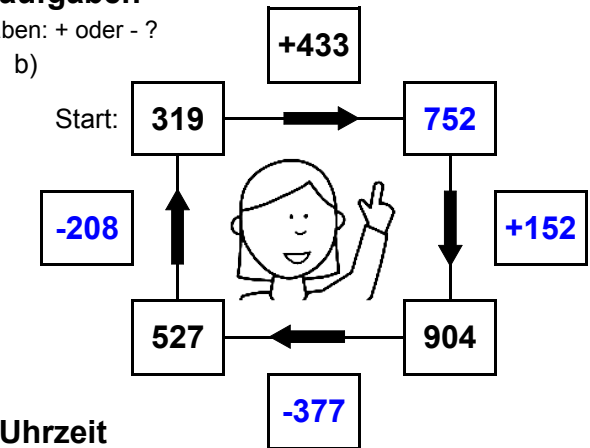
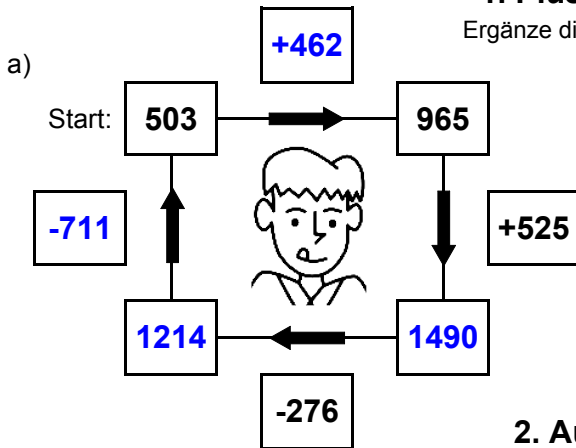




1. Plus- und Minusaufgaben

Ergänze die fehlenden Angaben: + oder - ?

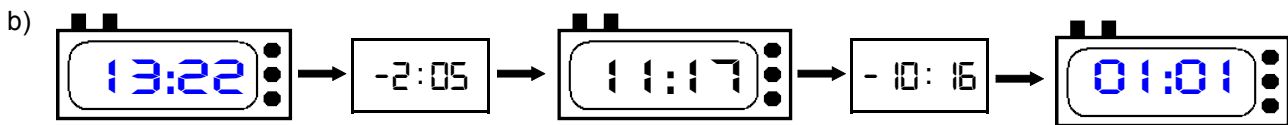


2. Aufgaben zur Uhrzeit

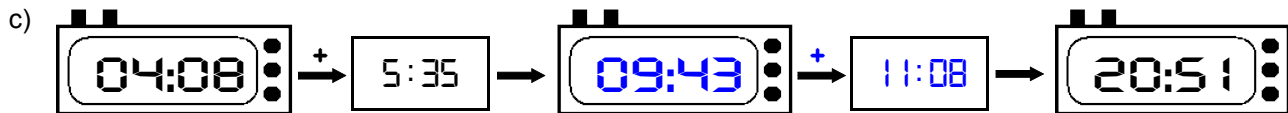
Ergänze die fehlenden Angaben: + oder - ?



Es soll immer der gleiche Tag sein!



Es soll immer der gleiche Tag sein!



3. Mal- und Geteiltaufgaben

Ergänze die fehlenden Angaben!

a)

• 7	
14	98
14	98
6	42
29	203

b)

• 9	
9	81
15	135
16	144
8	72

c)

• 8	
7	56
16	128
23	184
10	80

d)

• 6	
9	54
4	24
9	54
9	54

e)

• 4	
24	96
15	60
8	32
22	88

f)

• 5	
30	150
21	105
21	105
11	55

g)

• 3	
25	75
6	18
15	45
8	24

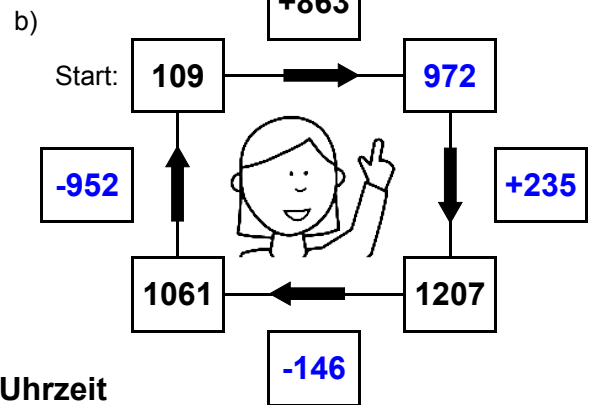
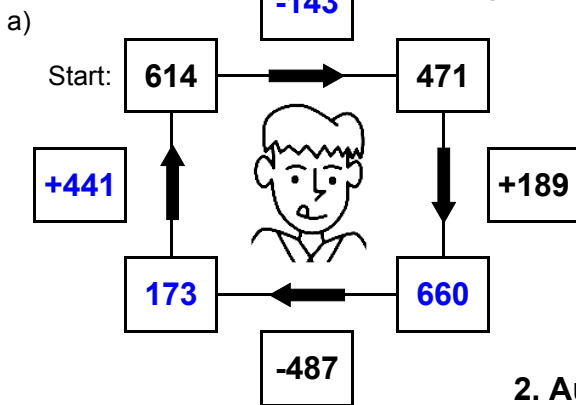
h)

• 7	
13	91
12	84
3	21
8	56



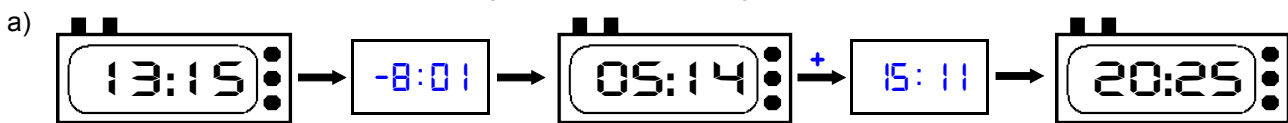
1. Plus- und Minusaufgaben

Ergänze die fehlenden Angaben: + oder - ?



2. Aufgaben zur Uhrzeit

Ergänze die fehlenden Angaben: + oder - ?



Es soll immer der gleiche Tag sein!



Es soll immer der gleiche Tag sein!



3. Mal- und Geteiltaufgaben

Ergänze die fehlenden Angaben!

a)

• 7	
20	140
12	84
30	210
27	189

b)

• 9	
21	189
27	243
7	63
23	207

c)

• 8	
27	216
16	128
26	208
3	24

d)

• 6	
12	72
13	78
15	90
3	18

e)

• 4	
26	104
20	80
30	120
5	20

f)

• 5	
20	100
5	25
6	30
25	125

g)

• 3	
10	30
10	30
11	33
23	69

h)

• 7	
9	63
26	182
5	35
14	98