

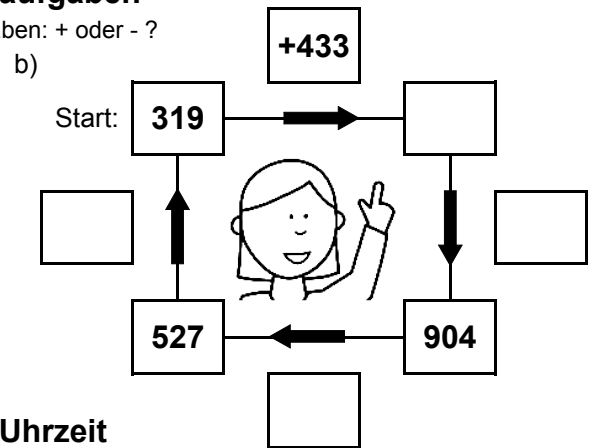
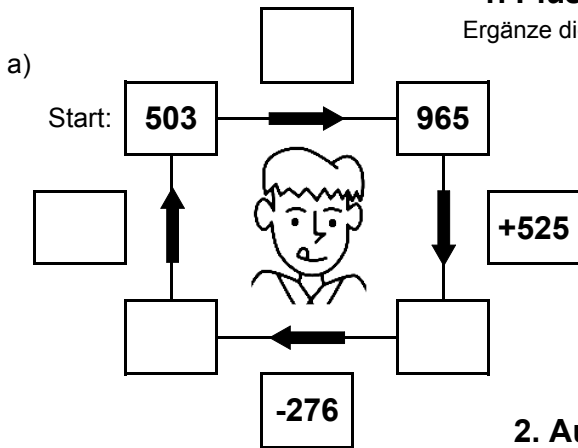


Bist du ein großer Rechenmeister?

Datum: \_\_\_\_\_

## 1. Plus- und Minusaufgaben

Ergänze die fehlenden Angaben: + oder - ?

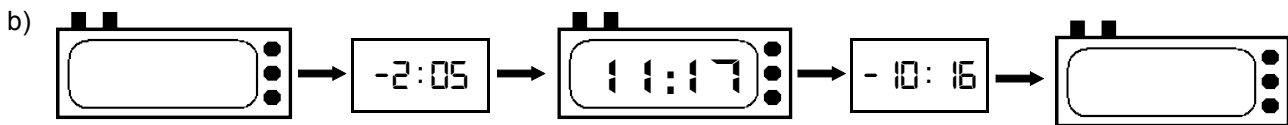


## 2. Aufgaben zur Uhrzeit

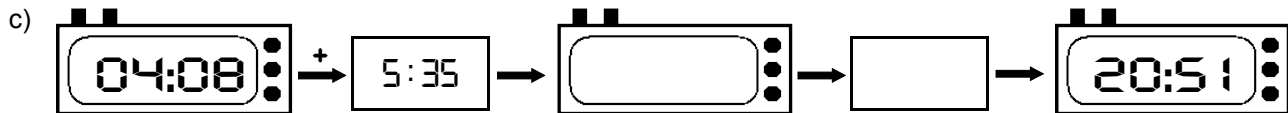
Ergänze die fehlenden Angaben: + oder - ?



Es soll immer der gleiche Tag sein!



Es soll immer der gleiche Tag sein!



## 3. Mal- und Geteiltaufgaben

Ergänze die fehlenden Angaben!

a)

• 7	
14	
	98
6	
	203

b)

• 9	
	81
15	
	144
8	

c)

• 8	
7	
	128
23	
	80

d)

• 6	
	54
4	
	54
9	

e)

• 4	
24	
	60
8	
	88

f)

• 5	
	150
21	
	105
11	

g)

• 3	
25	
	18
15	
	24

h)

• 7	
	91
12	
	21
8	

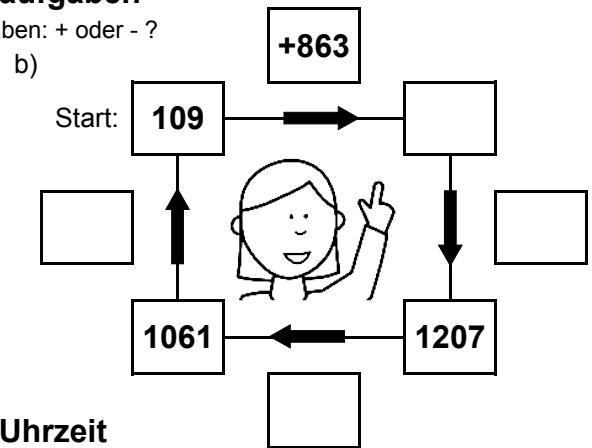
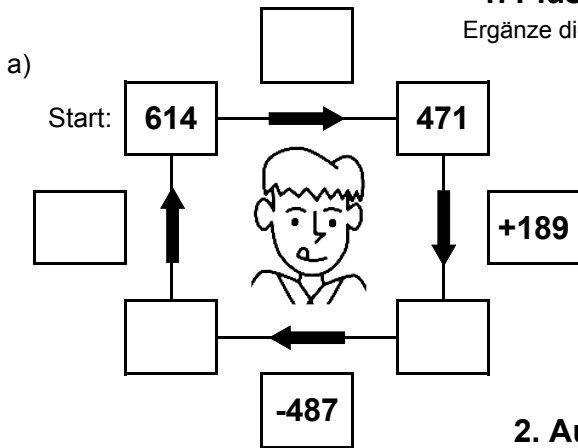


Bist du ein großer Rechenmeister?

Datum: \_\_\_\_\_

## 1. Plus- und Minusaufgaben

Ergänze die fehlenden Angaben: + oder - ?



## 2. Aufgaben zur Uhrzeit

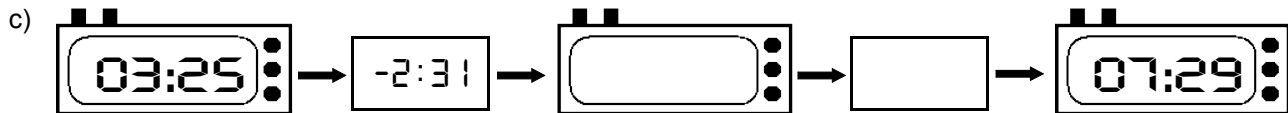
Ergänze die fehlenden Angaben: + oder - ?



Es soll immer der gleiche Tag sein!



Es soll immer der gleiche Tag sein!



## 3. Mal- und Geteiltaufgaben

Ergänze die fehlenden Angaben!

a)

• 7	
20	
	84
30	
	189

b)

• 9	
	189
27	
	63
23	

c)

• 8	
27	
	128
26	
	24

d)

• 6	
	72
13	
	90
3	

e)

• 4	
26	
	80
30	
	20

f)

• 5	
	100
5	
	30
25	

g)

• 3	
10	
	30
11	
	69

h)

• 7	
	63
26	
	35
14	