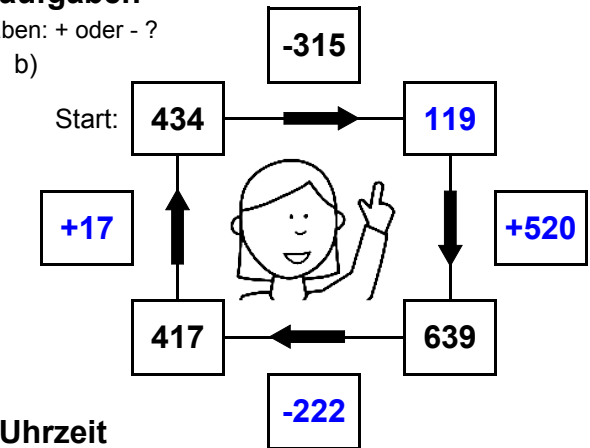
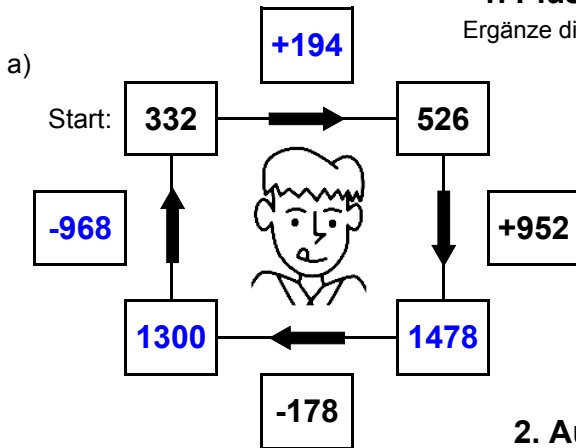




1. Plus- und Minusaufgaben

Ergänze die fehlenden Angaben: + oder - ?



2. Aufgaben zur Uhrzeit

Ergänze die fehlenden Angaben: + oder - ?



Es soll immer der gleiche Tag sein!



Es soll immer der gleiche Tag sein!



3. Mal- und Geteiltaufgaben

Ergänze die fehlenden Angaben!

a)

• 7	
3	21
22	154
30	210
19	133

b)

• 9	
4	36
21	189
4	36
28	252

c)

• 8	
10	80
14	112
19	152
20	160

d)

• 6	
29	174
26	156
10	60
30	180

e)

• 4	
15	60
16	64
29	116
11	44

f)

• 5	
25	125
21	105
22	110
19	95

g)

• 3	
20	60
14	42
6	18
16	48

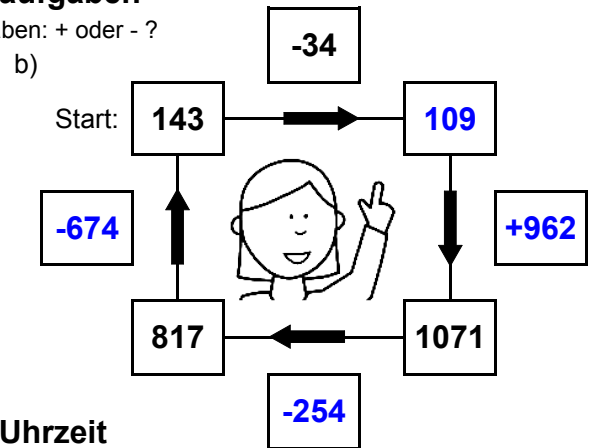
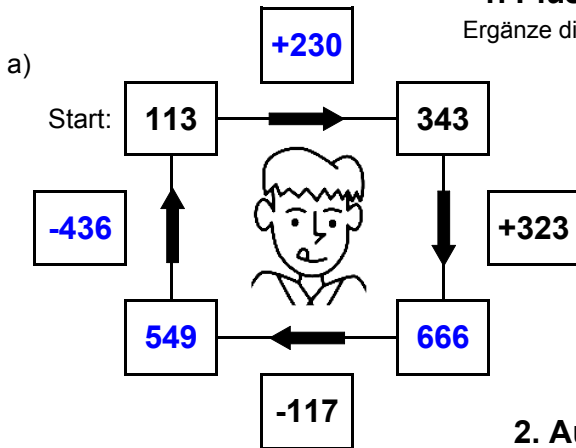
h)

• 7	
16	112
11	77
29	203
8	56



1. Plus- und Minusaufgaben

Ergänze die fehlenden Angaben: + oder - ?



2. Aufgaben zur Uhrzeit

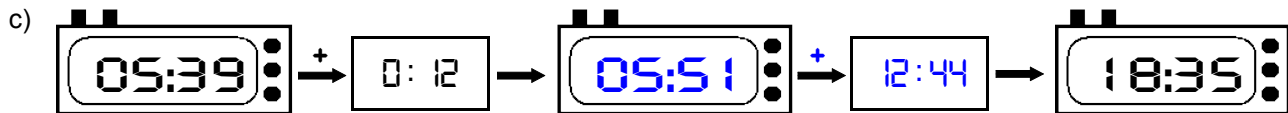
Ergänze die fehlenden Angaben: + oder - ?



Es soll immer der gleiche Tag sein!



Es soll immer der gleiche Tag sein!



3. Mal- und Geteiltaufgaben

Ergänze die fehlenden Angaben!

a)

• 7	
28	196
23	161
16	112
5	35

b)

• 9	
23	207
25	225
3	27
12	108

c)

• 8	
30	240
21	168
6	48
14	112

d)

• 6	
7	42
15	90
16	96
27	162

e)

• 4	
22	88
18	72
24	96
25	100

f)

• 5	
3	15
23	115
23	115
17	85

g)

• 3	
3	9
14	42
5	15
12	36

h)

• 7	
6	42
21	147
30	210
11	77