

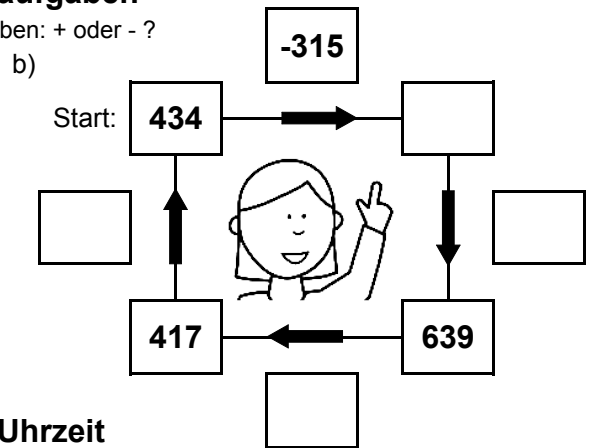
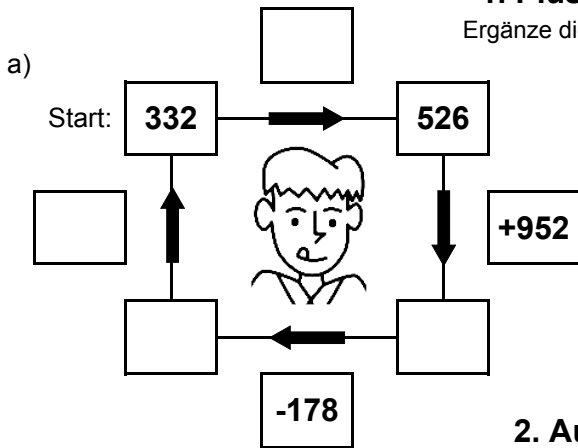


Bist du ein großer Rechenmeister?

Datum: _____

1. Plus- und Minusaufgaben

Ergänze die fehlenden Angaben: + oder - ?

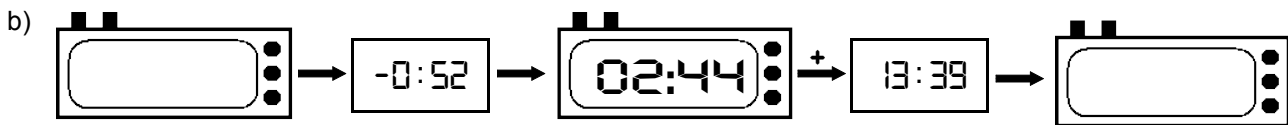


2. Aufgaben zur Uhrzeit

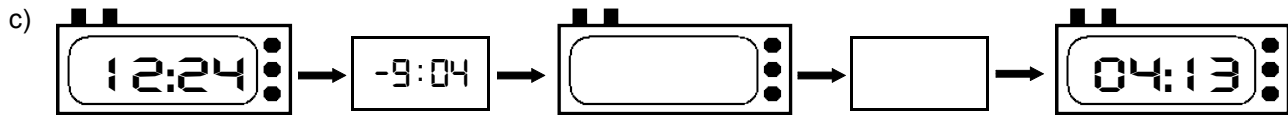
Ergänze die fehlenden Angaben: + oder - ?



Es soll immer der gleiche Tag sein!



Es soll immer der gleiche Tag sein!



3. Mal- und Geteiltaufgaben

Ergänze die fehlenden Angaben!

a)

• 7	
3	
	154
30	
	133

b)

• 9	
	36
21	
	36
28	

c)

• 8	
10	
	112
19	
	160

d)

• 6	
	174
26	
	60
30	

e)

• 4	
15	
	64
29	
	44

f)

• 5	
	125
21	
	110
19	

g)

• 3	
20	
	42
6	
	48

h)

• 7	
	112
11	
	203
8	

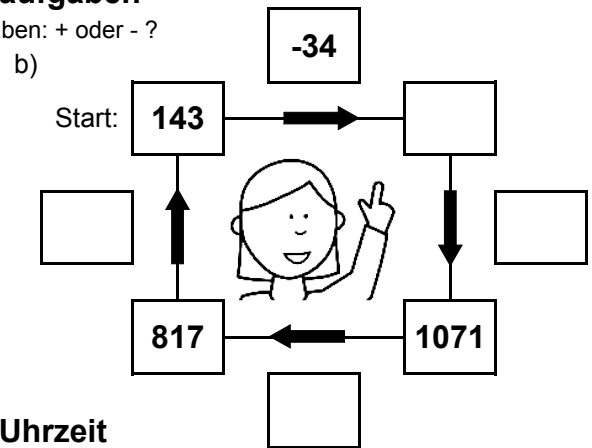
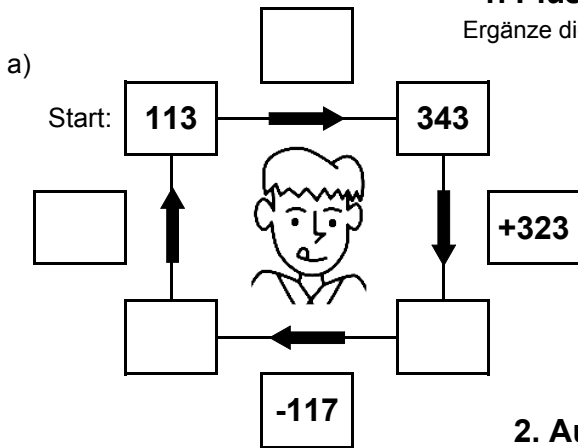


Bist du ein großer Rechenmeister?

Datum: _____

1. Plus- und Minusaufgaben

Ergänze die fehlenden Angaben: + oder - ?



2. Aufgaben zur Uhrzeit

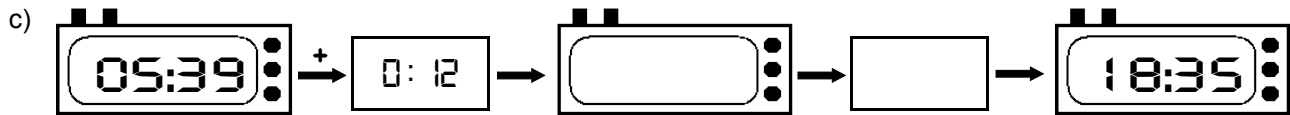
Ergänze die fehlenden Angaben: + oder - ?



Es soll immer der gleiche Tag sein!



Es soll immer der gleiche Tag sein!



3. Mal- und Geteiltaufgaben

Ergänze die fehlenden Angaben!

a)

• 7	
28	
	161
16	
	35

b)

• 9	
	207
25	
	27
12	

c)

• 8	
30	
	168
6	
	112

d)

• 6	
	42
15	
	96
27	

e)

• 4	
22	
	72
24	
	100

f)

• 5	
	15
23	
	115
17	

g)

• 3	
3	
	42
5	
	36

h)

• 7	
	42
21	
	210
11	