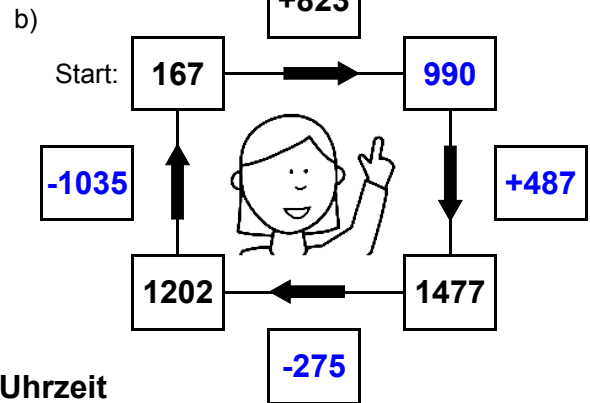
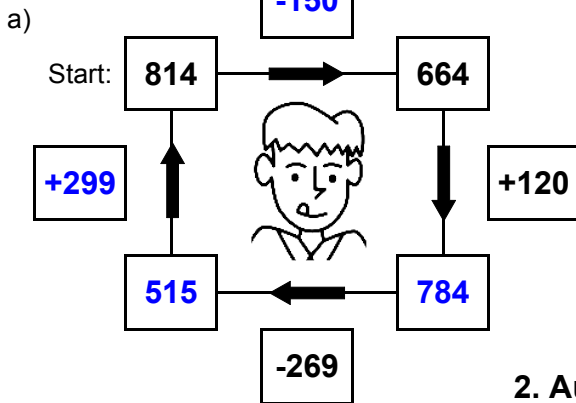




## 1. Plus- und Minusaufgaben

Ergänze die fehlenden Angaben: + oder - ?

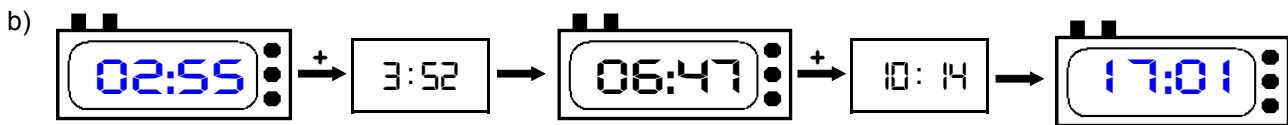


## 2. Aufgaben zur Uhrzeit

Ergänze die fehlenden Angaben: + oder - ?



Es soll immer der gleiche Tag sein!



Es soll immer der gleiche Tag sein!



## 3. Mal- und Geteiltaufgaben

Ergänze die fehlenden Angaben!

a)

• 7	
28	196
10	70
6	42
22	154

b)

• 9	
16	144
28	252
6	54
26	234

c)

• 8	
6	48
19	152
29	232
4	32

d)

• 6	
3	18
11	66
15	90
21	126

e)

• 4	
26	104
9	36
7	28
12	48

f)

• 5	
14	70
3	15
19	95
11	55

g)

• 3	
24	72
18	54
21	63
29	87

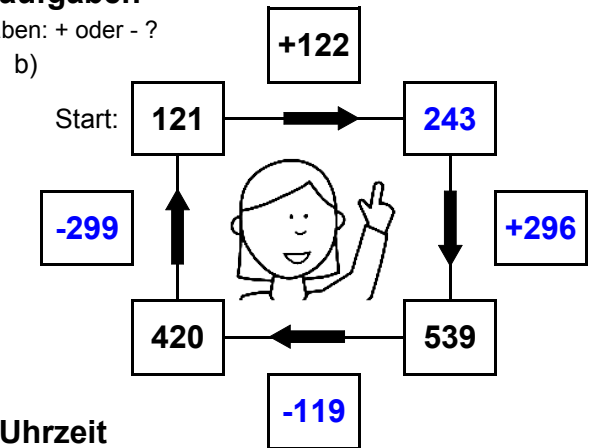
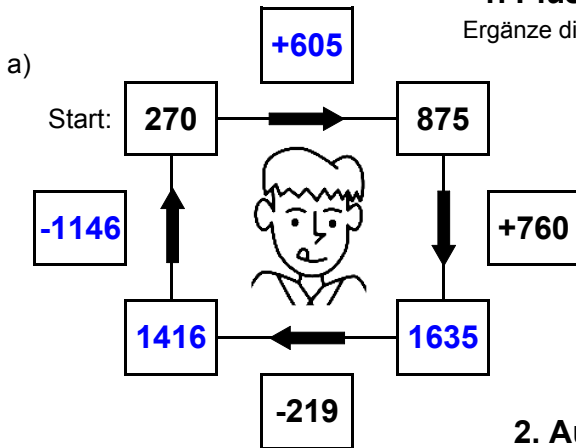
h)

• 7	
21	147
27	189
14	98
19	133



## 1. Plus- und Minusaufgaben

Ergänze die fehlenden Angaben: + oder - ?



## 2. Aufgaben zur Uhrzeit

Ergänze die fehlenden Angaben: + oder - ?



Es soll immer der gleiche Tag sein!



Es soll immer der gleiche Tag sein!



## 3. Mal- und Geteiltaufgaben

Ergänze die fehlenden Angaben!

a)

• 7	
10	70
23	161
26	182
5	35

b)

• 9	
28	252
14	126
23	207
14	126

c)

• 8	
24	192
11	88
30	240
9	72

d)

• 6	
3	18
28	168
26	156
20	120

e)

• 4	
3	12
8	32
9	36
21	84

f)

• 5	
9	45
4	20
21	105
19	95

g)

• 3	
30	90
30	90
25	75
7	21

h)

• 7	
13	91
28	196
24	168
17	119