

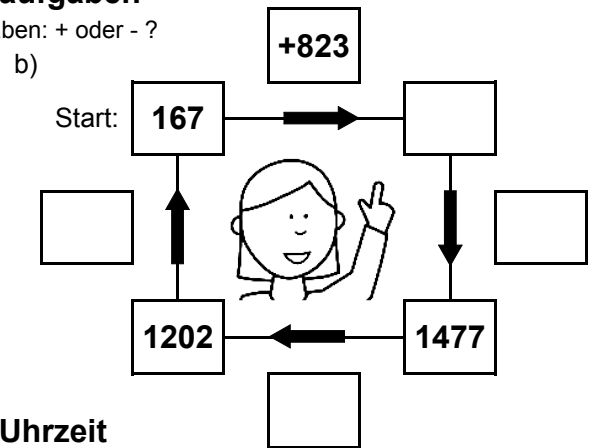
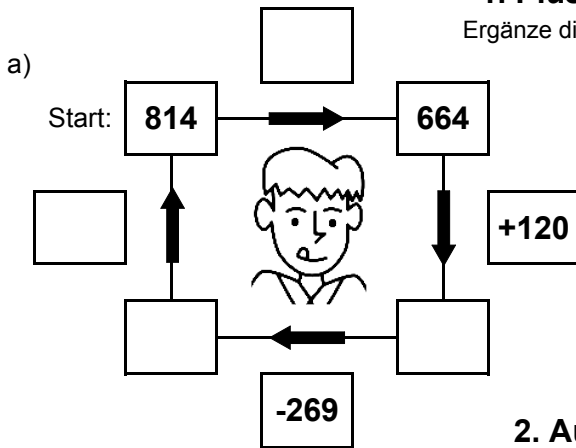


Bist du ein großer Rechenmeister?

Datum: _____

1. Plus- und Minusaufgaben

Ergänze die fehlenden Angaben: + oder - ?

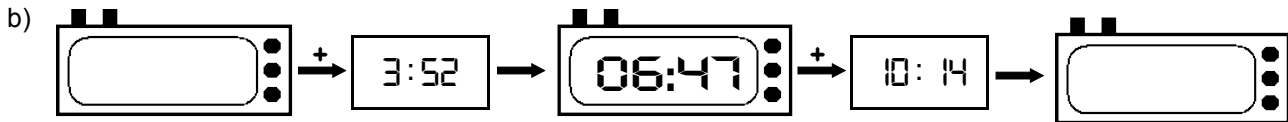


2. Aufgaben zur Uhrzeit

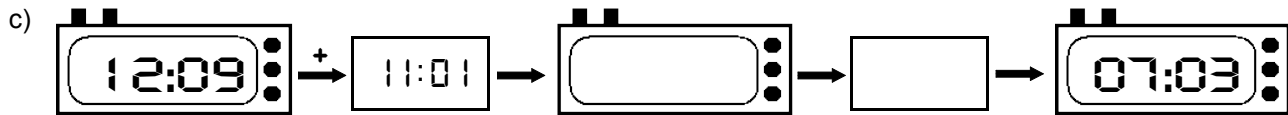
Ergänze die fehlenden Angaben: + oder - ?



Es soll immer der gleiche Tag sein!



Es soll immer der gleiche Tag sein!



3. Mal- und Geteiltaufgaben

Ergänze die fehlenden Angaben!

a)

• 7	
28	
	70
6	
	154

b)

• 9	
	144
28	
	54
26	

c)

• 8	
6	
	152
29	
	32

d)

• 6	
	18
11	
	90
21	

e)

• 4	
26	
	36
7	
	48

f)

• 5	
	70
3	
	95
11	

g)

• 3	
24	
	54
21	
	87

h)

• 7	
	147
27	
	98
19	

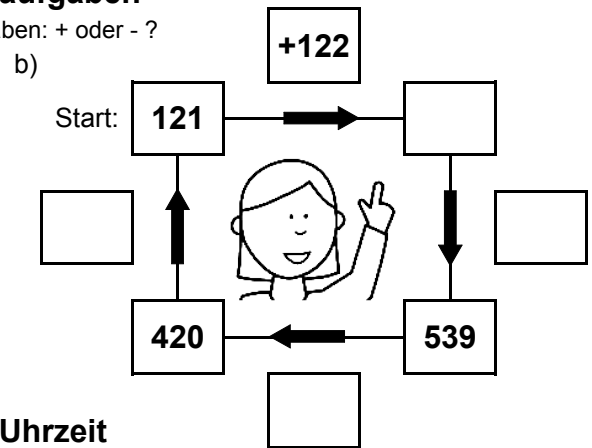
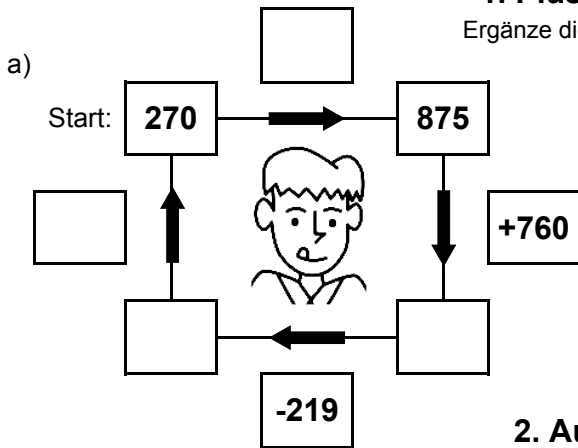


Bist du ein großer Rechenmeister?

Datum: _____

1. Plus- und Minusaufgaben

Ergänze die fehlenden Angaben: + oder - ?



2. Aufgaben zur Uhrzeit

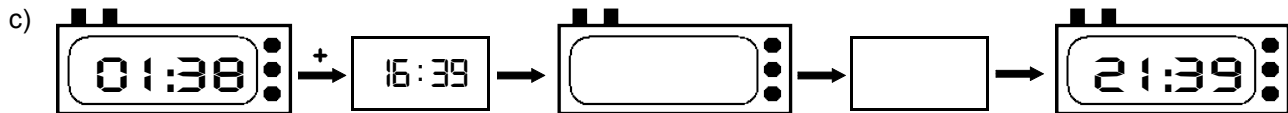
Ergänze die fehlenden Angaben: + oder - ?



Es soll immer der gleiche Tag sein!



Es soll immer der gleiche Tag sein!



3. Mal- und Geteiltaufgaben

Ergänze die fehlenden Angaben!

a)

• 7	
10	
	161
26	
	35

b)

• 9	
	252
14	
	207
14	

c)

• 8	
24	
	88
30	
	72

d)

• 6	
	18
28	
	156
20	

e)

• 4	
3	
	32
9	
	84

f)

• 5	
	45
4	
	105
19	

g)

• 3	
30	
	90
25	
	21

h)

• 7	
	91
28	
	168
17	