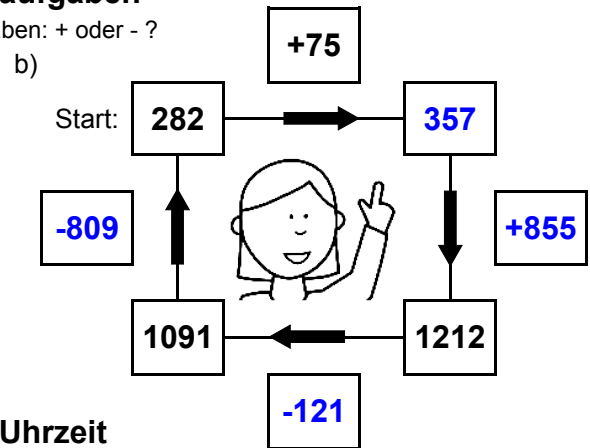
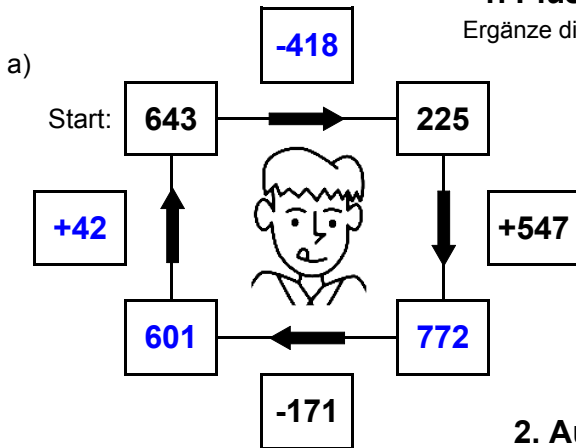




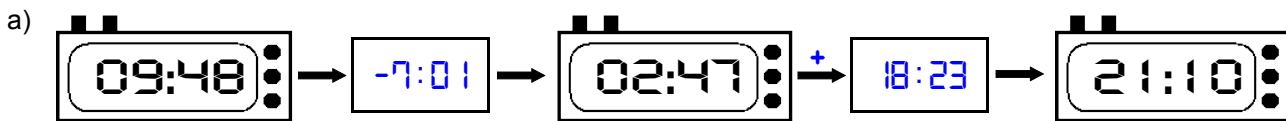
1. Plus- und Minusaufgaben

Ergänze die fehlenden Angaben: + oder - ?



2. Aufgaben zur Uhrzeit

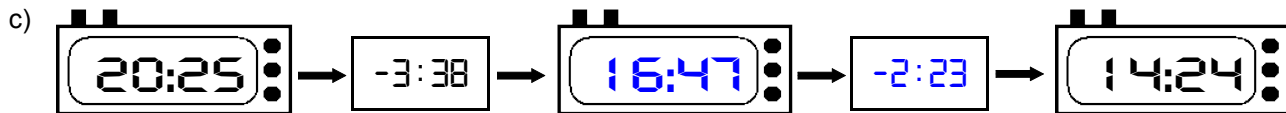
Ergänze die fehlenden Angaben: + oder - ?



Es soll immer der gleiche Tag sein!



Es soll immer der gleiche Tag sein!



3. Mal- und Geteiltaufgaben

Ergänze die fehlenden Angaben!

a)

• 7	
18	126
18	126
30	210
12	84

b)

• 9	
11	99
6	54
23	207
18	162

c)

• 8	
9	72
16	128
25	200
14	112

d)

• 6	
22	132
5	30
16	96
14	84

e)

• 4	
17	68
11	44
28	112
29	116

f)

• 5	
10	50
3	15
20	100
19	95

g)

• 3	
19	57
25	75
12	36
9	27

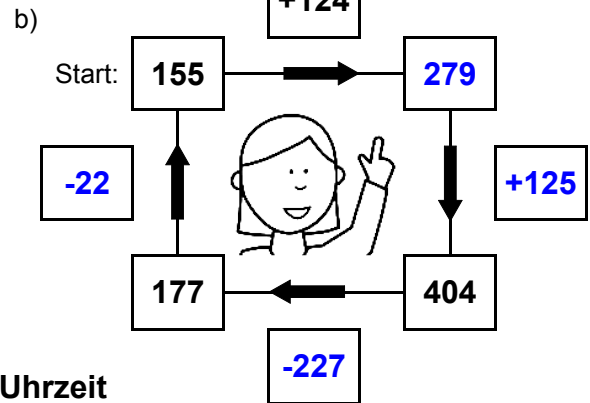
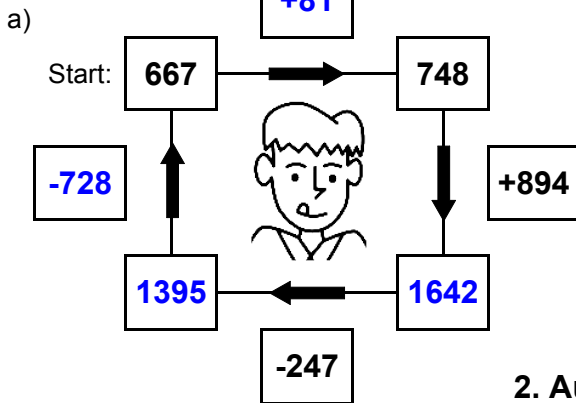
h)

• 7	
24	168
27	189
12	84
19	133



1. Plus- und Minusaufgaben

Ergänze die fehlenden Angaben: + oder - ?



2. Aufgaben zur Uhrzeit

Ergänze die fehlenden Angaben: + oder - ?



Es soll immer der gleiche Tag sein!



Es soll immer der gleiche Tag sein!



3. Mal- und Geteiltaufgaben

Ergänze die fehlenden Angaben!

a)

• 7	
17	119
5	35
12	84
11	77

b)

• 9	
3	27
12	108
19	171
3	27

c)

• 8	
28	224
16	128
11	88
20	160

d)

• 6	
26	156
29	174
27	162
16	96

e)

• 4	
27	108
5	20
30	120
12	48

f)

• 5	
19	95
22	110
11	55
11	55

g)

• 3	
23	69
6	18
19	57
23	69

h)

• 7	
11	77
23	161
21	147
14	98