

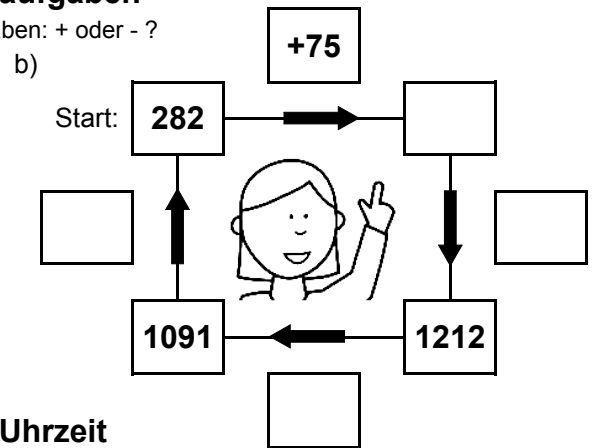
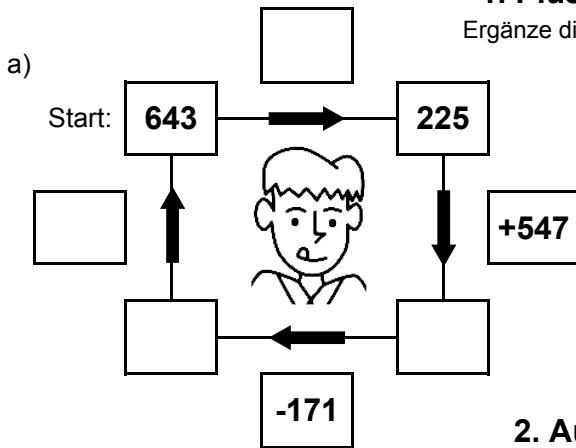


Bist du ein großer Rechenmeister?

Datum: _____

1. Plus- und Minusaufgaben

Ergänze die fehlenden Angaben: + oder - ?



2. Aufgaben zur Uhrzeit

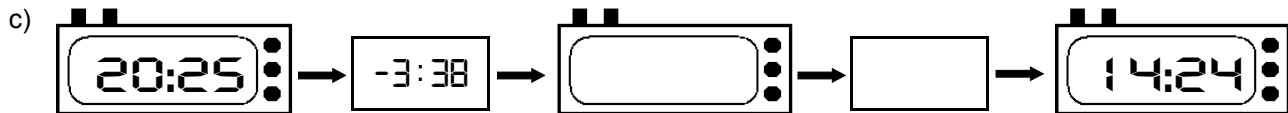
Ergänze die fehlenden Angaben: + oder - ?



Es soll immer der gleiche Tag sein!



Es soll immer der gleiche Tag sein!



3. Mal- und Geteiltaufgaben

Ergänze die fehlenden Angaben!

a)

• 7	
18	
	126
30	
	84

b)

• 9	
	99
6	
	207
18	

c)

• 8	
9	
	128
25	
	112

d)

• 6	
	132
5	
	96
14	

e)

• 4	
17	
	44
28	
	116

f)

• 5	
	50
3	
	100
19	

g)

• 3	
19	
	75
12	
	27

h)

• 7	
	168
27	
	84
19	

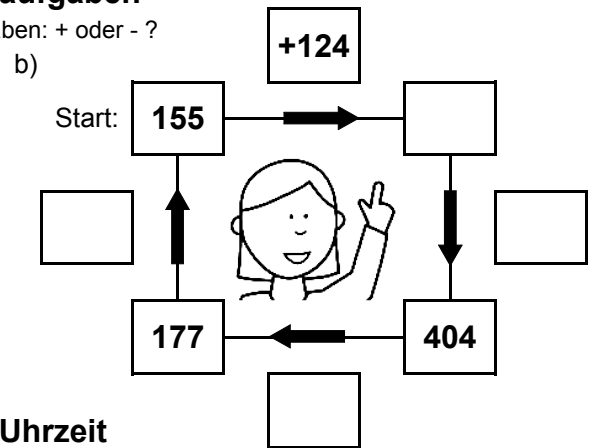
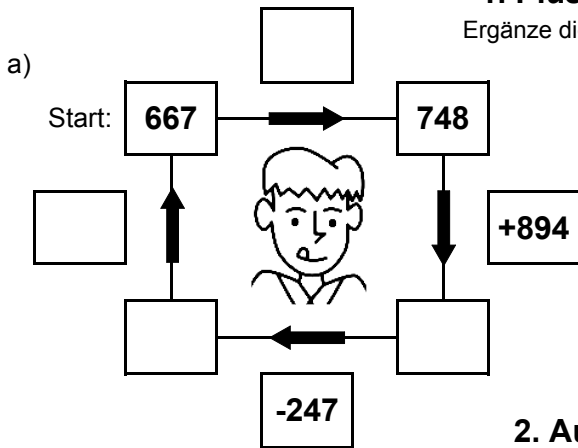


Bist du ein großer Rechenmeister?

Datum: _____

1. Plus- und Minusaufgaben

Ergänze die fehlenden Angaben: + oder - ?



2. Aufgaben zur Uhrzeit

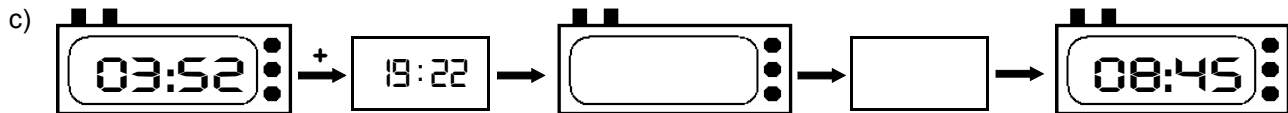
Ergänze die fehlenden Angaben: + oder - ?



Es soll immer der gleiche Tag sein!



Es soll immer der gleiche Tag sein!



3. Mal- und Geteiltaufgaben

Ergänze die fehlenden Angaben!

a)

• 7	
17	
	35
12	
	77

b)

• 9	
	27
12	
	171
3	

c)

• 8	
28	
	128
11	
	160

d)

• 6	
	156
29	
	162
16	

e)

• 4	
27	
	20
30	
	48

f)

• 5	
	95
22	
	55
11	

g)

• 3	
23	
	18
19	
	69

h)

• 7	
	77
23	
	147
14	