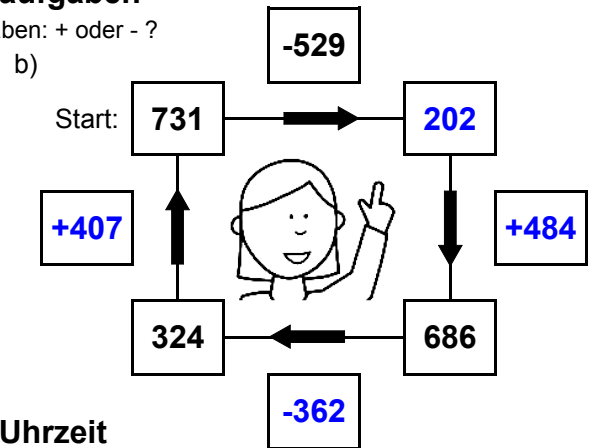
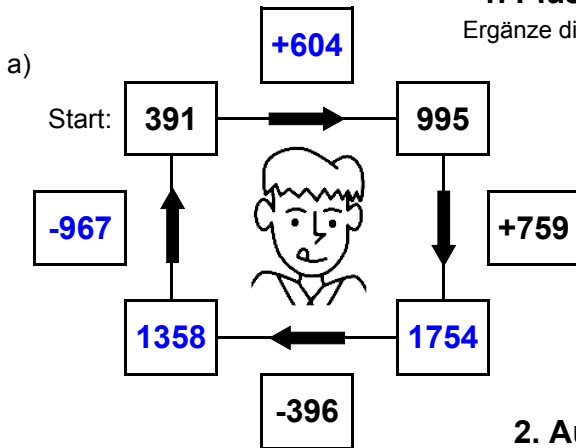




1. Plus- und Minusaufgaben

Ergänze die fehlenden Angaben: + oder - ?



2. Aufgaben zur Uhrzeit

Ergänze die fehlenden Angaben: + oder - ?



Es soll immer der gleiche Tag sein!



Es soll immer der gleiche Tag sein!



3. Mal- und Geteiltaufgaben

Ergänze die fehlenden Angaben!

a)

• 7	
4	28
29	203
17	119
26	182

b)

• 9	
21	189
28	252
11	99
29	261

c)

• 8	
20	160
17	136
4	32
27	216

d)

• 6	
15	90
8	48
10	60
20	120

e)

• 4	
7	28
4	16
15	60
12	48

f)

• 5	
7	35
15	75
27	135
11	55

g)

• 3	
10	30
6	18
27	81
10	30

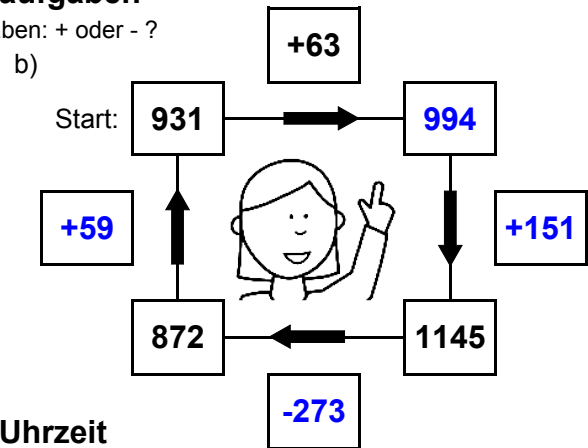
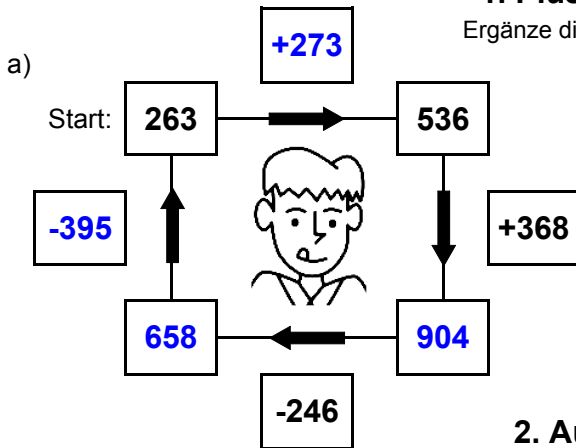
h)

• 7	
4	28
26	182
8	56
7	49



1. Plus- und Minusaufgaben

Ergänze die fehlenden Angaben: + oder - ?

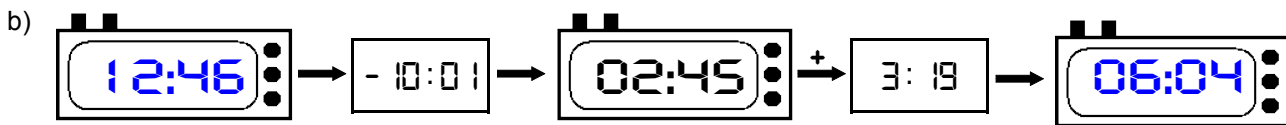


2. Aufgaben zur Uhrzeit

Ergänze die fehlenden Angaben: + oder - ?



Es soll immer der gleiche Tag sein!



Es soll immer der gleiche Tag sein!



3. Mal- und Geteiltaufgaben

Ergänze die fehlenden Angaben!

a)

• 7	
29	203
25	175
26	182
14	98

b)

• 9	
10	90
18	162
21	189
15	135

c)

• 8	
7	56
10	80
13	104
14	112

d)

• 6	
26	156
16	96
7	42
19	114

e)

• 4	
29	116
12	48
5	20
19	76

f)

• 5	
27	135
22	110
13	65
4	20

g)

• 3	
4	12
11	33
13	39
20	60

h)

• 7	
5	35
25	175
26	182
19	133