

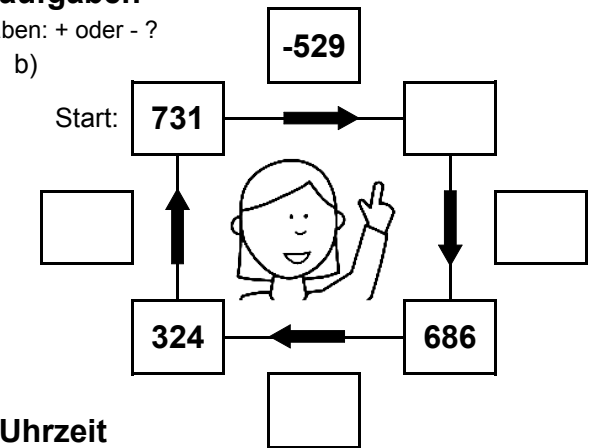
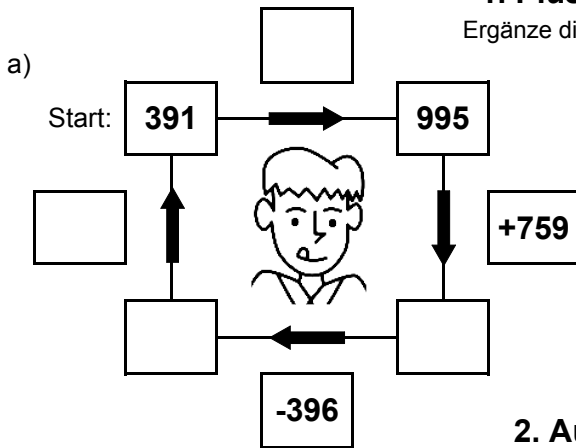


Bist du ein großer Rechenmeister?

Datum: \_\_\_\_\_

## 1. Plus- und Minusaufgaben

Ergänze die fehlenden Angaben: + oder - ?



## 2. Aufgaben zur Uhrzeit

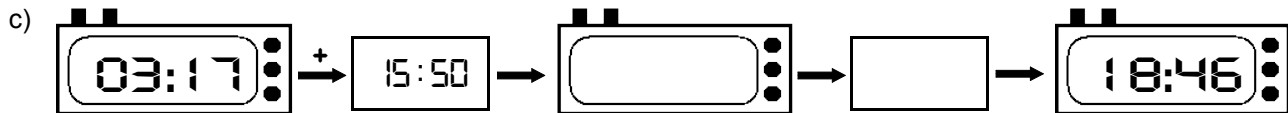
Ergänze die fehlenden Angaben: + oder - ?



Es soll immer der gleiche Tag sein!



Es soll immer der gleiche Tag sein!



## 3. Mal- und Geteiltaufgaben

Ergänze die fehlenden Angaben!

a)

• 7	
4	
	203
17	
	182

b)

• 9	
	189
28	
	99
29	

c)

• 8	
20	
	136
4	
	216

d)

• 6	
	90
8	
	60
20	

e)

• 4	
7	
	16
15	
	48

f)

• 5	
	35
15	
	135
11	

g)

• 3	
10	
	18
27	
	30

h)

• 7	
	28
26	
	56
7	

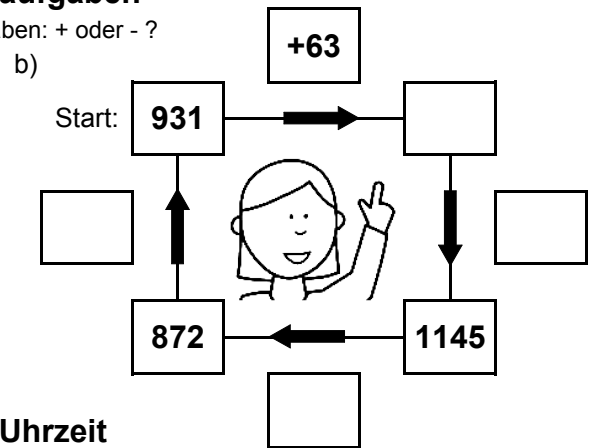
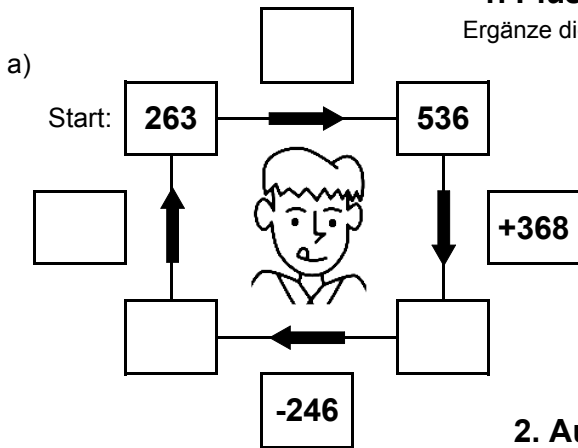


Bist du ein großer Rechenmeister?

Datum: \_\_\_\_\_

## 1. Plus- und Minusaufgaben

Ergänze die fehlenden Angaben: + oder - ?

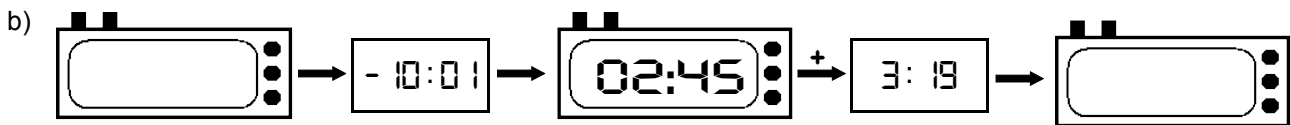


## 2. Aufgaben zur Uhrzeit

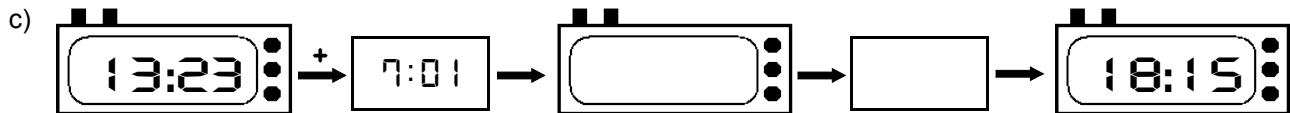
Ergänze die fehlenden Angaben: + oder - ?



Es soll immer der gleiche Tag sein!



Es soll immer der gleiche Tag sein!



## 3. Mal- und Geteiltaufgaben

Ergänze die fehlenden Angaben!

a)

• 7	
29	
	175
26	
	98

b)

• 9	
	90
18	
	189
15	

c)

• 8	
7	
	80
13	
	112

d)

• 6	
	156
16	
	42
19	

e)

• 4	
29	
	48
5	
	76

f)

• 5	
	135
22	
	65
4	

g)

• 3	
4	
	33
13	
	60

h)

• 7	
	35
25	
	182
19	