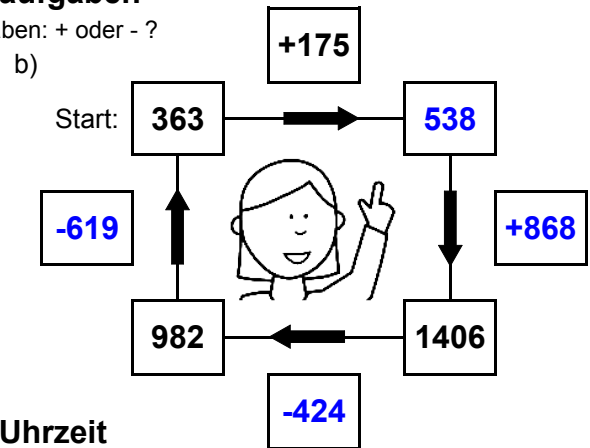
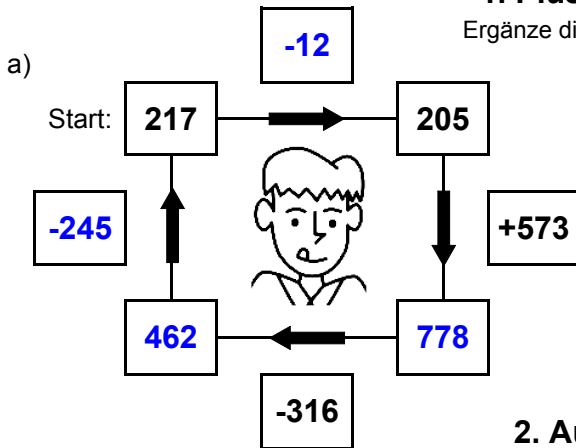




1. Plus- und Minusaufgaben

Ergänze die fehlenden Angaben: + oder - ?



2. Aufgaben zur Uhrzeit

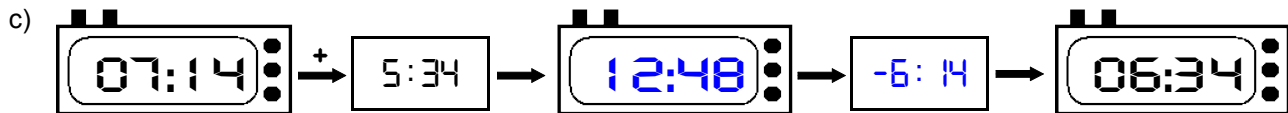
Ergänze die fehlenden Angaben: + oder - ?



Es soll immer der gleiche Tag sein!



Es soll immer der gleiche Tag sein!



3. Mal- und Geteiltaufgaben

Ergänze die fehlenden Angaben!

a)

• 7	
11	77
10	70
18	126
16	112

b)

• 9	
13	117
16	144
14	126
24	216

c)

• 8	
18	144
13	104
9	72
27	216

d)

• 6	
12	72
22	132
7	42
3	18

e)

• 4	
25	100
21	84
9	36
28	112

f)

• 5	
18	90
15	75
4	20
24	120

g)

• 3	
24	72
6	18
27	81
17	51

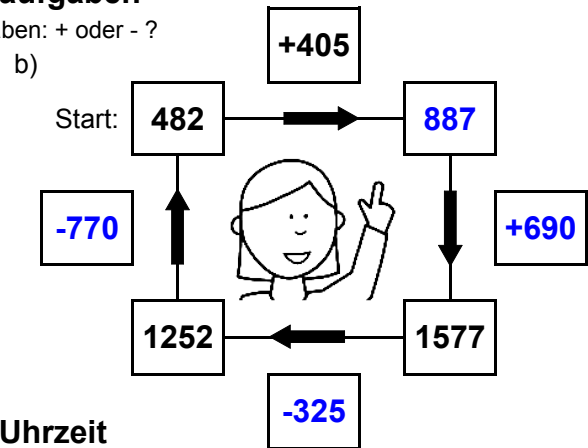
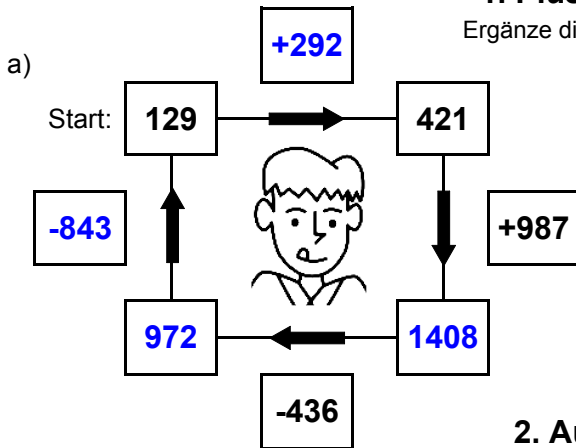
h)

• 7	
23	161
16	112
24	168
23	161



1. Plus- und Minusaufgaben

Ergänze die fehlenden Angaben: + oder - ?



2. Aufgaben zur Uhrzeit

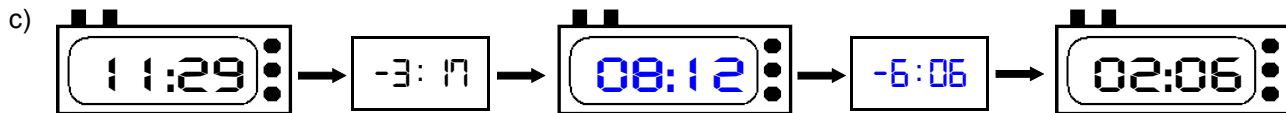
Ergänze die fehlenden Angaben: + oder - ?



Es soll immer der gleiche Tag sein!



Es soll immer der gleiche Tag sein!



3. Mal- und Geteiltaufgaben

Ergänze die fehlenden Angaben!

a)

• 7	
27	189
23	161
6	42
23	161

b)

• 9	
29	261
9	81
20	180
4	36

c)

• 8	
18	144
5	40
28	224
30	240

d)

• 6	
6	36
19	114
22	132
18	108

e)

• 4	
20	80
3	12
19	76
26	104

f)

• 5	
16	80
3	15
27	135
30	150

g)

• 3	
14	42
24	72
5	15
18	54

h)

• 7	
23	161
14	98
27	189
28	196