

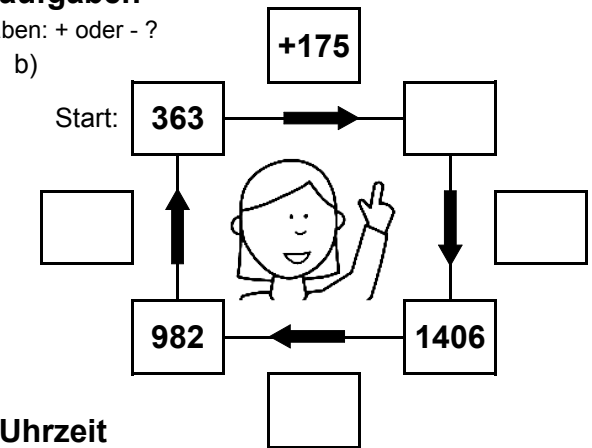
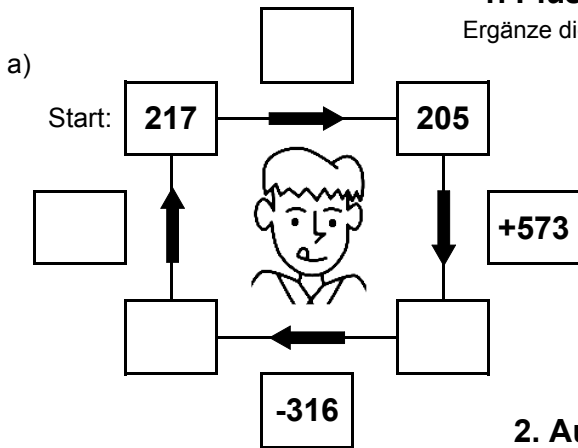


Bist du ein großer Rechenmeister?

Datum: \_\_\_\_\_

## 1. Plus- und Minusaufgaben

Ergänze die fehlenden Angaben: + oder - ?



## 2. Aufgaben zur Uhrzeit

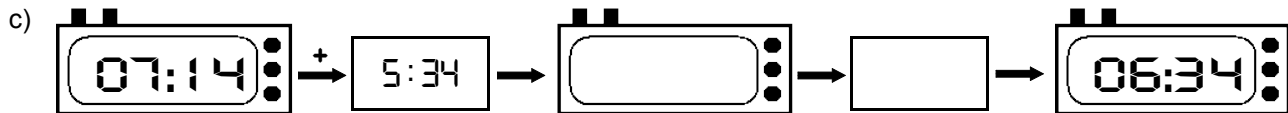
Ergänze die fehlenden Angaben: + oder - ?



Es soll immer der gleiche Tag sein!



Es soll immer der gleiche Tag sein!



## 3. Mal- und Geteiltaufgaben

Ergänze die fehlenden Angaben!

a)

• 7	
11	
	70
18	
	112

b)

• 9	
	117
16	
	126
24	

c)

• 8	
18	
	104
9	
	216

d)

• 6	
	72
22	
	42
3	

e)

• 4	
25	
	84
9	
	112

f)

• 5	
	90
15	
	20
24	

g)

• 3	
24	
	18
27	
	51

h)

• 7	
	161
16	
	168
23	

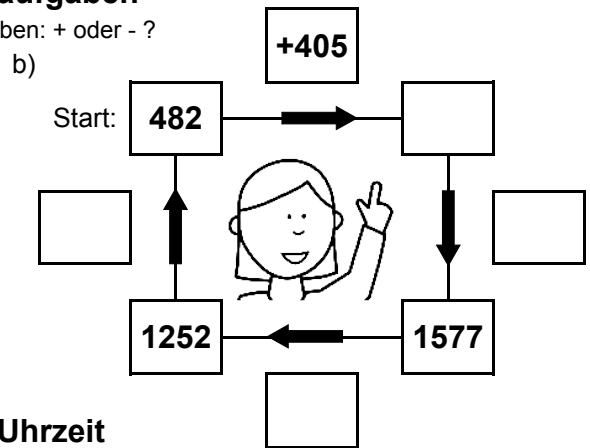
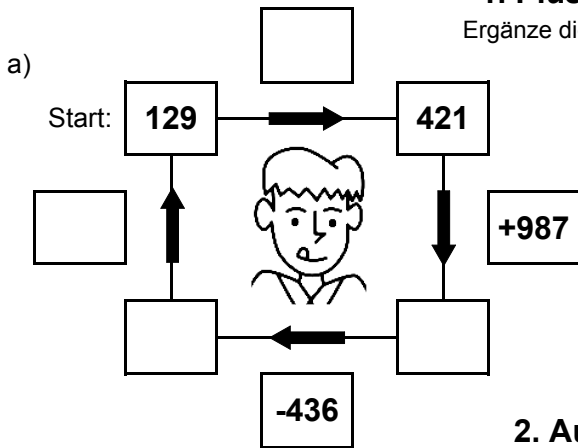


Bist du ein großer Rechenmeister?

Datum: \_\_\_\_\_

## 1. Plus- und Minusaufgaben

Ergänze die fehlenden Angaben: + oder - ?



## 2. Aufgaben zur Uhrzeit

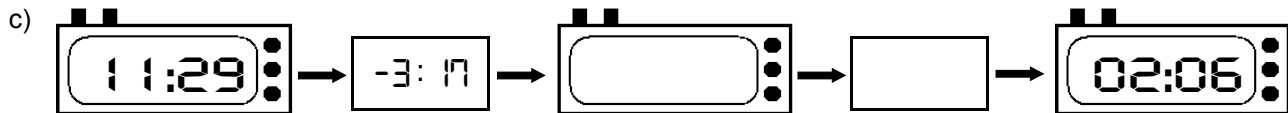
Ergänze die fehlenden Angaben: + oder - ?



Es soll immer der gleiche Tag sein!



Es soll immer der gleiche Tag sein!



## 3. Mal- und Geteiltaufgaben

Ergänze die fehlenden Angaben!

a)

• 7	
27	
	161
6	
	161

b)

• 9	
	261
9	
	180
4	

c)

• 8	
18	
	40
28	
	240

d)

• 6	
	36
19	
	132
18	

e)

• 4	
20	
	12
19	
	104

f)

• 5	
	80
3	
	135
30	

g)

• 3	
14	
	72
5	
	54

h)

• 7	
	161
14	
	189
28	