

# Rechenmeister, Blatt 17

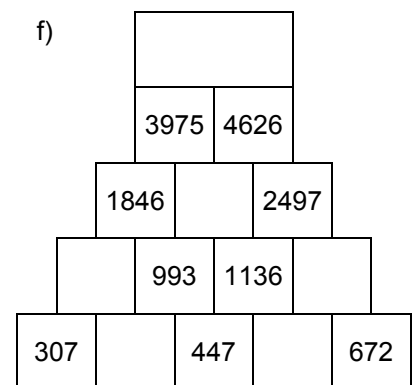
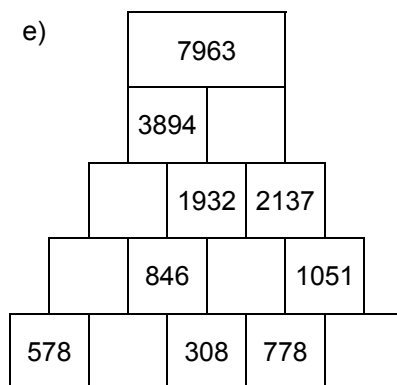
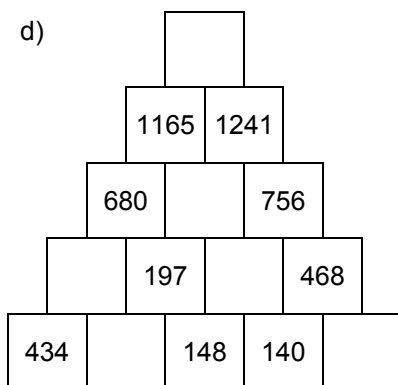
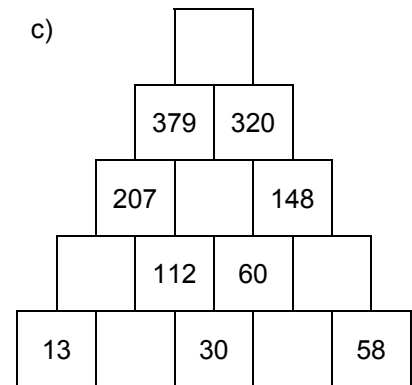
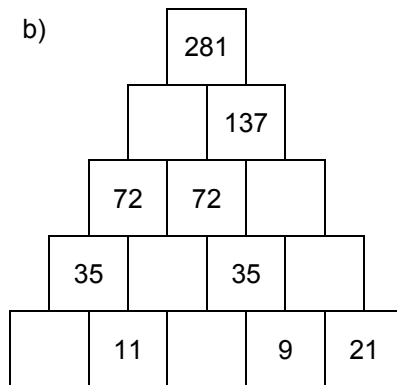
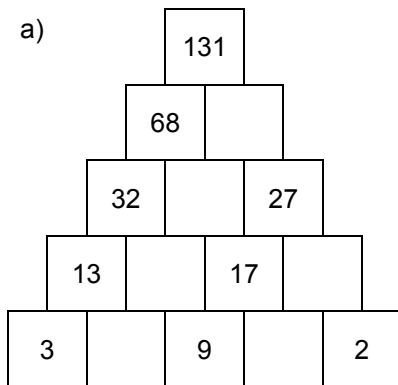
Bist du ein großer Rechenmeister?

Name: \_\_\_\_\_, 4a

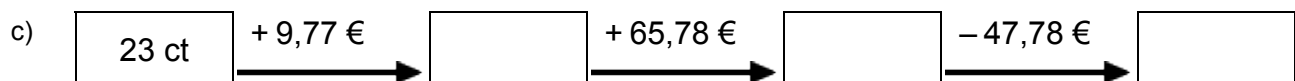
Datum: \_\_\_\_\_



## 1. Rechenpyramiden: Immer 2 Steine werden nach oben zum Mittelstein addiert. Ergänze die fehlenden Zahlen!



## 2. Meter, Kilometer, Gramm, Kilogramm, Euro: Ergänze die fehlenden Werte!



## 3. Einmaleins: Ergänze die fehlenden Werte!

a)

	• 7	• 5	• 4	• 6	• 2	• 3
3						
8						
6						
4						
9						
7						
5						

b)

	• 5	• 6	• 2	• 4	• 3	• 7
15						
11						
12						
14						
17						
16						
13						

# Rechenmeister, Blatt 18

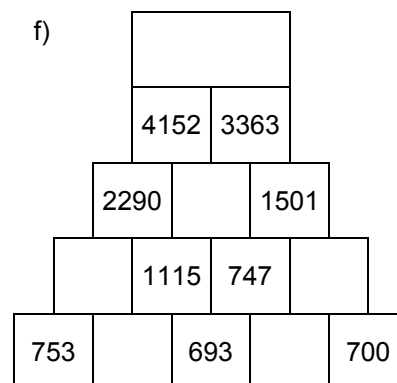
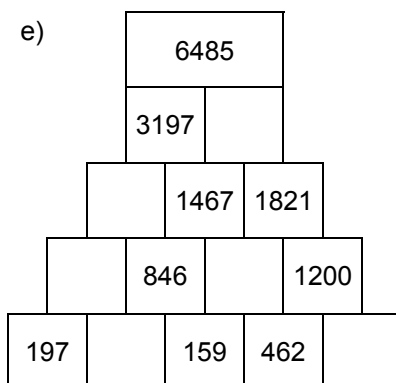
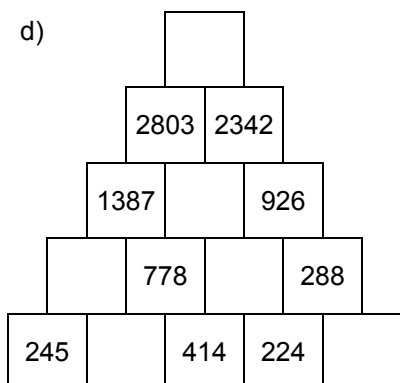
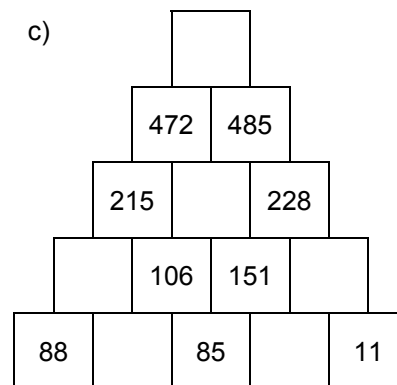
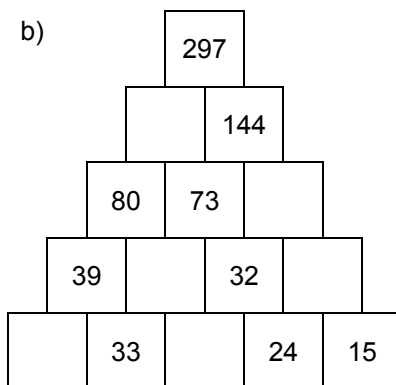
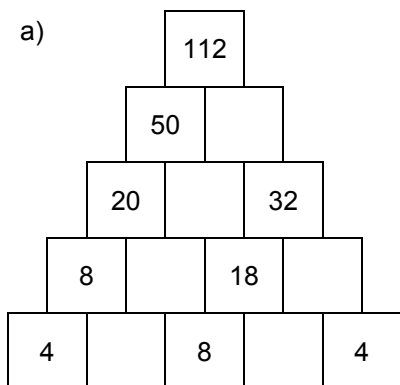
Bist du ein großer Rechenmeister?

Name: \_\_\_\_\_, 4a

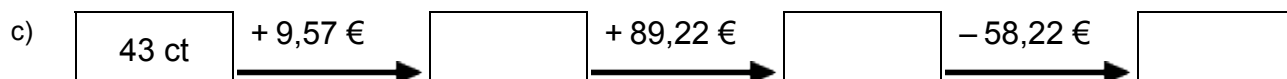
Datum: \_\_\_\_\_



## 1. Rechenpyramiden: Immer 2 Steine werden nach oben zum Mittelstein addiert. Ergänze die fehlenden Zahlen!



## 2. Meter, Kilometer, Gramm, Kilogramm, Euro: Ergänze die fehlenden Werte!



## 3. Einmaleins: Ergänze die fehlenden Werte!

a)

	• 7	• 3	• 6	• 5	• 4	• 2
8						
4						
5						
6						
3						
9						
7						

b)

	• 2	• 4	• 3	• 6	• 5	• 7
16						
15						
17						
11						
14						
13						
12						