

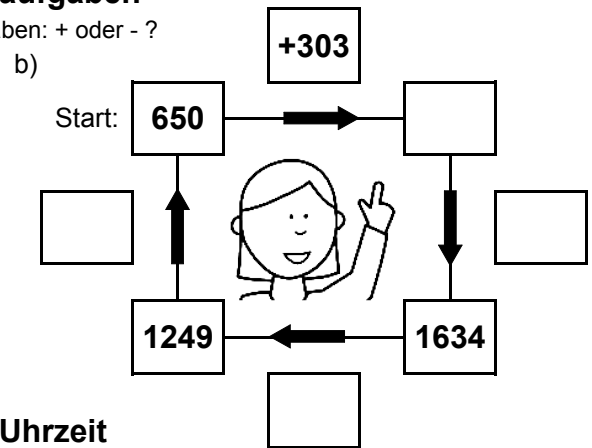
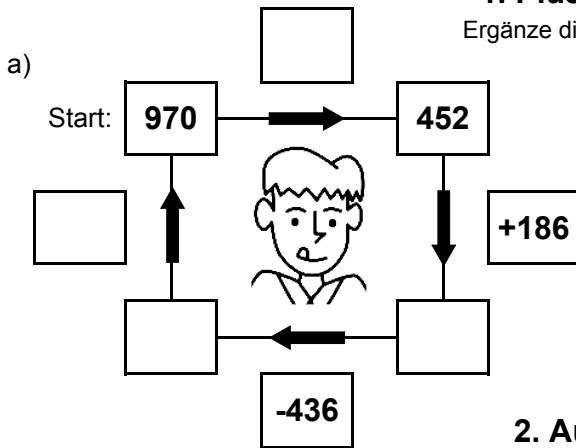


Bist du ein großer Rechenmeister?

Datum: _____

1. Plus- und Minusaufgaben

Ergänze die fehlenden Angaben: + oder - ?



2. Aufgaben zur Uhrzeit

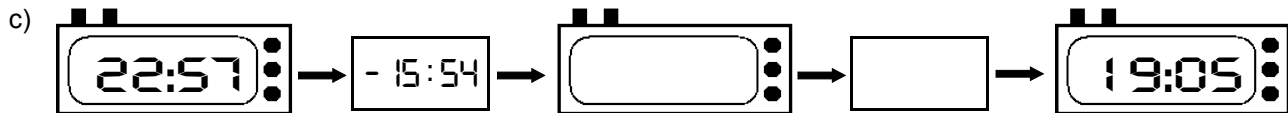
Ergänze die fehlenden Angaben: + oder - ?



Es soll immer der gleiche Tag sein!



Es soll immer der gleiche Tag sein!



3. Mal- und Geteiltaufgaben

Ergänze die fehlenden Angaben!

a)

• 7	
28	
	56
7	
	182

b)

• 9	
	207
16	
	153
29	

c)

• 8	
9	
	128
22	
	184

d)

• 6	
	174
25	
	78
18	

e)

• 4	
23	
	80
14	
	16

f)

• 5	
	80
16	
	80
21	

g)

• 3	
19	
	18
18	
	54

h)

• 7	
	42
30	
	21
13	

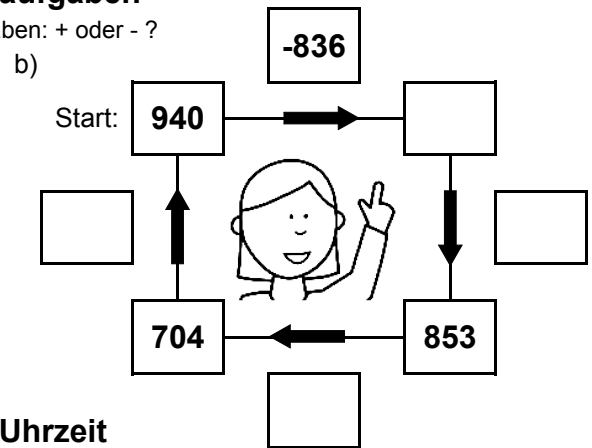
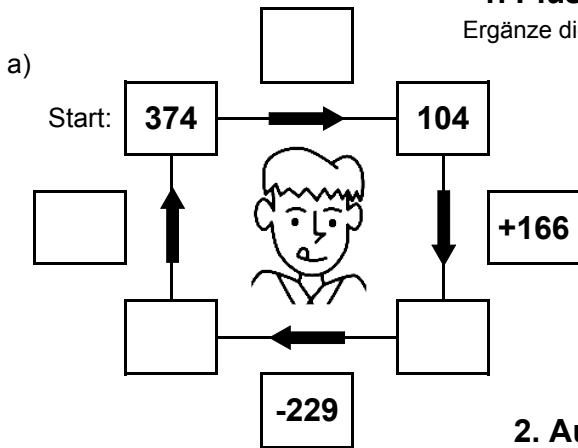


Bist du ein großer Rechenmeister?

Datum: _____

1. Plus- und Minusaufgaben

Ergänze die fehlenden Angaben: + oder - ?



2. Aufgaben zur Uhrzeit

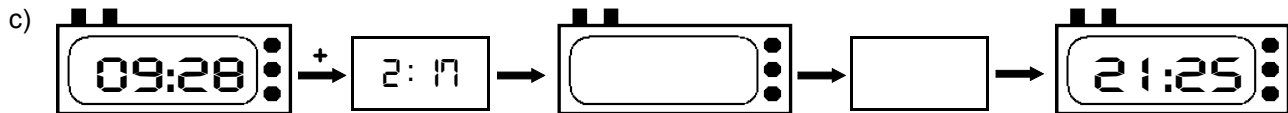
Ergänze die fehlenden Angaben: + oder - ?



Es soll immer der gleiche Tag sein!



Es soll immer der gleiche Tag sein!



3. Mal- und Geteiltaufgaben

Ergänze die fehlenden Angaben!

a)

• 7	
13	
	203
15	
	42

b)

• 9	
	99
20	
	63
13	

c)

• 8	
23	
	104
3	
	128

d)

• 6	
	108
15	
	162
23	

e)

• 4	
15	
	68
23	
	16

f)

• 5	
	45
6	
	40
26	

g)

• 3	
26	
	33
19	
	30

h)

• 7	
	196
25	
	112
30	