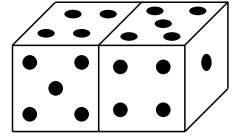


7. Beim Sportunterricht waren wir heute 24 Kinder, und zwar zwei Mädchen mehr als Jungen. Wie viele Jungen waren beim Sport?

- (A) 8 (B) 10 (C) 11 (D) 14 (E) 15

8. Ein Spielwürfel hat auf seinen Seiten 1, 2, 3, 4, 5 und 6 Punkte. Die beiden Würfel auf dem Bild sind mit ihren 6-Punkt-Seiten zusammengeklebt. Wie viele Punkte sind auf allen anderen Seiten zusammen?



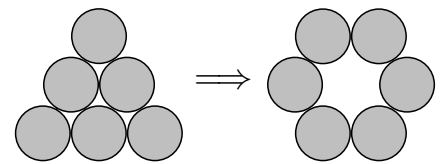
- (A) 15 (B) 18 (C) 20 (D) 25 (E) 30

4-Punkte-Aufgaben

9. Die Bremer Stadtmusikanten, Esel, Hund, Katze und Hahn, nähern sich dem Räuberhaus auf schmalen Pfad, einer hinter dem anderen. Der Esel läuft zwischen Hahn und Katze, der Hund trottet direkt hinter der Katze. In welcher Reihenfolge von vorn nach hinten laufen die Tiere?

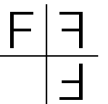
- (A) Hahn, Esel, Hund, Katze (B) Hund, Hahn, Esel, Katze (C) Esel, Katze, Hund, Hahn
(D) Hahn, Esel, Katze, Hund (E) Katze, Esel, Hund, Hahn

10. Sechs Münzen sind zu einem Dreieck gelegt. Wie viele davon müssen mindestens verschoben werden, um einen Kreis zu erhalten?



- (A) 1 (B) 2 (C) 3 (D) 4 (E) 5

11. Das F ist zweimal gespiegelt worden, zuerst nach rechts, dann nach unten:



Wir machen mit dem R dasselbe: $\frac{R}{|}$? Was gehört an die Stelle des Fragezeichens?

- (A) R (B) R (C) R (D) R (E) R

12. Gunda zählt auf dem Spielplatz ihre Schritte vom Klettergerüst bis zur Wippe. Es sind 11. Kay braucht für dieselbe Strecke 14 Schritte, David 12, Olga 10 und Hans 13. Wer von den fünf Kindern hat die längsten Schritte gemacht?

- (A) Kay (B) David (C) Olga (D) Hans (E) Gunda

13. Wenn die Summe in beiden Reihen gleich groß ist, welche Zahl gehört dann an die Stelle des ★?

- (A) 10 (B) 12 (C) 14 (D) 15 (E) 16

1	2	3	4	55
11	12	13	14	★