

Übungen zum Maßstab (2)

Name: _____

Datum: _____



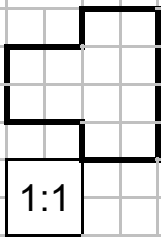
1 Berechne!

wirkliche Länge ---->	10 cm	3 m	6 m	12 m	15 m	25 m
Länge im Maßstab 2:1						
Länge im Maßstab 5:1						
Länge im Maßstab 10:1						
Länge im Maßstab 100:1						
Länge im Maßstab 4:1						
Länge im Maßstab 1000:1						

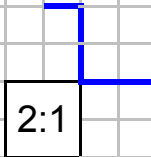


2 Zeichne jede Figur im Maßstab 2:1 und 3:1!

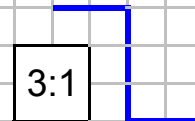
A



1:1

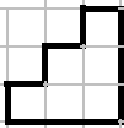


2:1



3:1

B



1:1

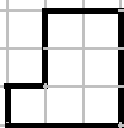


2:1



3:1

C



1:1



2:1

3:1

